



能力提升·期末测试卷二



(时间:60 分钟 满分:100 分)

题 号	一	二	三	四	五	六	七	总 分
得 分								

tián kòng tí

一、填空题。(每空 1 分,共 16 分)

1. $\square \bigcirc \odot \square \triangle \square$, 排在最前面的是(), 排在最后面的是()。
 \odot 的前面有()个图形, 后面有()个图形; 从右数第 5 个图形是()。

2. 钟面上有 12 个大格, 时针从 1 走到 5, 共走了()个小时。

3. 与 48 相邻的两个数是()()。67 后面第五个数是()。

4. 被减数是 76, 减数是 30, 差是()。

5. 一个加数是 30, 另一个加数是 40, 和是()。

6. 笔算两位数减两位数, 当个位不够减时, 就要向()位借(), 再和被减数个位上的数合起来去减, 如 $47-18=()$ 。

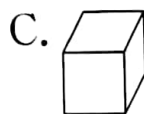
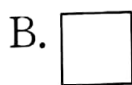

7. 按规律写数。

1 2 3 5 8 13 ()()。

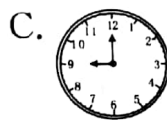
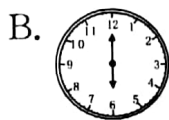

xuǎn zé tí

二、选择题。(每小题 2 分,共 8 分)

1. 下面图形中, () 是正方形。



2. 下列钟表,表示 6 时的是()。



3. 跟 30 最接近的是()。

A. 71

B. 17

C. 28

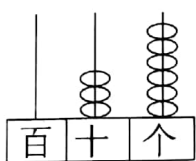
4. 要买右图中的玩具,可以用()。



1.5 元

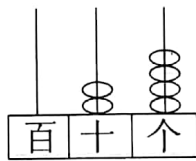
xiě yi xiě dú yi dú

三、写一写,读一读。(16 分)



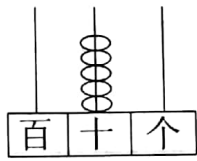
写作: _____

读作: _____



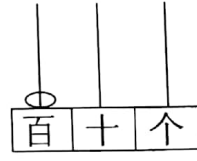
写作: _____

读作: _____



写作: _____

读作: _____



写作: _____

读作: _____

lián yi lián

四、连一连。(10 分)



$72+16$



$63+15$



$23+52$



$25+34$

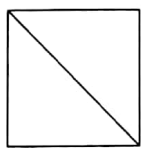


$58+41$

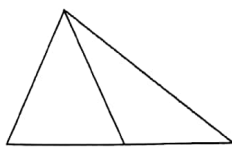
xuǎn zé zhèng què de tú xíng zài kuò hào lǐ dǎ

五、选择正确的图形,在括号里打“√”。(16 分)

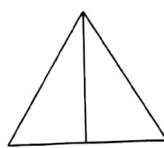
1. 用两个相同的三角形可以拼成哪种图形?



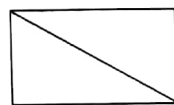
()



()



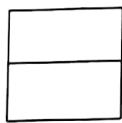
()




()



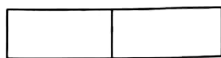
2. 用两个相同的长方形可以拼成哪种图形？



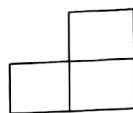
()



()



()



()

nǐ rèn wéi hé shì de dá àn xià miàn huà

六、你认为合适的答案下面画“√”。(8分)

1. 展柜上有 20 双男球鞋,女球鞋的数量比男球鞋多一些,女球鞋可能有多少双?

14 双	28 双	50 双

2. 饭店里有 18 名男服务员,女服务员的人数比男服务员多得多,女服务员有多少名?

26 名	36 名	50 名

jiě jué wèn tí

七、解决问题。(26分)

1. 一共收了多少个萝卜?(6分)

还剩25个。



我已经运走了9个萝卜。



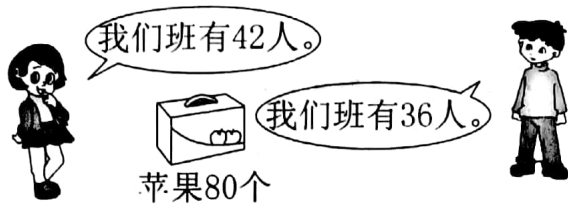
2. 丽丽给了小军 38 块糖后,还有 5 块。(6分)

她原有多少块糖?



由 扫描全能王 扫描创建

3. 发苹果。(5 分)



给他们两个班每人发一个,够不够?

4. (9 分)



47元



8元



54元



28元

(1) 买一顶帽子和一双鞋一共多少元?

(2) 上衣比裤子便宜多少元?

(3) 爸爸买一件上衣,付了 50 元,应找回多少元?

