



能力提升·期末测试卷三



(时间:60 分钟 满分:100 分)

题 号	一	二	三	四	五	六	总 分
得 分							

密

tián kòng tí

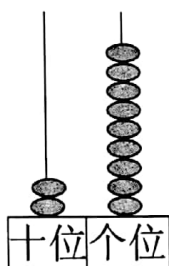
一、填空题。(每空 1 分,共 28 分)

1. 46 十位上的数是(),表示()个();个位上的数是(),表示()个()。

2. 由 8 个一和 7 个十组成的数是(),它后面的第五个数是()。

3. 与 90 相邻的两个数分别是()和()。

4. 如右图,如果在计数器的个位上添上一个珠子,那么这个数是();如果拨走一个珠子,那么这个数是();如果在计数器的十位上添上一个珠子,那么这个数是();如果拨走一个珠子,那么这个数最小是()。



5. 钟面上有()个数,有()针和()针。

6. 分针指向 12,时针指向 5,是()时;分针指向 12,时针指向 7,是()时。

7. 在括号里填上合适的数。

$$27 + () = 43$$

$$() + 25 = 50$$

$$32 + () = 59$$

$$63 - () = 36$$



封

线

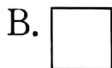
8. 把 56、72、39、40、18 这五个数按照从大到小的顺序排列。

() > () > () > () > ()

xiǎn zé tí

二、选择题。(10 分)

1. 下面图形中, () 是三角形。



2. 要买右图中的文具, 可以用()。



1.5 元

3. 下列钟表, 表示 6 时的是()。



4. 同学们排队, 从前面数, 小刚是第 5 人, 小英是第 9 人, 他俩之间有 () 人。

A. 3

B. 4

C. 5

5. 河北某小学向灾区捐款, 一年级捐了 65 元, 二年级比一年级多捐了 25 元, 二年级捐了多少钱? 正确的列式是()。

A. $62 - 25 = 40$ (元)

B. $65 + 25 = 90$ (元)

C. $65 - 25 + 65 = 105$ (元)

pàn duàn duì cuò duì de dǎ

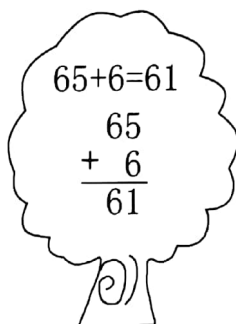
cuò de dǎ

bìng gǎi zhèng

三、判断对错, 对的打“√”, 错的打“×”, 并改正。(8 分)

1.

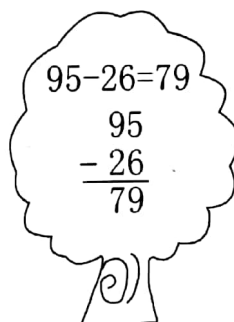
改正:



()

2.

改正:

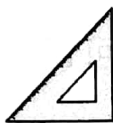
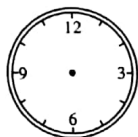
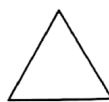
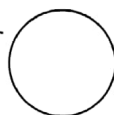



()



zhào yàng zì lián yì lián

四、照样子，连一连。(7分)



jì suàn tí

五、计算题。(19分)

1. 算一算。(7分)

$$5 \text{ 角} + 8 \text{ 角} = (\quad) \text{ 元} (\quad) \text{ 角}$$

$$1 \text{ 元} 2 \text{ 角} + 7 \text{ 角} = (\quad) \text{ 元} (\quad) \text{ 角}$$

$$1 \text{ 元} - 8 \text{ 角} = (\quad) \text{ 角}$$

$$8 \text{ 角} + 7 \text{ 角} = (\quad) \text{ 元} (\quad) \text{ 角}$$

$$5 \text{ 元} 4 \text{ 角} + 8 \text{ 角} = (\quad) \text{ 元} (\quad) \text{ 角}$$

$$1 \text{ 元} - 5 \text{ 角} = (\quad) \text{ 角}$$

$$6 \text{ 元} 2 \text{ 角} + 7 \text{ 角} = (\quad) \text{ 元} (\quad) \text{ 角}$$

$$8 \text{ 元} 9 \text{ 角} - 6 \text{ 角} = (\quad) \text{ 元} (\quad) \text{ 角}$$

2. 列竖式计算。(12分)

$$73 + 15 =$$

$$23 + 76 =$$

$$34 + 59 =$$

$$18 + 31 =$$

$$25 + 53 =$$

$$82 + 8 =$$



jiě jué wèn tí

六、解决问题。(28分)

1. 摩托车比汽车多几辆?(9分)



27辆



20辆

2. 买水果。(10分)



桃子56个



菠萝19个



梨27个

(1) 桃子和梨一共买了多少个?

(2) 再买多少个菠萝就和桃子同样多了?

3. 小丽的妈妈有100元,她要在下面的衣服中买一件上衣和一条裤子,你想让她怎样买? 应付多少钱?(至少写出买法)(7分)



47元



56元



28元



35元



29元



由 扫描全能王 扫描创建