



能力提升·期末测试卷五

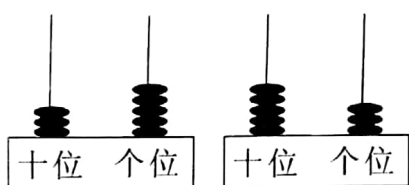
(时间:60 分钟 满分:100 分)

题 号	一	二	三	四	五	总 分
得 分						

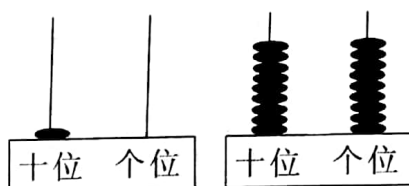
tián kòng tí

一、填空题。(每空 1 分,共 26 分)

1. 填数,并在下面的○里填上“>”“<”或“=”。



() ○ ()



() ○ ()

2. 与 79 相邻的两个数是()和()。

3. 3 角=()分

20 角=()元



1 元 7 角=()角





1 角 2 分=()分



15 角=()元()角 14 分=()角()分

4.



(1)  排在最(),  排在最()。

(2)  排在  的(),  排在  的()。


(3)  的前面是(),  的后面是()。



5. 100 里面有()个 10, 79 里面有()个十和()个一, 4 个一和 7 个十合起来是()。

shuǐ guǒ chāo shì lǐ yǒu xǔ duō shuǐ guǒ rú xià tú

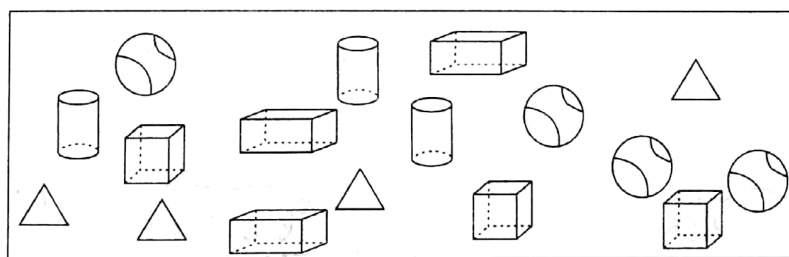
二、水果超市里有许多水果, 如下图: (13 分)



小朋友, 对照图请你说一说, 桃的下面是()和(), 苹果
的上面是()和(), 梨的左边是(), 梨的右边是
()。从上面数, 第()层放着桃; 从下面数, 第()层
放着葡萄。香蕉的下面有()和(), 番茄的左边是(),
()在香蕉的右边, ()在番茄的右边。

rèn yi rèn shǔ yì shǔ

三、认一认, 数一数。(12 分)



长方体有()个

正方体有()个

圆柱体有()个

三角形有()个

球有()个

一共有()个图形

jì suàn tí

四、计算题。(25 分)

1. 在括号里填上正确的数。(9 分)

$$72 + () = 92$$

$$20 + () = 54$$

$$() + 40 = 86$$

$$50 + 47 = ()$$

$$30 + () = 55$$

$$60 + () = 81$$

$$30 + () = 84$$

$$() + 39 = 99$$

$$30 + () = 47$$



2. 列竖式计算。(8分)

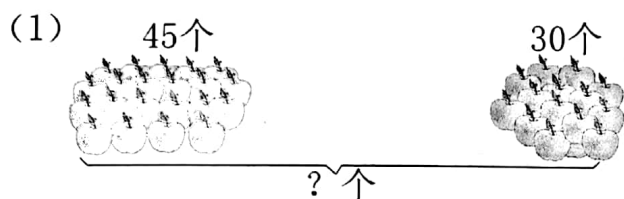
$47 + 8 =$

$83 - 6 =$

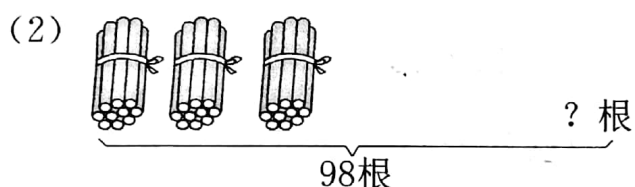
$79 + 5 =$

$23 - 5 =$

3. 看图列式计算。(8分)



$\square \bigcirc \square = \square (\text{个})$



$\square \bigcirc \square = \square (\text{根})$

jiě jué wèn tí

五、解决问题。(24分)

1. 一辆公交车上原有 18 人,在途中上来了 9 人,现在车上有多少人?(5分)

2.



小猴子弟弟



小猴子哥哥


(1) 小猴子哥哥吃了多少根香蕉?



(2)小猴子弟弟和小猴子哥哥一共吃了多少根香蕉?

3. 某小学一(1)班和一(2)班共有 49 人在做作业,其中一(1)班有 27 人在做作业,一(2)班有多少人在做作业?(5 分)

4. (8 分)



(1)一共有多少棵树?

(2)你还能提出什么问题?(最少两个)

