

邯郸 小学一年级第二学期期末考试









数学试卷

题号	一	二	三	四	五	六	总分
得分							

rèn shí zhōng biǎo

一、认识 钟 表。(共 12 分)

1. 连一连。(8 分)

			
	11时半	大约3时	
	4时	6时	
	10时半	快8时了	
	12时	大约2时	

2. 看图填空。(4 分)



聪聪 () 时写作业。



聪聪 () 时 () 分做操。



聪聪 () 时吃午饭。



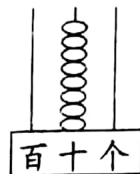
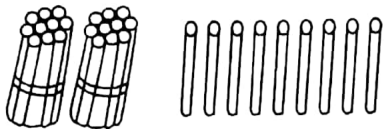
聪聪晚上 () 时 () 分睡觉。



rènzhēn lái tiánkòng

二、认真来填空。(共21分)

1.



()个十和()个一组成 这个数是(),它前面的数的数是(),读作()。 是(),后面的数是()。

2. 一袋洗衣粉7元5角,一条毛巾3元5角,买一袋洗衣粉和一条毛巾共需()元。妈妈给了售货员20元钱,应找回()元。

3. 教室里有38把椅子,有42名同学,还缺()把椅子。

4. 植树节到了,岩岩和妈妈一起到公园义务植树,她们种了24棵松树,37棵柏树,岩岩和妈妈一共种了()棵树。

5. 找规律,画一画。



6. 他们分别是谁? 请写上名字。

(1)小青在小云的右面。

(2)从右往左数,小江排第1位,

丫丫排第4位。




7. 汽车在小鸟的()面。

树在汽车的()面。

小鸟在花的()面。

花在树的()面。





suàn yí suàn


三、算一算。(共24分)

1. 小鸡回家。(直接写得数)(10分)




	$54 + 30 =$	$38 - 8 =$	$65 + 9 =$
$77 - 20 =$	$45 + 54 =$	$32 - 7 =$	$4 + 56 =$
$82 + 10 =$	$59 - 35 =$	$40 + 29 =$	

2. 我是小医生。(下面的计算都是错误的,请改正)(8分)




38
+42
70

改正:




48
+5
98

改正:



74
-66
2

改正:



80
-59
39

改正:


3. (6分)

加数	56	34	50
加数	27	46	18
和			

被减数	90	51	84
减数	18	6	15
差			

zǐ xì kàn tú shǔ yì shǔ tián yì tián

四、仔细看图，数一数，填一填。(共8分)

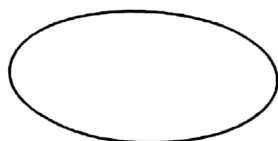


圆形有()个,
三角形有()个,
正方形有()个,
长方形有()个。

àn yāo qiú tián shù

五、按要求填数。(共10分)

8	55	24	73	62	60	17	86	100	58
---	----	----	----	----	----	----	----	-----	----



比50大比80小的数



小于50的数

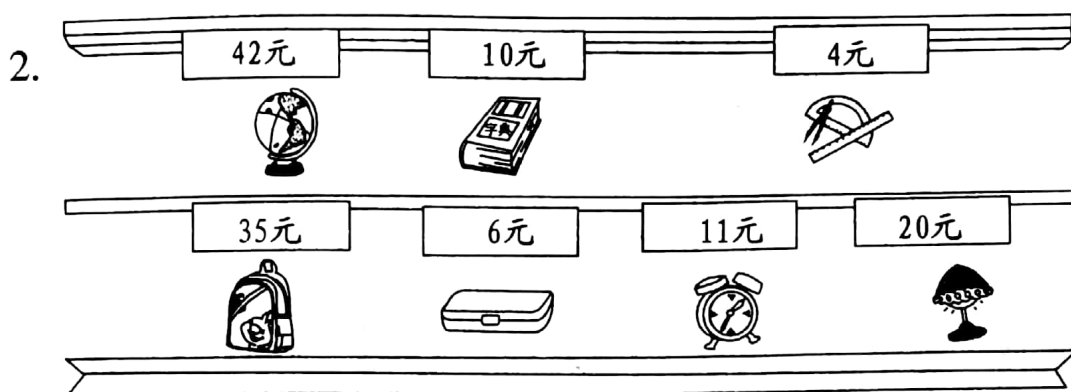


个位上是8的数



六、生活中的数学。(共 25 分)

1. 林林在三八妇女节那天给妈妈折了 15 只纸鹤,给老师折了 28 只纸鹤,林林一共折了多少只纸鹤?(4 分)



- (1)有 50 元钱,买一个  和一个 ,够不够?(4 分)

- (2)买一个  比买一本  多花多少钱?(4 分)

- (3)请你再提出一个问题并解答。(3 分)

3. 星期天,同学们去划船,青蛙船有 23 条,鸭子船比青蛙船多 18 条,鸭子船有多少条?(4 分)

4. 6 月 6 日是“全国爱眼日”,老师调查发现,一(1)班 50 名同学中有 11 名近视,一(1)班有多少名同学不近视?近视的同学比不近视的少多少名?(6 分)

