

2018—2019 年度第二学期期末质量测评

二年级数学 (冀教版)

卷首寄语：“信心是基石，拼搏是保障，拥有信心才能拥抱成功。”请集中精力，开动脑筋，发挥出你的聪明才智，取得优异的成绩！

本试卷总分 100 分，考试时间 60 分钟。

题号	一	二	三	四	五	六	总分
得分							

一、填空。(共 24 分)

- 量一支铅笔，从 5 厘米开始量到了 12 厘米，这支铅笔长（ ）厘米。
- 九百六十五写作（ ），这个数是由（ ）个百，（ ）个十，（ ）个一组成的。
- 在括号里填上合适的单位。



重 30（ ） 重 4（ ） 高 8（ ） 长 2（ ）

- 最大的三位数是（ ），最小的三位数是（ ），它们的差是（ ）。
- $\triangle + \bigcirc = 15$, $\triangle = \bigcirc + \bigcirc + \bigcirc + \bigcirc$, 那么 $\triangle =$ （ ）， $\bigcirc =$ （ ）。
- 一辆汽车从石家庄开往北京，9:10 出发，下午 1 时 45 分到达，路上用时（ ）。
- 眨一下眼睛大约用 1（ ），新闻联播播放的时长是 30（ ）。
- 括号里最大能填几？
 $() \times 6 < 32$ $() \times 9 < 60$ $26 > 5 \times ()$
- 有一堆棋子，按 $\bullet \bullet \bullet \bigcirc \bigcirc \bullet \bullet \bullet \bigcirc \bigcirc \dots$ 依次排列，第 29 颗棋子是（ ）色。
- 1 壶水的质量等于 3 瓶水的质量，1 瓶水的质量等于 4 杯水的质量，1 壶水的质量等于（ ）杯水的质量。



2. 竖式计算。（带*号的要验算）（12 分）

$$*295 + 199 =$$

$$*752 - 489 =$$

$$37 \div 7 =$$

3. 脱式计算。（9 分）


$$112 + 458 + 127$$

$$816 - (127 + 356)$$

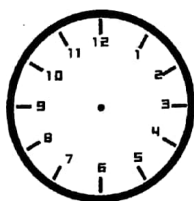
$$139 + 345 - 223$$

五、操作题。（共 17 分）

1. 在下面的方格纸上，画一个长方形、一个正方形和一个平行四边形。（6 分）



2. 在下面的钟面上画出时间，并计算经过的时间。（7 分）



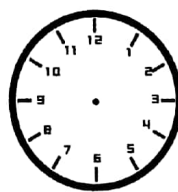
9:10

() 分



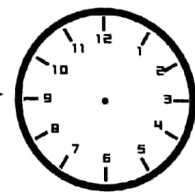
9:45

() 分



10:15

() 分



11:30

3. 明明家到学校 600 米，丽丽家到学校比明明家近一些，强强家到学校比明明家远得多。（4 分）（1）丽丽家到学校多远？在正确的下面画“○”。

（2）强强家到学校多远？在正确的下面画“□”。

120 米	900 米	683 米	551 米



六、应用题。(共 25 分)

1. 5 个小朋友交朋友, 每 2 个人握 1 次手, 一共要握多少次手? (5 分)

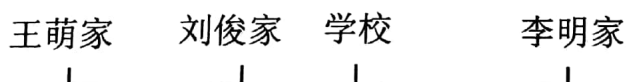
答

2. 鲜花店王阿姨购进 68 朵玫瑰花, 每 8 朵扎成一束。最多可以扎成多少束?
至少再增加几朵就又可以扎成一束? (6 分)

3. 爸爸每天在单位工作 8 小时, 他上午的工作时间是 8:00—12:00, 爸爸下午 1:30 开始上班, 下午什么时间下班? (6 分)

圭

4. 如下图, 王萌家和刘俊家相距 285 米, 王萌家和学校相距 470 米, 李明家和学校相距 340 米。(8 分)



(1) 李明家和刘俊家相距多少米?

约

(2) 王萌家和李明家相距多少米?

