







第二单元测评卷





时间：60分钟 满分：110分

题号	一	二	三	四	五	六	七	八	九	附加题	总分
得分											

sòng xiǎo dòng wù huí jiā

一、送小动物回家。(16分)

			
12-4=	13-5=	15-8=	5+7-4=
11-9=	13-6=	11-3=	6+7-8=
10-2=	14-9=	17-8=	7+7-4=
14-7=	11-4=	12-5=	16-9=

shǔ yì shǔ tián yì tián huà yí huà

二、数一数，填一填，画一画。(8分)




$$12 - \square = \square$$

$$12 - \square = \square$$



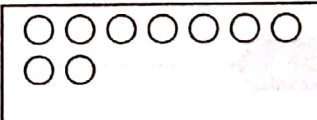
$$9 + \square = \square$$

$$13 - \square = \square$$

3. 

共13个


13-7= ()

4. 

共15个

15-9= ()

kàn tú xiě liǎng dào jiā fǎ suàn shì hé liǎng dào jiǎn fǎ suàn shì
三、看图写两道加法算式和两道减法算式。(8分)




$$\square + \square = \square$$

$$\square + \square = \square$$

$$\square - \square = \square$$

$$\square - \square = \square$$



$$\square + \square = \square$$




$$\square + \square = \square$$

$$\square - \square = \square$$

$$\square - \square = \square$$

huā er duǒ duǒ kāi

四、花儿朵朵开。(照样子,填数字)(7分)



suàn yí suàn tián yì tián

五、算一算,填一填。(12分)



$$6 \text{ (character)} 7 = 13$$

$$6 \text{ (character)} 5 = 11$$

$$8 \text{ (character)} 4 = 12$$

$$5 \text{ (character)} 9 = 14$$

$$17 \text{ (character)} 4 = 13$$

$$19 \text{ (character)} 9 = 10$$

$$13 \text{ (character)} 5 = 8$$

$$16 \text{ (character)} 9 = 7$$

$$4 \text{ (character)} 9 = 13$$


$$18 \text{ (character)} 3 = 15$$

$$15 \text{ (character)} 7 = 8$$


$$14 \text{ (character)} 8 = 6$$

xiǎo péng yǒu men suàn de duì ma


六、小朋友们算得对吗？（对的画“√”，错的画“×”，并改正）。（12分）

1.  ○○ $11-2=10$
()


改正：

2.  ○○ $13-5=18$
()


改正：

3.  ○○ $14-7=7$
()


改正：

4.  ○○ $12-5=8$
()

改正：

5.  ○○ $16-9=10$
()



改正：





6.  ○○ $15-9=13$
()





改正：

xiǎo mì fēng huì cǎi nǎ duǒ huā shàng de mì quān yì quān

七、小蜜蜂会采哪朵花上的蜜？圈一圈。（12分）

 $17-8-3=$   

 $11-8+9=$   

 $13-6+8=$   

 $15-7-8=$   

 $3+9-5=$   

 $9+4-6=$   

cāi cǎi wǒ shì shéi

八、猜猜我是谁。（6分）



我是

○ =



我是

○ =






我是

○ =

九、生活中的数学应用。(19分)

1. 下面是玩具商店的销售情况, 请根据已知条件把表填完整。(6分)

			
原有	16 架	18 艘	() 辆
卖出	9 架	() 艘	7 辆
还剩	() 架	9 艘	8 辆


2. 一共停了 16 辆车。(4分)

(1) 小轿车有 8 辆, 其余全是中巴车, 中巴车有几辆?


$$\square \bigcirc \square = \square ()$$

(2) 进口车有 7 辆, 其余全是国产车, 国产车有几辆?

$$\square \bigcirc \square = \square ()$$



3. 折纸鹤。(9分)



(1) 晶晶折了多少个纸鹤?

$$\square \bigcirc \square = \square (\text{个})$$

(2) 乐乐折了多少个纸鹤?

$$\square \bigcirc \square = \square (\text{个})$$

(3) 请把他们三个按所折纸鹤的数量由少到多排列。



附加题 (共10分)

$$\star + \diamond + \bigcirc = 15$$

$$\star + \star = 12$$

$$\star + \diamond = 13$$

$$\star = ()$$

$$\diamond = ()$$

$$\bigcirc = ()$$

第二单元测评卷

一、第一列：8 2 8 7 第二列：8 7 5 7

第三列：7 8 9 7 第四列：8 5 10 7

二、1. $12 - 10 = 2$ $12 - 2 = 10$

2. $9 + 4 = 13$ $13 - 9 = 4$ 或 $13 - 4 = 9$

3. $13 - 7 = 6$

4. $15 - 9 = 6$

三、 $8 + 6 = 14$ $6 + 8 = 14$ $14 - 6 = 8$ $14 - 8 = 6$

$9 + 5 = 14$ $5 + 9 = 14$ $14 - 5 = 9$ $14 - 9 = 5$

四、9 9 7 7 8 8 6

五、第一行：+ + + 第二行：+ - -

第三行：- - + 第四行：- - -

六、1. (×) $11 - 2 = 9$

2. (×) $13 - 5 = 8$

3. (√)

4. (×) $12 - 5 = 7$

5. (×) $16 - 9 = 7$

6. (×) $15 - 9 = 6$

七、6 12 15 0 7 7

八、9 $16 - 7 = 9$ 7 $15 - 8 = 7$ 9 $18 - 9 = 9$

九、1. 飞机：7 船：9 汽车：15

2. (1) $16 - 8 = 8$ (辆) (2) $16 - 7 = 9$ (辆)

3. (1) $7 + 8 = 15$ (2) $15 - 10 = 5$

(3) 乐乐 贝贝 晶晶

附加题：6 7 2