

第四单元测评卷

时间：60 分钟 满分：110 分

题号	一	二	三	四	五	六	七	八	附加题	总分
得分										


xiě yì xiě dú yì dú shēng huó zhōng de shù

一、写一写、读一读生活中的数。(6分)

我今年八十岁了。



我的书包三十三元。



写作()

写作()

2018 年是中华人民共和国成立69 周年。


红红数学得了100 分。

读作()

读作()

kuài lè tián yì tián

二、快乐填一填。(8 题 4 分,其余每空 1 分,共 26 分)



1. 数一数,一共有()个○。

2. 一个三位数,从右向左数起,第一位是()位,第二位是()位,第三位是()位。

3. 69 是()位数,十位上是(),表示()个(),个位上是(),表示()个()。

4.



() ()

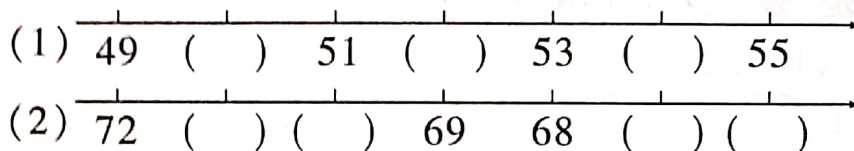


() ()



()

5. 一个两位数,十位上的数字是5,比个位上的数字小2,这个两位数读作()。
6. 100 里面有()个十,80 里面有()个十,100 比 80 多()个十,也就是()。
7. 有 58 块糖,每 10 块装一袋,能装满()袋。
8. 按顺序写数。



jīng tiāo xì xuǎn wǒ zuì bàng

三、精挑细选我最棒。(将正确答案的序号填在括号里)(10 分)

1. 66 中的两个“6”分别表示()。
A. 6 个一和 6 个百 B. 6 个十和 6 个一 C. 6 个十和 6 个百
2. 十位上是 3 的两位数有()个。
A. 9 B. 10 C. 11
3. 在下面的数中,个位上是 5 的数是()。
A. 58 B. 85 C. 50
4. 铅笔有 26 支,钢笔的支数比铅笔多得多,钢笔可能有()支。
A. 9 B. 28 C. 99
5. \triangle 有 28 个, \star 比 \triangle 多 8 个, \star 有多少个? 正确列式是()。
A. $28 - 8$ B. $28 + 8$ C. $8 - 28$

wǒ dāng xiǎo fǎ guān

四、我当小法官。(对的打“√”,错的打“×”)(5 分)

1. 36 中的“6”表示 6 个一。()
2. 55 中的两个 5 表示的意义相同。()
3. 个位上是 6,十位上是 4,这个数是 64。()
4. 读数和写数都应从个位起。()
5. 个位上和十位上数字相同的两位数有 9 个。()

bǐ yì bǐ

五、比一比。(在 \bigcirc 里填上“ $>$ ”“ $<$ ”或“ $=$ ”)(6 分)

$93 \bigcirc 95 - 5$	$80 \bigcirc 85 - 5$	$100 \bigcirc 90 + 9$
$53 - 3 \bigcirc 49$	$20 + 6 \bigcirc 30$	$5 + 50 \bigcirc 100$

zài lǐ tián shàng hé shì de shù
六、在()里填上合适的数。(9分)

$$\begin{array}{lll} () + 5 = 55 & 37 - () = 31 & () + 20 = 27 \\ () - 6 = 60 & () + 4 = 54 & 97 - () = 9 \\ 2 + () = 32 & 45 - () = 6 & () + 60 = 73 \end{array}$$

ràng wǒ cāi cai shì duō shao
七、让我猜猜是多少。(18分)

1. 按要求写数。(12分)

个位上的数字
比十位上的数
字多4的两位数

个位上是4, 且 大于45, 小于
比50大的两位数 95的整十数

个位上的数字与
十位上的数字相
加等于5的两位数

2. 足球有55个, 篮球比足球少一些。篮球有多少?(在合适的答案下面画“○”)(2分)



35 个	45 个	60 个	23 个
<input type="checkbox"/>	<input type="checkbox"/>	<input type="checkbox"/>	<input type="checkbox"/>

3. 有41节电池, 10节装一盒, 能装满几盒?(4分)

(1) 圈一圈, 能装满()盒。

(2) 41 里面有()个十和()个一, 所以能装满()盒。



shēng huó zhōng de shù xué yìng yòng
八、生活中的数学应用。(20分)

1. 李阿姨抢了多少元微信红包? 画“√”。陈叔叔抢了多少元微信红包? 画“△”。(4分)

我比张伯伯抢的多得多。

我昨天抢了20元微信红包。

我比张伯伯抢的少一些。



李阿姨

张伯伯

陈叔叔

5 元	17 元	21 元	50 元

2.



我有35张邮票。

我只有9张。



他们俩一共有多少张邮票？(5分)

$$\square \bigcirc \square = \square (\text{张})$$

3. “六一”儿童节,校门口悬挂了79个彩球,后来飞走了9个,还剩多少个？(5分)

$$\square \bigcirc \square = \square (\text{个})$$

4.



小红

我摘了60个红枣,
8个青枣。



小刚

我摘了60个枣。

(1) 小红一共摘了多少个枣？

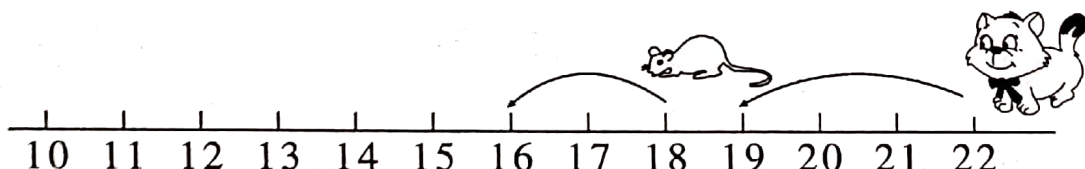
$$\square \bigcirc \square = \square (\quad) (3 \text{ 分})$$

(2) 小红比小刚多摘了几个枣？

$$\square \bigcirc \square = \square (\quad) (3 \text{ 分})$$

附加题 (共10分)

猫和老鼠同时从图中的位置起跳,猫每次跳3格,老鼠每次跳两格,到()时猫第一次追上老鼠。



第四单元测评卷

一、80 33 六十九 一百

二、1. 35 2. 个 十 百

3. 两 6 6 十 9 9 一

4. 38 40 88 99 10

5. 五十七 6. 10 8 2 20

7. 5 8. (1) 50 52 54

(2) 71 70 67 66

三、1. B 2. B 3. B 4. C 5. B

四、1. \checkmark 2. \times 3. \times 4. \times 5. \checkmark

五、 $>$ $=$ $>$ $>$ $<$ $<$

六、50 6 7 66 50 88 30 39 13

七、1. 个位上的数字比十位上的数字多4的两位数：15 26 37 48 59；个位上是4，且比50大的两位数：54 64 74 84 94；大于45，小于95的整十数：50 60 70 80 90；个位上的数字与十位上的数字相加等于5的两位数：50 41 32 23 14

2. 45个(○)

3. (1) 每10节一圈 4 (2) 4 1 4

八、1.

5元	17元	21元	50元
	Δ		\checkmark

2. $35 + 9 = 44$ (张) 3. $79 - 9 = 70$ (个)

4. (1) $60 + 8 = 68$ (个)

(2) $68 - 60 = 8$ (个)

附加题：10 解析 由题意可知，猫每次跳 3 格，从 22 开始，依次跳到的数是 19, 16, 13, 10, 7, \dots ，老鼠每次跳两格，从 18 开始，依次跳到的数是 16, 14, 12, 10, 8, \dots ，对照比较，在它们都跳第 4 次时，同时到了数 10，这时猫第一次追上老鼠。