

第四单元基础复习卷(二)

知识点 1 数的顺序 比较大小

- 100 以内的数按顺序数,前面的数小,后面的数大;相邻的两个数,后面的数比前面的数大,两个数相差 1。
- 比较 100 以内数的大小的方法。(1)一般方法:①位数多的数大于位数少的数;②先看十位上的数字,十位上的数字大,这个两位数就大,如果十位上的数字相同,再看个位上的数字,个位上的数字大,那么这个两位数就大。(2)估测法:用“多一些,少一些,多得多,少得多”描述数量之间的大小关系。

àn shùn xù tián shù

一、按顺序填数。

-
-

zhǎo fáng zi tián yì tián

二、找房子,填一填。

<div style="border: 1px solid black; padding: 5px; width: 100px; margin: 0 auto;">大于60的数</div> <div style="border: 1px solid black; height: 100px; width: 100px; margin: 10px auto;"></div>	 	 	 	 	<div style="border: 1px solid black; padding: 5px; width: 100px; margin: 0 auto;">小于60的数</div> <div style="border: 1px solid black; height: 100px; width: 100px; margin: 10px auto;"></div>
---	------	------	------	------	---

xiǎo jī zhǎo mā ma lián yi lián
三、小鸡找妈妈。(连一连)



小于45的数

大于45的数



jiāng tā men de nián líng àn cóng dà dào xiǎo de shùn xù pái yì pái
四、将他们的年龄按从大到小的顺序排一排。



25岁



38岁



8岁



75岁



17岁



3岁

() > () > () > () > () > ()

huà yì huà
五、画一画。

1. 猴爸爸可能摘了多少个桃?(在你认为合适的答案下面的框里画“√”。)



我摘了23个桃。

我摘的比你多得多。




猴爸爸

18个	26个	90个


2. 他们坐哪辆汽车比较合适?在你认为合适的答案旁边的括号里画“○”。



我们班有38人去春游。



5座()



40座()



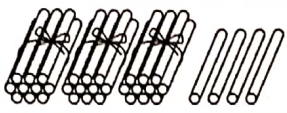

50座()



知识点 2 整十数加一位数及相应的减法

1. 整十数加一位数的口算方法:可以利用“数的组成”来计算,也可以根据“两个数相加,交换加数的位置,和不变”的规律来计算。
2. 几十几减几和几十几减几十的口算方法:可以利用“数的组成”来计算,也可以根据想加算减法来计算。

bǎi yì bǎi suàn yì suàn

一、摆一摆,算一算。

先摆	
拿走	
还剩	$\square \bigcirc \square = \square$

先摆	
再摆	
一共	$\square \bigcirc \square = \square$

diǎn dēng long bǐ sài

二、点灯笼比赛。



$$54-4=$$

$$8+70=$$

$$42-2=$$



$$20+3=$$

$$99-90=$$

$$7+60=$$



$$56-50=$$

$$69-9=$$

$$48-40=$$

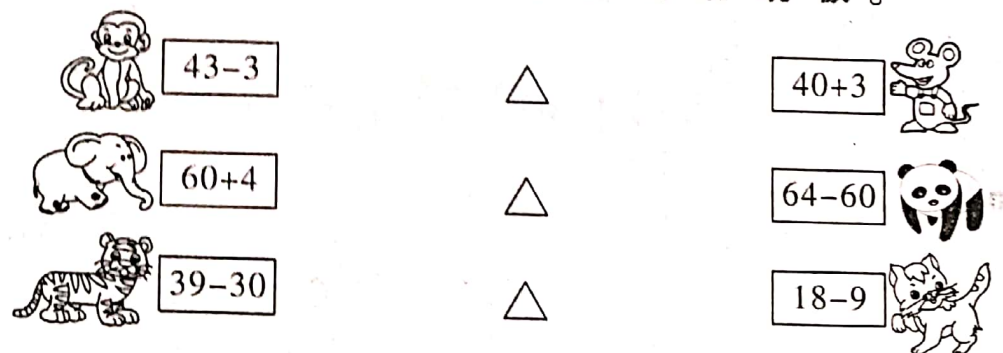
sòng xiǎo cì wei huí jiā

lián yì lián

三、送小刺猬回家。(连一连)



bāng dé shù xiāng tóng de yī zǔ xiǎo dòng wù huà chū qiāo qiāo bǎn
四、帮得数相同的一组小动物画出跷跷板。



易错易混点击

易错点:没有掌握整十数加一位数及相应的减法的计算方法

案例 计算: $8 + 90 = 89$ $68 - 8 = 6$


错点警示 本题错在没有掌握整十数加一位数及相应的减法的计算方法。计算 $8 + 90$ 时,用 100 以内的数的组成来计算,把 8 个一和 9 个十合起来是 98,写得数时不能把个位上的数和十位上的数颠倒了。计算 $68 - 8$ 时,68 是 6 个十和 8 个一,从 6 个十和 8 个一中去掉 8 个一,剩下 6 个十,即 60。

正确答案 $8 + 90 = 98$ $68 - 8 = 60$

规避策略: 计算时,应理解数的意义,利用数的组成计算比较简便。

跟踪训练

zhǎo guī lǜ tián shù
一、找规律填数。



tián biǎo
二、填表。

加数	加数	和
50	9	
7	30	
80	2	

被减数	减数	差
46	6	
85	80	
28	8	

第四单元基础复习卷(二)

知识点 1

一、1. 50 51 52 54 55 57 58 59 60 61

62 63 64

2. 22 23 24 25 27 28 29 31 32 33

34

二、大于 60 的数: 78 97 73 85

小于 60 的数: 16 29 56 24

三、略

四、75 岁 > 38 岁 > 25 岁 > 17 岁 > 8 岁 > 3 岁

五、1. 90 个√ 2. 40 座○

知识点 2

一、 $34 - 4 = 30$ $40 + 8 = 48$

二、50 78 40 23 9 67 6 60 8

三、略

四、略

跟踪训练

一、6 36

二、和: 59 37 82

差: 40 5 20