

第六单元基础复习卷(一)

知识点 1 整十数加、减整十数

整十数加、减整十数的计算方法:把整十数看成以“十”为计数单位的数,再相加、减,得几就是几十。

bǐ yì bǐ suàn yì suàn

一、比一比,算一算。

$$\begin{array}{l} 4+2= \\ 40+20= \end{array}$$

$$\begin{array}{l} 9-7= \\ 90-70= \end{array}$$

$$\begin{array}{l} 7-4-2= \\ 70-40-20= \end{array}$$

xiǎo lǎo shǔ shàng dēng tái

二、小老鼠上灯台。

$$\begin{array}{c} \text{30}+40= \\ \text{80}-20= \\ \text{40}+50-20= \\ \text{90}-40+10= \\ \text{50}+20+20= \end{array}$$

$$\begin{array}{c} \text{60}-40= \\ \text{70}-20= \\ \text{50}+10-20= \\ \text{70}-30-10= \\ \text{60}+10+20= \end{array}$$

lián yì lián

三、连一连。



40

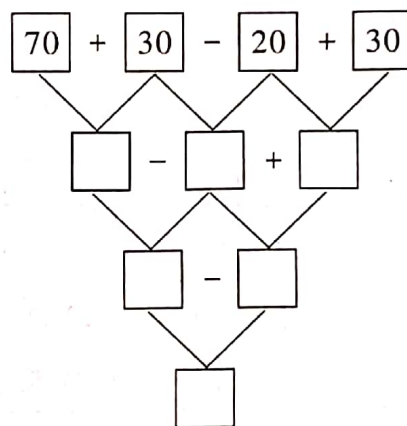
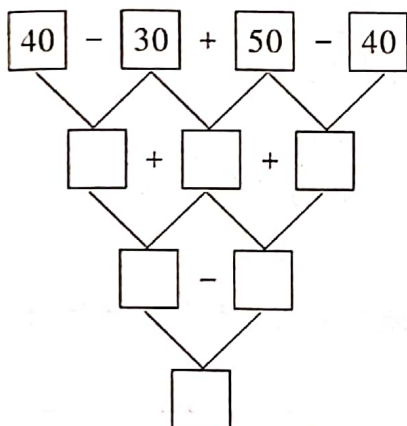
50

70

80



zài lǐ tián shàng hé shì de shù
四、在 里填上合适的数。



xiǎo xiǎo shāng diàn
五、小小商店。(导学号 35296014)



40元



10元



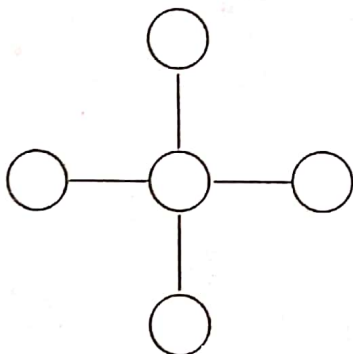
20元

1. 买这三件东西一共要付多少元钱?

2. 买一个书包和一付球拍,付出 100 元,应该找回多少元钱?

bǎ tián zài xià miàn de zhōng shǐ měi tiáo zhí xiàn shàng sān
六、把 0、10、20、30、40 填在下面的 中,使每条直线上三

gè shù de hé xiāng děng
个数的和相等。



先填出最中间的数,答案不只一种哦。



知识点 2 两位数加一位数、整十数

1. 两位数加一位数(不进位)的计算方法:先把几个一与几个一相加,再加整十数。
2. 两位数加整十数的计算方法:先把几个十与几个十相加,再加个位上的数。
3. 两位数加一位数(进位)的计算方法:先把两位数个位上的数与那个一位数相加,再将加得的数与整十数相加。

suàn yì suàn tián yì tián

一、算一算,填一填。



$$37 + 2 = \square$$

先算 $\square + \square = \square$

再算 $\square + \square = \square$



$$26 + 8 = \square$$

先算 $\square + \square = \square$

再算 $\square + \square = \square$

kāi huǒ chē

二、开火车。

$$26 \xrightarrow{+7} \square \xrightarrow{+7} \square \xrightarrow{+7} \square \xrightarrow{+7} \square \xrightarrow{+7} \square \xrightarrow{+7} \square$$

$$15 \xrightarrow{+8} \square \xrightarrow{+8} \square \xrightarrow{+8} \square \xrightarrow{+8} \square \xrightarrow{+8} \square \xrightarrow{+8} \square$$

$$4 \xrightarrow{+9} \square \xrightarrow{+9} \square \xrightarrow{+9} \square \xrightarrow{+9} \square \xrightarrow{+9} \square \xrightarrow{+9} \square$$

zhǎo yǔ sǎn

lián yì lián

三、找雨伞。(连一连)



tā men yì gòng diào le duō shao tiáo yú
四、它们一共钓了多少条鱼？



易错易混点击

易错点：误将不同数位上的数相加

案例 计算： $42 + 50 = 47$ $6 + 32 = 92$

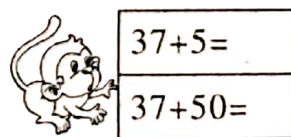


错点警示 本题错在计算两位数加一位数时，把不同数位上的数相加了。 $42 + 50$ 误将整十数十位上的数与两位数个位上的数相加， $6 + 32$ 误将两位数加一位数与两位数加整十数弄混了。计算时应先把个位上的数相加，再加整十数。

正确答案 $42 + 50 = 92$ $6 + 32 = 38$

规避策略：计算时要注意相同数位上的数才能相加。

跟踪训练

bǐ yì bǐ suàn yì suàn
一、比一比，算一算。



xià miàn de jì suàn jié guǒ zhèng què ma duì de huà cuò de huà
二、下面的计算结果正确吗？（对的画“√”，错的画

bìng gǎi zhèng
“×”，并改正）

$54 + 7 = 51$ () _____

$3 + 59 = 89$ () _____

$45 + 3 = 58$ () _____

$78 + 7 = 85$ () _____

第六单元基础复习卷(一)

知识点 1

一、6 60 2 20 1 10

二、70 60 70 60 90 20 50 40 30 90

三、略

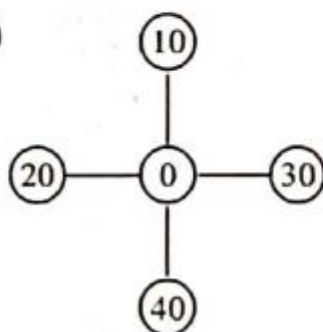
四、 $10 + 80 + 10$ $90 - 90$ 0

$100 - 10 + 50$ $90 - 60$ 30

五、1. $40 + 10 + 20 = 70$ (元)

2. $100 - 40 - 20 = 40$ (元)

六、(答案不唯一)



知识点 2

一、1. 39 $7 + 2 = 9$ $30 + 9 = 39$

2. 34 $6 + 8 = 14$ $20 + 14 = 34$

二、33 40 47 54 61 68

23 31 39 47 55 63

13 22 31 40 49 58

三、略

四、 $8 + 14 = 22$ (条)

跟踪训练

一、19 28 30 84 42 87

二、 \times $54 + 7 = 61$ \times $3 + 59 = 62$

\times $45 + 3 = 48$ \checkmark