

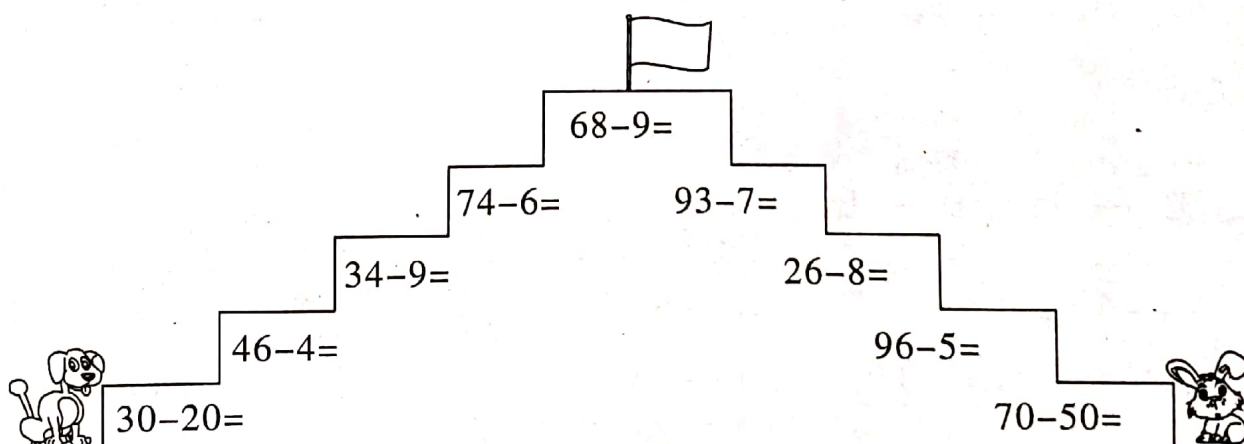
## 第六单元基础复习卷(二)

### 知识点 1 两位数减一位数、整十数

1. 两位数减一位数(不退位)的计算方法:先用两位数个位上的数减一位数,再与整十数相加。
2. 两位数减整十数的计算方法:把两位数分成整十数和一位数,先用由两位数得到的整十数减去那一个整十数,再加上由两位数得到的一位数。
3. 两位数减一位数(退位)的计算方法:先从个位减起,个位上的数不够减,要从十位退一当十,与个位数合起来再减,同时十位上的数必须减去1。

duó hóng qí

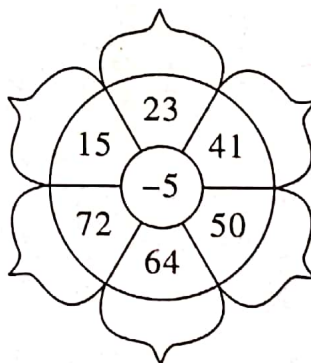
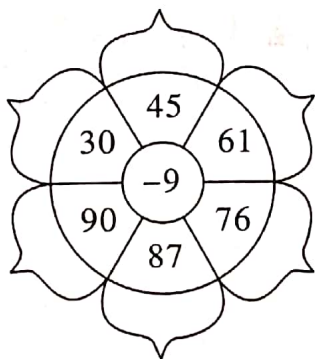
### 一、夺红旗。



suàn yì suàn tián yì tián

### 二、算一算,填一填。

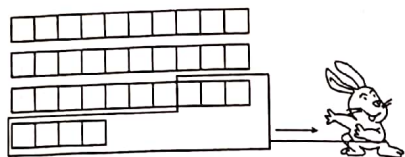
1.




2.  $64 \xrightarrow{-8} \bigcirc \xrightarrow{-8} \bigcirc \xrightarrow{-8} \bigcirc \xrightarrow{-8} \bigcirc \xrightarrow{-8} \bigcirc$   
 $70 \xrightarrow{-7} \bigcirc \xrightarrow{-7} \bigcirc \xrightarrow{-7} \bigcirc \xrightarrow{-7} \bigcirc \xrightarrow{-7} \bigcirc$

kàn tú liè shì jì suàn

### 三、看图列式计算。



$$\square \bigcirc \square = \square$$



$$\square \bigcirc \square = \square$$

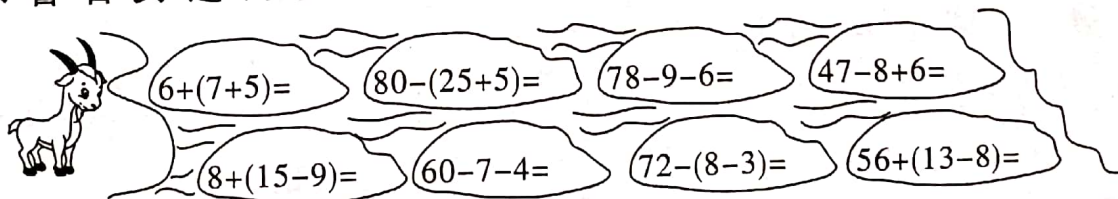
四、“六一”儿童节到了,商场每件衣服的原价是 82 元,现在每件衣服降价 8 元,现在每件衣服多少元?

### 知识点 2 小括号

一个算式中有小括号,要先算小括号里面的,再算小括号外面的。小括号有改变运算顺序的作用。

cǎi zhe shí tou guò hé

### 一、踩着石头过河。



zài      lǐ tián shàng

### 二、在 $\bigcirc$ 里填上 “>” “<” 或 “=”。

huò

$$62 - 4 \bigcirc 62 - 40$$

$$35 + 40 \bigcirc 37 + 40$$

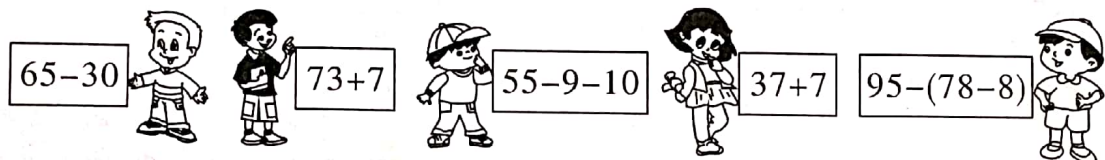

$$53 + 30 \bigcirc 53 + 3$$

$$93 - 20 \bigcirc 66 + 7$$

$$45 + 6 \bigcirc 54 + 6$$

$$8 + 59 \bigcirc 9 + 58$$

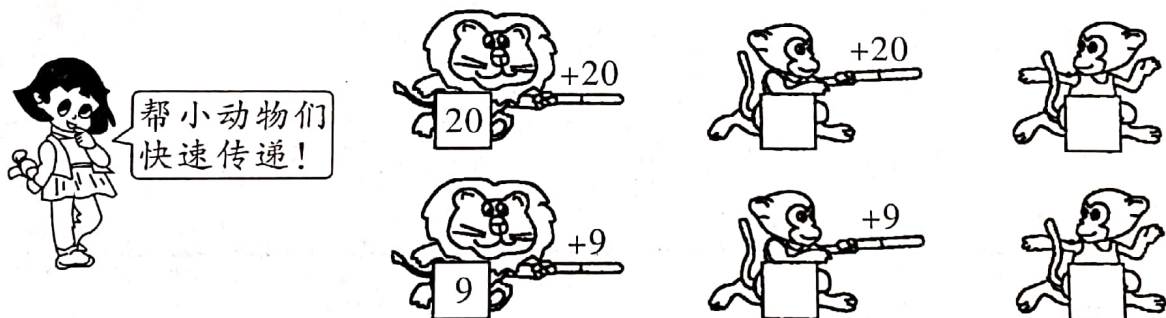
zhǎo péng you lián yi lián  
三、找朋友。(连一连)



知识点 3 解决问题


可以采用连加、连减及数一数、列表等多种方法解决实际问题。

suàn yì suàn  
一、算一算。




suàn yì suàn tián yì tián  
二、算一算，填一填。

1. 最多能扎多少束？



( )束

2. 把这些乒乓球装在右边的盒子里，  
可以装满几盒？



( )盒

三、



18 个轮子,最多可以装多少辆小汽车?

### 易错易混点击

易错点:没有掌握带小括号的算式的运算顺序

案例 计算: $15 - (7 - 3) = 5$

**错点警示** 本题错在没有掌握含有小括号的混合运算的顺序,不知道先算什么,后算什么。一个算式里如果有小括号,要先算小括号里的。本题先算  $7 - 3 = 4$ ,再算  $15 - 4 = 11$ 。

**正确答案**  $15 - (7 - 3) = 11$

**规避策略:** 一个算式中有小括号,要先算小括号里面的,再算小括号外面的。

### 跟踪训练

suàn yì suàn bǐ yì bǐ

一、算一算,比一比。

$$14 - 6 + 2 =$$

$$14 - (6 + 2) =$$

$$15 - 6 - 3 =$$

$$15 - (6 + 3) =$$

$$7 + 6 + 4 =$$

$$7 + (6 + 4) =$$

yí gòng yào zuò duǒ xiǎo hóng huā hái chà duō shao duǒ

二、一共要做 85 朵小红花,还差多少朵?



田慧

我做了30朵小红花。

我比田慧多做了15朵。



周洋



## 第六单元基础复习卷(二)

### 知识点 1

一、10 42 25 68 59 86 18 91 20

二、1. 略

2. 56 48 40 32 24 63 56 49 42 35

三、 $34 - 7 = 27$   $26 - 9 = 17$

四、 $82 - 8 = 74$ (元)

### 知识点 2

一、18 50 63 45 14 49 67 61

二、> < > = < =

三、略

### 知识点 3

一、40 60 18 27

二、1. 5 2. 4

三、 $18 \xrightarrow{-4} 14 \xrightarrow{-4} 10 \xrightarrow{-4} 6 \xrightarrow{-4} 2$

最多可以装 4 辆小汽车。

### 跟踪训练

一、10 6 6 6 17 17

二、 $30 + 15 = 45$ (朵)

$85 - (45 + 30) = 10$ (朵)