

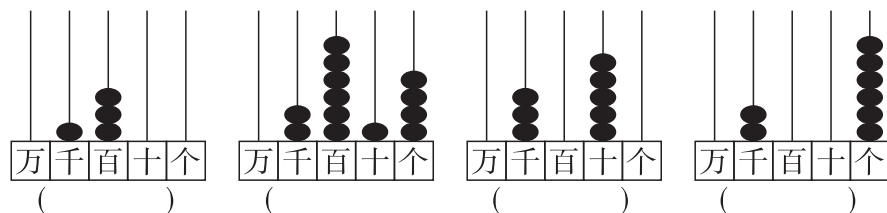


第三单元自测卷

(时间:60 分钟 满分:100 分)

一、填空题。(21×1=21 分)

1. 看图写数。



2. 最小的四位数是(),最大的三位数是()。

3. 370 再添上()个十是 400。

4. 在括号里填上“万”“千”“百”或“十”。

(1)二(2)班有四()人。

(2)我们市大约有小学生三()人。

(3)奶奶今年七()岁。

(4)一辆轿车要十()多元。

5. 在○里填上“>”“<”或“=”。

7060 ○ 7600 2056 2065 4000 ○ 500

3049 ○ 3409 3999 4001 1001 ○ 1010

6. 用 7,8,0 三个数字可以组成()个三位数,其中最大的数是(),最小的数是()。

7. 一个数千位上是 5,个位上是 2,其余各位上都是 0,这个数写作_____。(2 分)

二、选择题。(5×3=15 分)

1. 由 5 个千 3 个百和 6 个一组成的数是()

①5360 ②5036 ③5306

2. 5000 里面有()个十。

①5 ②500 ③50

3. 下面的三个数中最大的数是()

①5463 ②5436 ③5643

4. 5009 后面的一个数是()

①6000 ②5100 ③5010

5. 百位上是 7 的数是()

①4735 ②3976 ③7024

三、判断题。(正确的画“√”,错误的画“×”)(6×2=12 分)

1. 从 5725 开始,五个五个地数,数到第 5 个是 5750。 ()

2. 读数时,中间有几个零就读几个零。 ()

3. 写数时,中间或末尾哪一位上一个也没有,就不写。 ()

4. 最小的四位数比最大的三位数多 1。 ()

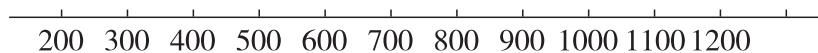
5. 在 7998,8004 中最接近 8000 的数是 8004。 ()

6. 六千零五写作 605。 ()

四、每个数中的“3”表示多少？连一连。(4×4=16 分)



五、谁拔的萝卜多？标一标，比一比。(14 分)



() > () > ()

六、解下面各题。(22 分)

1. 将下列各数按要求分别填入方框中。(1×8=8 分)

900 603 6705 4064 5700 2010 4000 6002

读出零的数

不读出零的数

2. 写出下面各数。(2×5=10 分)

一千二百三十四写作：_____

八百零五写作：_____

八千零八写作：_____

九千零一十写作：_____

七千零九十九写作：_____

3. 连一连。(4 分)

3个百，4个十和5个一	3405
三千四百五十	345
三个千，四个十和5个一	3450
比3404多1的数	3045

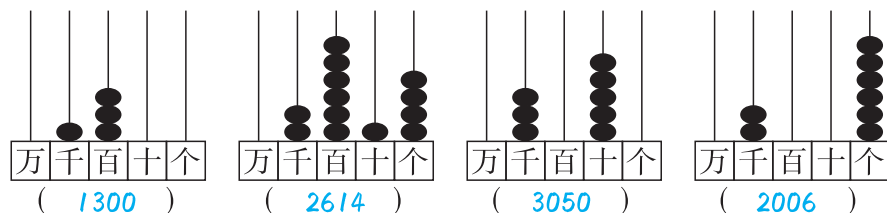


第三单元自测卷

(时间:60 分钟 满分:100 分)

一、填空题。(21×1=21 分)

1. 看图写数。



2. 最小的四位数是(1000),最大的三位数是(999)。

3. 370 再添上(3)个十是 400。

4. 在括号里填上“万”“千”“百”或“十”。

(1)二(2)班有四(十)人。

(2)我们市大约有小学生三(万)人。

(3)奶奶今年七(十)岁。

(4)一辆轿车要十(万)多元。

5. 在○里填上“>”“<”或“=”。

7060 ○ 7600

2056 ○ 2065

4000 ○ 500

3049 ○ 3409

3999 ○ 4001

1001 ○ 1010

6. 用 7,8,0 三个数字可以组成(4)个三位数,其中最大的数是(870),最小的数是(708)。

7. 一个数千位上是 5,个位上是 2,其余各位上都是 0,这个数写作5002。(2 分)

二、选择题。(5×3=15 分)

1. 由 5 个千 3 个百和 6 个一组成的数是(③)

①5360

②5036

③5306

2. 5000 里面有(②)个十。

①5

②500

③50

3. 下面的三个数中最大的数是(③)

①5463

②5436

③5643

4. 5009 后面的一个数是(③)

①6000

②5100

③5010

5. 百位上是 7 的数是(①)

①4735

②3976

③7024

三、判断题。(正确的画“√”,错误的画“×”)(6×2=12 分)

1. 从 5725 开始,五个五个地数,数到第 5 个是 5750。 (×)

2. 读数时,中间有几个零就读几个零。 (×)

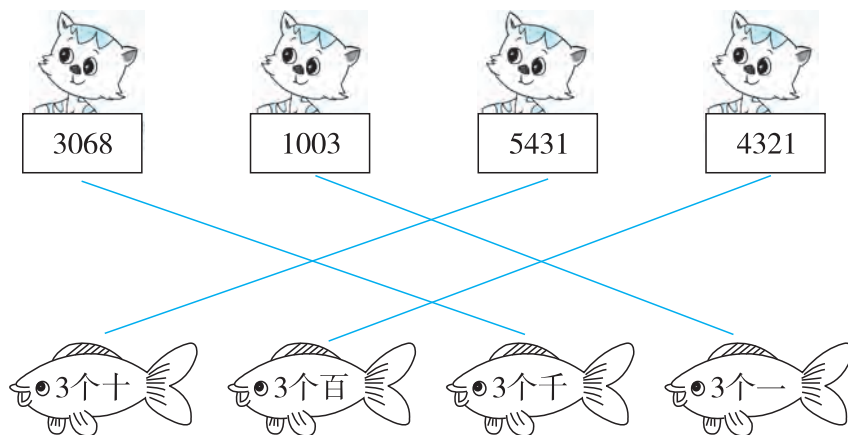
3. 写数时,中间或末尾哪一位上一个也没有,就不写。 (×)

4. 最小的四位数比最大的三位数多 1。 (√)

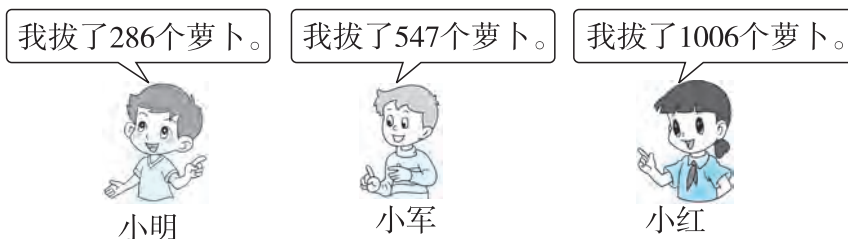
5. 在 7998,8004 中最接近 8000 的数是 8004。 (×)

6. 六千零五写作 605。 (×)

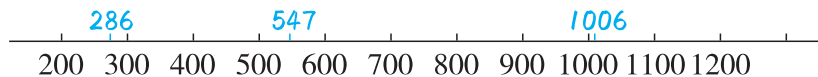
四、每个数中的“3”表示多少？连一连。(4×4=16 分)



五、谁拔的萝卜多？标一标，比一比。(14 分)



小红拔的萝卜多



$$(1006) > (547) > (286)$$

六、解下面各题。(22 分)

1. 将下列各数按要求分别填入方框中。(1×8=8 分)

900 603 6705 4064 5700 2010 4000 6002

603, 6705, 4064,
2010, 6002

读出零的数

900, 5700, 4000

不读出零的数

2. 写出下面各数。(2×5=10 分)

一千二百三十四写作: 1234

八百零五写作: 805

八千零八写作: 8008

九千零一十写作: 9010

七千零九十九写作: 7099

3. 连一连。(4 分)

