


# 第八单元自测卷

(时间:60 分钟 满分:100 分)

## 一、数一数,填一填。(14 分)



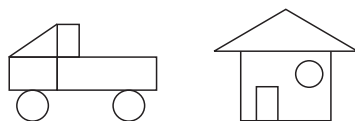
1. 用下面两种方法统计出每种蔬菜的个数。(12 分)

|  |      |
|--|------|
|  | ✓✓✓✓ |
|  |      |
|  |      |
|  |      |

|  |   |
|--|---|
|  | 正 |
|  |   |
|  |   |
|  |   |

2. ( ) 最多, ( ) 最少。(2 分)

二、用你喜欢的方法统计出每种图形的个数,再填入下面的表格中。(9 分)



|       |       |       |
|-------|-------|-------|
|       |       |       |
| ( ) 个 | ( ) 个 | ( ) 个 |

三、我会解决。(14 分)

下面是二(2)班同学参加课外小组的情况。

| 乐器小组 | 棋类小组  | 书法小组 | 绘画小组 |
|------|-------|------|------|
| × ×  | ○ ○ ○ | • •  | 正    |
| × ×  | ○ ○ ○ | •    | 下    |
| × ×  | ○ ○   | •    |      |
| × ×  | ○ ○   | •    |      |
| ×    | ○ ○   | •    |      |

1. 把上面的统计结果填入下表。(8 分)

| 课外小组 | 乐器小组 | 棋类小组 | 书法小组 | 绘画小组 |
|------|------|------|------|------|
| 人数   |      |      |      |      |

2. 参加书法小组的和参加乐器小组的一共有( )人。(2 分)

家长签字:

教师评语:

3. 参加绘画小组的比参加棋类小组的少( )人。(2 分)

4. 我最喜欢的课外小组是( )。(2 分)

四、计算并统计。(20 分)

1. 直接写得数。(12 分)

|                |                |
|----------------|----------------|
| $63 \div 9 =$  | $15 + 24 =$    |
| $4 \times 7 =$ | $1500 - 700 =$ |
| $96 - 18 =$    | $8 \times 6 =$ |
| $28 \div 4 =$  | $800 + 300 =$  |
| $2700 - 700 =$ | $115 + 256 =$  |
| $531 - 513 =$  | $40 \div 8 =$  |

2. 统计。(8 分)

(1) 上面算式中的加法、减法、乘法和除法算式各有多少道?

| 加法    | 减法    | 乘法    | 除法    |
|-------|-------|-------|-------|
| ( ) 道 | ( ) 道 | ( ) 道 | ( ) 道 |

(2) 完成下面表格。

| 得数的位数 | 一位 | 两位 | 三位 | 四位 |
|-------|----|----|----|----|
| 道 数   |    |    |    |    |

五、下面是学校美术兴趣小组成员的性别和年龄调查情况表。(16 分)

| 姓名  | 性别 | 年龄 | 姓名 | 性别 | 年龄 |
|-----|----|----|----|----|----|
| 邱兆川 | 男  | 9  | 阮映 | 男  | 9  |
| 刘亚男 | 女  | 11 | 钱臣 | 男  | 10 |
| 严娟  | 女  | 10 | 曹瑛 | 女  | 11 |
| 蔡彦  | 女  | 9  | 傅婷 | 女  | 9  |
| 秦英哲 | 女  | 9  | 陈豪 | 男  | 12 |
| 吴一游 | 男  | 10 | 赵羽 | 男  | 9  |
| 贾晨  | 男  | 9  | 王琦 | 女  | 10 |
| 王峰  | 男  | 11 | 刘蓓 | 女  | 11 |
| 严宙英 | 女  | 12 | 李玲 | 女  | 12 |

1. 用画“正”字的方法完成下面的统计表。(6 分)

|    |  |
|----|--|
| 男生 |  |
| 女生 |  |

2. 完成下面表格。(6 分)

| 9 岁  | 10 岁 | 11 岁 | 12 岁 |
|------|------|------|------|
| ( )人 | ( )人 | ( )人 | ( )人 |

| 男生   | 女生   |
|------|------|
| ( )人 | ( )人 |

3. 从上表看出,( )岁的人数最多,( )岁的人数最少,( )岁和( )岁的人数同样多。(4 分)

六、下面是实验小学二年级 3 个班的学生参加课外兴趣小组的人数情况统计表,请根据第一个表格填写第二个表格。(5 分)

| 二(1)班 | 二(2)班 | 二(3)班 |
|-------|-------|-------|
| 42 人  | 39 人  | 39 人  |

| 男生   | 女生   |
|------|------|
| 69 人 | ( )人 |

七、小力和小刚玩“石头、剪刀、布”游戏,下面记录着小力每次玩的结果。(1

个■表示 1 次)(7 分)


|   |   |   |   |   |   |   |   |
|---|---|---|---|---|---|---|---|
| 胜 | ■ | ■ | ■ | □ | □ | □ | □ |
| 负 | ■ | ■ | ■ | ■ | ■ | □ | □ |
| 平 | ■ | ■ | ■ | ■ | ■ | ■ | ■ |

1. 整理记录的结果,填写下表。(3 分)

| 胜    | 负    | 平    |
|------|------|------|
| ( )次 | ( )次 | ( )次 |

2. 他们一共玩了( )次。(4 分)

八、3 月 12 日,二(3)班同学开展“绿化祖国”植树活动。(15 分)



1. 根据上图中的信息完成下面的统计表。(4 分)

| 杨树   | 松树   | 柳树   | 柏树   |
|------|------|------|------|
| ( )棵 | ( )棵 | ( )棵 | ( )棵 |

2. 植的( )树的棵数最多,( )树的棵数最少。(2 分)

3. 杨树和松树一共有多少棵?(3 分)

4. 你还能提出其他数学问题并解答吗?(6 分)

问题一:


问题二:

问题三:

# 第八单元自测卷

(时间:60分钟 满分:100分)

## 一、数一数,填一填。(14分)



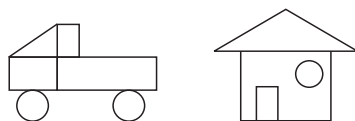
1. 用下面两种方法统计出每种蔬菜的个数。(12分)

|  |          |
|--|----------|
|  | √√√√     |
|  | √√√√√√√√ |
|  | √√√√√√   |
|  | √√√      |

|  |    |
|--|----|
|  | 正  |
|  | 正正 |
|  | 正一 |
|  | 下  |

2. (辣椒)最多,(蘑菇)最少。(2分)

二、用你喜欢的方法统计出每种图形的个数,再填入下面的表格中。(9分)



|      |      |      |
|------|------|------|
|      |      |      |
| (3)个 | (2)个 | (5)个 |

三、我会解决。(14分)

下面是二(2)班同学参加课外小组的情况。

| 乐器小组 | 棋类小组 | 书法小组 | 绘画小组 |
|------|------|------|------|
| ××   | ○○○  | ••   | 正    |
| ××   | ○○○  | •    | 下    |
| ××   | ○○   | •    |      |
| ××   | ○○   | •    |      |
| ×    | ○○   | •    |      |

1. 把上面的统计结果填入下表。(8分)

| 课外小组 | 乐器小组 | 棋类小组 | 书法小组 | 绘画小组 |
|------|------|------|------|------|
| 人数   | 9    | 12   | 6    | 8    |

2. 参加书法小组的和参加乐器小组的一共有(15)人。(2分)

家长签字:

教师评语:

3. 参加绘画小组的比参加棋类小组的少(4)人。(2分)

4. 我最喜欢的课外小组是( )。(2分)略

四、计算并统计。(20分)

1. 直接写得数。(12分)

$$\begin{array}{ll} 63 \div 9 = 7 & 15 + 24 = 39 \\ 4 \times 7 = 28 & 1500 - 700 = 800 \\ 96 - 18 = 78 & 8 \times 6 = 48 \\ 28 \div 4 = 7 & 800 + 300 = 1100 \\ 2700 - 700 = 2000 & 115 + 256 = 371 \\ 531 - 513 = 18 & 40 \div 8 = 5 \end{array}$$

2. 统计。(8分)

(1) 上面算式中的加法、减法、乘法和除法算式各有多少道?

| 加法   | 减法   | 乘法   | 除法   |
|------|------|------|------|
| (3)道 | (4)道 | (2)道 | (3)道 |

(2) 完成下面表格。

| 得数的位数 | 一位 | 两位 | 三位 | 四位 |
|-------|----|----|----|----|
| 道数    | 3  | 5  | 2  | 2  |

五、下面是学校美术兴趣小组成员的性别和年龄调查情况表。(16 分)

| 姓名  | 性别 | 年龄 | 姓名 | 性别 | 年龄 |
|-----|----|----|----|----|----|
| 邱兆川 | 男  | 9  | 阮昞 | 男  | 9  |
| 刘亚男 | 女  | 11 | 钱臣 | 男  | 10 |
| 严娟  | 女  | 10 | 曹瑛 | 女  | 11 |
| 蔡彦  | 女  | 9  | 傅婷 | 女  | 9  |
| 秦英哲 | 女  | 9  | 陈豪 | 男  | 12 |
| 吴一游 | 男  | 10 | 赵羽 | 男  | 9  |
| 贾晨  | 男  | 9  | 王琦 | 女  | 10 |
| 王峰  | 男  | 11 | 刘蓓 | 女  | 11 |
| 严宙英 | 女  | 12 | 李玲 | 女  | 12 |

1. 用画“正”字的方法完成下面的统计表。(6 分)

|    |    |
|----|----|
| 男生 | 正下 |
| 女生 | 正正 |

2. 完成下面表格。(6 分)

| 9 岁  | 10 岁 | 11 岁 | 12 岁 |
|------|------|------|------|
| (7)人 | (4)人 | (4)人 | (3)人 |

| 男生   | 女生    |
|------|-------|
| (8)人 | (10)人 |

3. 从上表看出,(9)岁的人数最多,(12)岁的人数最少,(10)岁和(11)岁的人数同样多。(4 分)

六、下面是实验小学二年级 3 个班的学生参加课外兴趣小组的人数情况统计表,请根据第一个表格填写第二个表格。(5 分)

| 二(1)班 | 二(2)班 | 二(3)班 |
|-------|-------|-------|
| 42 人  | 39 人  | 39 人  |

| 男生   | 女生   |
|------|------|
| 69 人 | (5)人 |

七、小力和小刚玩“石头、剪刀、布”游戏,下面记录着小力每次玩的结果。(1


个■表示 1 次)(7 分)

|   |   |   |   |   |   |   |   |
|---|---|---|---|---|---|---|---|
| 胜 | ■ | ■ | ■ | □ | □ | □ | □ |
| 负 | ■ | ■ | ■ | ■ | ■ | □ | □ |
| 平 | ■ | ■ | ■ | ■ | ■ | ■ | ■ |

1. 整理记录的结果,填写下表。(3 分)

| 胜    | 负    | 平    |
|------|------|------|
| (3)次 | (5)次 | (7)次 |

2. 他们一共玩了(15)次。(4 分)  
八、3 月 12 日,二(3)班同学开展“绿化祖国”植树活动。(15 分)



1. 根据上图中的信息完成下面的统计表。(4 分)

| 杨树    | 松树    | 柳树    | 柏树    |
|-------|-------|-------|-------|
| (12)棵 | (10)棵 | (17)棵 | (16)棵 |

2. 植的(柳)树的棵数最多,(松)树的棵数最少。(2 分)

3. 杨树和松树一共有多少棵?(3 分)

$12 + 10 = 22$ (棵)

4. 你还能提出其他数学问题并解答吗?(6 分)

问题一:柳树比松树多多少棵?

$17 - 10 = 7$ (棵)

问题二:柏树和松树一共有多少棵?

$16 + 10 = 26$ (棵)

问题三:杨树和柏树一共有多少棵?

$12 + 16 = 28$ (棵) (答案不唯一)