

第二单元自测卷

(时间:60 分钟 满分:100 分)

一、填一填。(17 分)

1. 计量很短的时间,常用比分更小的单位()。
2. 钟面上有()个大格,时针走一大格的时间是()时;时针走一大格,分针正好走一圈,是()分,1 时=()分;分针走 1 小格,秒针正好走 1 圈,是()秒,1 分=()秒。
3. 在()里填“时”“分”或“秒”。
 - (1)播放 1 集《恐龙宝贝》的时间大约是 10()。
 - (2)心脏跳动 80 下大约 1()。
 - (3)做一道口算题用时 5()。
 - (4)超市每天营业 12()。
4. 180 秒=()分 2 时=()分
5. 在○里填“>”“<”或“=”。

2 分○ 100 秒 3 时○ 30 分

50 秒○ 5 分 2 分○ 120 秒

二、判一判。(对的画“√”,错的画“×”)(10 分)

1.  秒针从一个数字走到下一个数字,经过 5 秒。()
2.  当分针和时针重合时,所表示的时刻一定是 12 时。()
3.  10 时零 5 分可以写成 10:5。()
4.  我 3 秒钟写 300 个字。()
5.  可以用滴水 and 漏沙的方法来计量时间。()

三、选一选。(把正确答案的序号写在括号里)(10 分)

1. 贝贝早上 6:30 起床,晶晶早上 6:40 起

床,()起得早。

A. 贝贝 B. 晶晶 C. 一样

2. 100 米赛跑,小亮用了 16 秒,小芳用了 18 秒,()跑得快。

A. 小亮 B. 小芳 C. 一样

3. 钟面上,()走得最快。

A. 时针 B. 分针 C. 秒针


4. 秒针从 4 走到 9 经过了()秒。

A. 5 B. 25 C. 13

5. 一个人唱一首歌要 5 分,5 个人合唱这首歌要()分。

A. 5 B. 25 C. 10

四、在正确答案后面的□里画“√”。(8 分)



6:05

☐


1:35

☐

5:35

☐


7:5

☐

6:25

☐

7:05

☐


11:50

☐


8:25

☐

9:55

☐

9:25

☐


10:55


☐


4:45


☐


五、写出钟面上的时刻。(12分)















六、看图说一说,填一填。(14分)



小丽


我的一天。



起床




上学



上课

小丽早上()起床,()上学,
()上课。



中午放学



吃午饭




下午放学




睡觉

中午()放学,()吃午饭;下
午()放学,晚上()睡觉。


七、画出钟面上的分针。(8分)




2:15



5:50

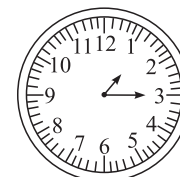



4:05





10:30

八、先填空,再找规律,最后画出第4个钟面上的时针和分针。(9分)






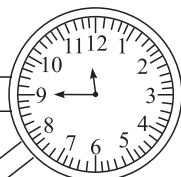





九、小兰的周末。(12分)




狮子园




大象馆



孔雀园



鹦鹉馆



猴山

1. 小兰到达孔雀园的时间是 _____。

2. 小兰的参观路线是:()→()
→()→()→()。

第二单元自测卷

(时间:60 分钟 满分:100 分)

一、填一填。(17 分)

1. 计量很短的时间,常用比分更小的单位(秒)。
2. 钟面上有(12)个大格,时针走一大格的时间是(1)时;时针走一大格,分针正好走一圈,是(60)分,1 时=(60)分;分针走 1 小格,秒针正好走 1 圈,是(60)秒,1 分=(60)秒。
3. 在()里填“时”“分”或“秒”。
 - (1)播放 1 集《恐龙宝贝》的时间大约是 10(分)。
 - (2)心脏跳动 80 下大约 1(分)。
 - (3)做一道口算题用时 5(秒)。
 - (4)超市每天营业 12(时)。
4. 180 秒=(3)分 2 时=(120)分
5. 在○里填“>”“<”或“=”。

2 分 > 100 秒 3 时 > 30 分

50 秒 < 5 分 2 分 = 120 秒

二、判一判。(对的画“√”,错的画“×”)(10 分)

1. 秒针从一个数字走到下一个数字,经过 5 秒。(√) 
2. 当分针和时针重合时,所表示的时刻一定是 12 时。(×) 
3. 10 时零 5 分可以写成 10:5。(×) 
4. 我 3 秒钟写 300 个字。(×) 
5. 可以用滴水 and 漏沙的方法来计量时间。(√) 

三、选一选。(把正确答案的序号写在括号里)(10 分)

1. 贝贝早上 6:30 起床,晶晶早上 6:40 起

床,(A)起得早。

A. 贝贝 B. 晶晶 C. 一样

2. 100 米赛跑,小亮用了 16 秒,小芳用了 18 秒,(A)跑得快。

A. 小亮 B. 小芳 C. 一样

3. 钟面上,(C)走得最快。

A. 时针 B. 分针 C. 秒针


4. 秒针从 4 走到 9 经过了(B)秒。

A. 5 B. 25 C. 13

5. 一个人唱一首歌要 5 分,5 个人合唱这首歌要(A)分。

A. 5 B. 25 C. 10


四、在正确答案后面的□里画“√”。(8 分)



6:05 ☐
5:35 ☐
6:25 ☒



1:35 ☐
7:5 ☐
7:05 ☒

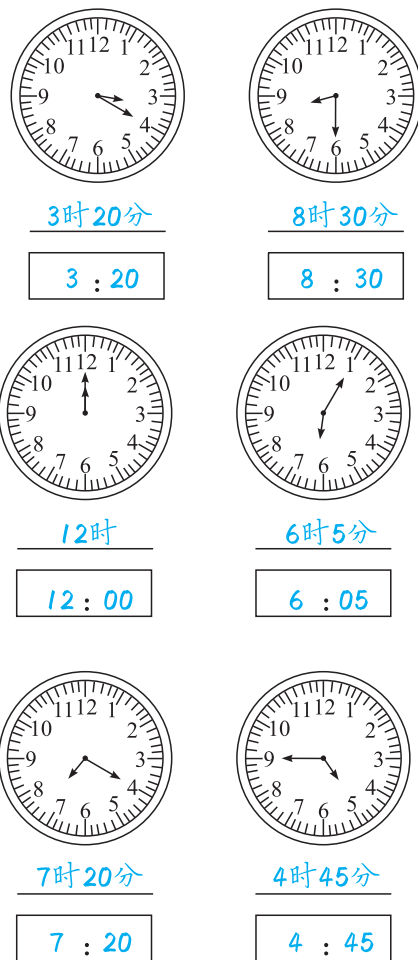


11:50 ☐
9:55 ☒
10:55 ☐

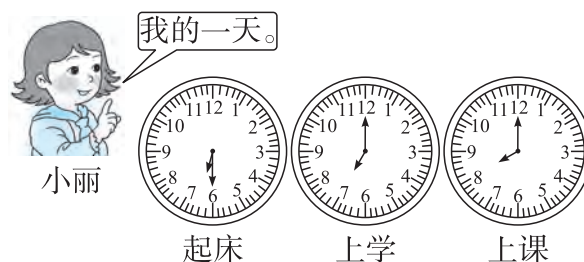


8:25 ☒
9:25 ☐
4:45 ☐

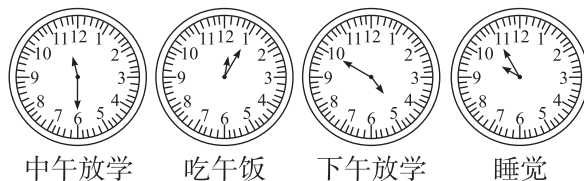
五、写出钟面上的时刻。(12分)



六、看图说一说,填一填。(14分)

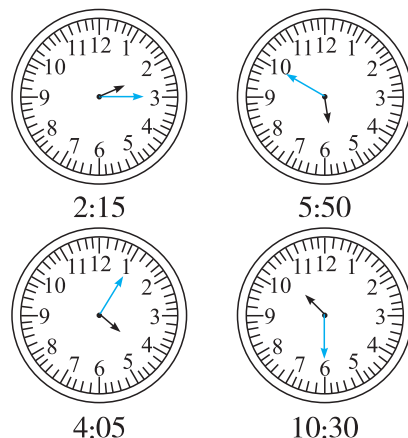


小丽早上(6:30)起床,(7:00)上学,(8:00)上课。




中午(11:30)放学,(12:05)吃午饭;下午(4:50)放学,晚上(9:55)睡觉。

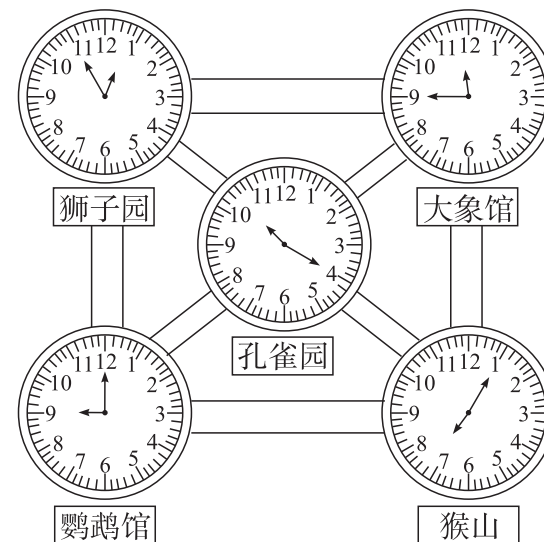
七、画出钟面上的分针。(8分)



八、先填空,再找规律,最后画出第4个钟面上的时针和分针。(9分)



九、小兰的周末。(12分)



1. 小兰到达孔雀园的时间是 10:20。
2. 小兰的参观路线是:(猴山)→(鹦鹉馆)→(孔雀园)→(大象馆)→(狮子园)。