



基础计算 14 (3. 14)

10 以内加减综合

$7+3=$

$2-0=$

$4-0=$

$4+1=$

$6+3=$

$7-0=$

$1+1=$

$5+1=$

$2+8=$

$5-0=$

$3+4=$

$5-3=$

$10-5=$

$3+3=$

$9-3=$

$5+5=$

$9-3=$

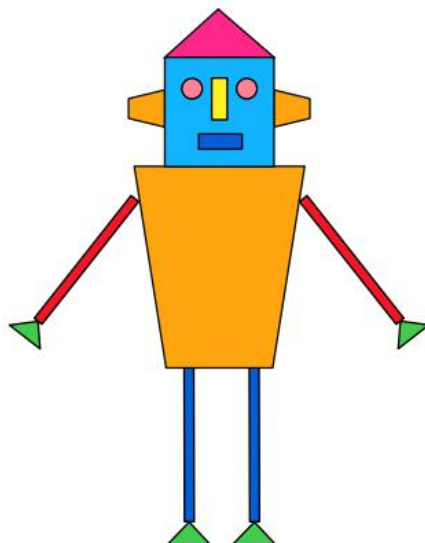
$10+0=$

$8-2=$

$7+0=$



请你数一数，机器人身上的每种图形分别有多少个




 () 个

 () 个


 () 个

 () 个

 () 个



2018幼升小QQ交流群



小九老师微信，扫一扫添加