



基础计算 15 (3. 15)

10以内加法

$5+2=$

$3+3=$

$2+2=$

$5+3=$

$4+4=$

$4+1=$

$0+4=$

$3+4=$

$2+1=$

$1+5=$

$7+1=$

$6+2=$

$5+1=$

$1+7=$

$1+6=$

$8+2=$

$5+0=$

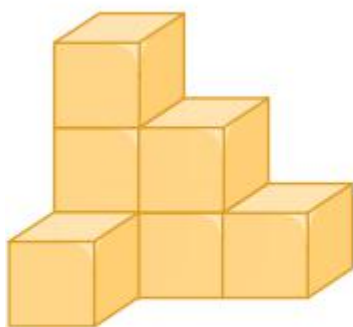
$5+4=$

$3+6=$


$3+1=$




数一数，下面各图中，小正方体各有多少个？




() 个



() 个



2018幼小QQ交流群



小九老师微信，扫一扫添加