

## 基础计算 16 (3. 16)

10以内减法

$5-3=$

$3-3=$

$4-1=$

$8-2=$

$3-2=$

$6-4=$

$9-5=$

$7-4=$

$9-1=$

$10-6=$

$8-5=$

$10-4=$

$7-5=$

$8-4=$

$9-3=$

$6-1=$

$7-0=$

$8-2=$


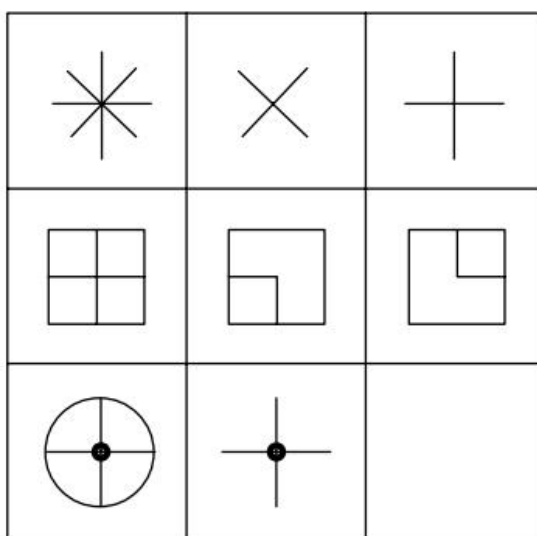
$6-1=$

$9-6=$




每日一题

观察下面图像的规律，请你画出空白处的图形。



2018幼升小QQ交流群



小九老师微信，扫一扫添加