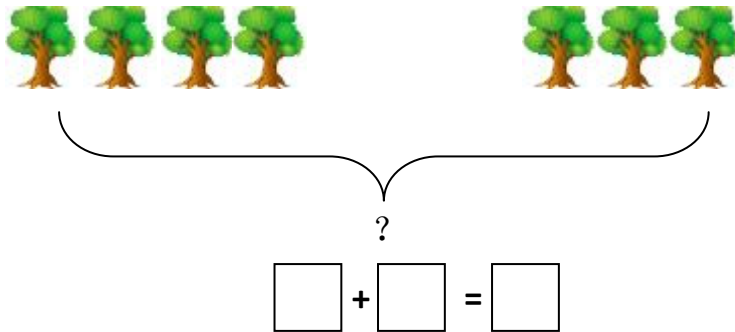


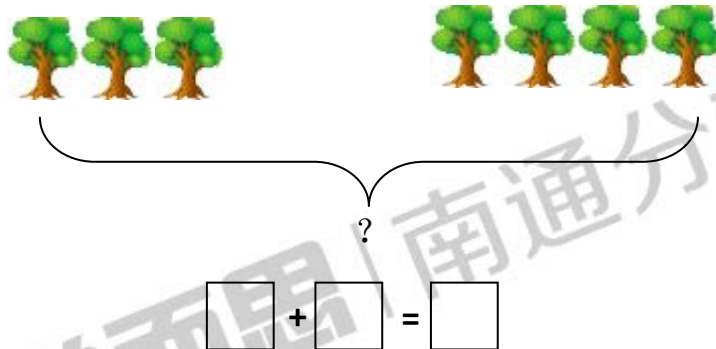


计算营第 7 天 (3.28)

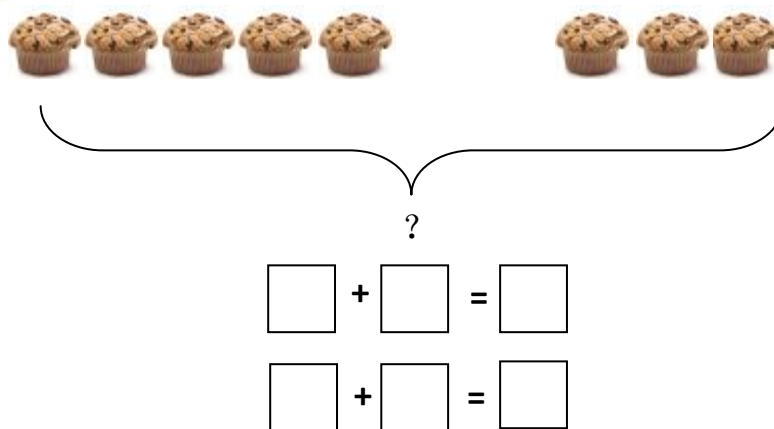
1、仔细看图，你能写出对应算式吗？




小朋友们思考一下，如果左右两边的大树交换位置，结果还一样吗？



2、小明吃了 3 个蛋糕，小美吃了 5 个蛋糕，他们一共吃了多少个呢？



2018幼升小QQ交流群



小九老师微信，扫一扫添加