

北师大一年级数学下册期末检测①卷及答案

一、填一填。(每空 1 分, 共 24 分)

1. 一个数个位上是 3, 十位上是 6, 这个数是(), 读作()。

2. 87 里面有()个十, ()个一。

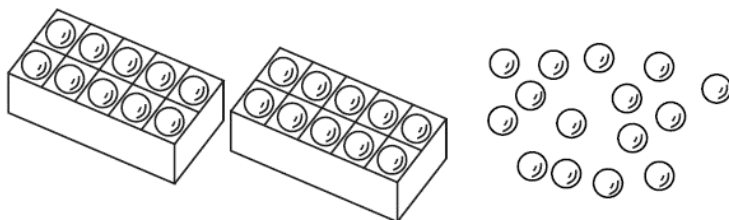
3. 72 比 38 多(), 64 比 92 少()。

4. 找规律填数。


(1) 33, 36, (), 42, ()。

(2) 70, 75, (), 85, ()。

5. 数一数, 共有()个○。



6.



() 个 ,
 () 个 ,
 () 个 ,
 () 个 .

7. 在○里填上“>”“<”或“=”。

$$65 - 27 \bigcirc 65 - 37$$

$$54 - 18 \bigcirc 65 - 18$$

$$34 + 30 \bigcirc 30 + 34$$

$$67 + 19 \bigcirc 19 + 77$$

8. 把下列算式按得数从小到大排列。

79-9	65-20	24+8	43-8	15+26

() < () < () < () < ()

二、算一算。(1 题 9 分, 2 题 12 分, 共 21 分)

1. 直接写得数。

$50+20=$

$82-7=$

$25+30=$

$27+5=$

$44+20=$

$32-4=$

$26+40=$

$78-9=$

$56-8=$

2. 用竖式计算。

$42+19=$

$100-29=$

$63-36=$

$50-31=$

三、选一选。(把正确答案的序号填在括号里)(每题 2 分, 共 8 分)

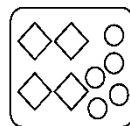
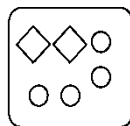
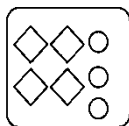

1. 下面哪个算式的得数是五十多? ()

① $18+48$

② $44+9$

③ $54-6$

2. 如果下面的图左边表示 32, 右边的图表示 45 的是()



①

②

③

3. 数学书的封面是()。

①长方形

②正方形

③圆

4.



我吃了28只虫子。

我吃的比你多得多。



蜻(qīng)蜓(tíng)可能吃了()只虫子。

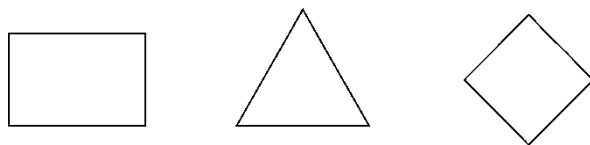
① 25

② 32


③ 74

四、动手操作。(每题 6 分, 共 12 分)

1. 画一条线把下面的图形分成大小相等的两部分。

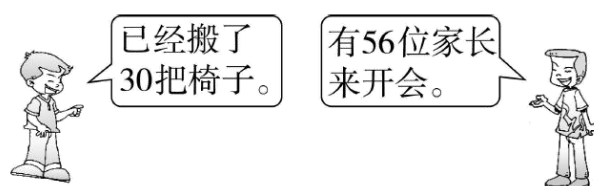


2. 他们分别看到了什么? 连一连。



五、解决问题。(3 题 8 分, 5 题 9 分, 其余每题 6 分, 共 35 分)

1. 还缺多少把椅子?



2. 乐乐有 70 元, 够买哪两样?



3.

我们班有 38 人。



我们班有 36 人。

(1) 两个班一共有多少人?

$$\square \bigcirc \square = \square \text{ (人)}$$

(2) 如果给每人发一支铅笔, 80 支够吗?

4. 他们选哪两辆车最合适？



5. 下面是 2016 年里约奥运会金牌榜。(单位：枚)

美国	英国	中国	俄罗斯
46	27	26	19

(1)我国比俄罗斯多几枚金牌？

$$\square \bigcirc \square = \square \text{ (枚)}$$

(2)再提出一个数学问题，并解答。

答案

一、1. 63 六十三 2. 8 7 3. 34 28

4. (1)39 45 (2)80 90 5. 35 6. 2 4 2 4

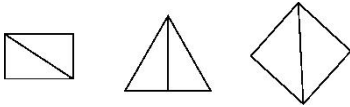
7. $>$ $<$ $=$ $<$

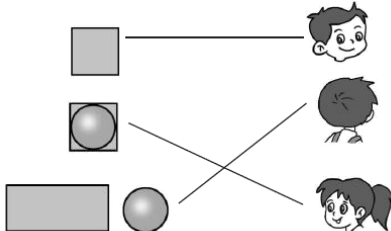
8. $24+8<43-8<15+26<65-20<79-9$

二、1. 70 75 55 32 64 28 66 69 48

2. (竖式略)61 71 27 19

三、1. ② 2. ③ 3. ① 4. ③

四、1.  (答案不唯一)

2. 

五、1. $56-30=26$ (把) 答: 还缺 26 把椅子。

2. (答案不唯一) $26+38=64$ (元) $64<70$

答: 可以买玩具汽车和玩具熊。

3. (1) $38+36=74$

(2) $80>74$ 答: 80 支够。

4. $32+18=50$ (人) $36+14=50$ (座) $42+8=50$ (座)

答: 选 36 座和 14 座的或选 42 座和 8 座的最合适。

5. (1) $26-19=7$ (2)略。