

## 第2课时 买文具



### 课前自主梳理

开心预习新课,轻松搞定基础。

1. 填一填。

(1)  $36 \div 9 + 5$  先算\_\_\_\_\_法,再算\_\_\_\_\_法,结果是\_\_\_\_\_。

(2)  $80 - 45 \div 5$  先算\_\_\_\_\_法,再算\_\_\_\_\_法,结果是\_\_\_\_\_。

(3)  $15 + 8 \div 2$  先算\_\_\_\_\_法,再算\_\_\_\_\_法,结果是\_\_\_\_\_。

(4) 在一个算式里,有加减法,又有乘除法,应先算\_\_\_\_\_法,再算\_\_\_\_\_法。



### 课堂快乐提升

重难疑点,一网打尽。

2. 看谁算得最正确。

$$14 + 24 \div 4$$

$$3 \times 7 - 16$$

$$26 - 18 \div 3$$

3. 数学小诊所。如果有问题请改正。

$$24 + 8 \div 4$$

$$35 - 14 \div 7$$

$$= 32 \div 4$$

$$= 21 \div 7$$

$$= 8( \quad )$$

$$= 3( \quad )$$



### 课后拓展冲浪

源于教材,宽于教材,拓展探究显身手。

4. 旅游中的学问。

(1)



买一张儿童票和4张成人票,共花多少钱?

(2)



我有50元,买9张儿童票,应找回多少钱?

票价

成人:9元

儿童:4元

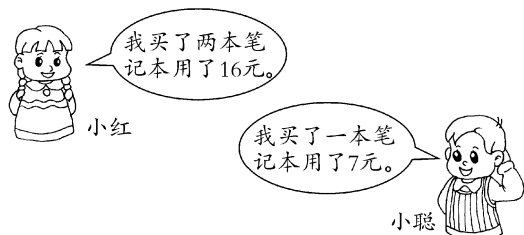
分步算式: \_\_\_\_\_

综合算式: \_\_\_\_\_

分步算式: \_\_\_\_\_

综合算式: \_\_\_\_\_

5.



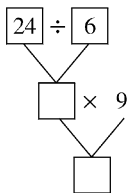
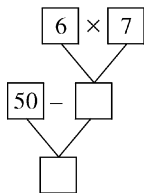
小红买的一本笔记本比小聪买的一本笔记本多用多少钱?



### 思维拓展提升

这是一座由课内通向课外的桥梁……

6. 算一算,并列出综合算式。



7. ( )里应填几?

$$(\quad) + 30 \div 5 = 30$$

$$18 - 18 \div (\quad) = 12$$

$$48 - (\quad) \times 6 = 18$$

$$(\quad) - 15 \div 3 = 5$$

## 第 2 课时

1. (1)除 加 9 (2)除 减 71 (3)除 加 19  
(4)乘除 加减

2. 20 5 20

3.  $\times$  26  $\times$  33

4. (1) $9 \times 4 = 36$ (元)  $4 + 36 = 40$ (元)  
 $4 + 9 \times 4 = 40$ (元)  
(2) $4 \times 9 = 36$ (元)  $50 - 36 = 14$ (元)  
 $50 - 4 \times 9 = 14$ (元)

5.  $16 \div 2 = 8$ (元)  $8 - 7 = 1$ (元)或  $16 \div 2 - 7 = 1$ (元)

6.  $42 - 8 - 50 - 6 \times 7 = 8$  4 36  $24 \div 6 \times 9 = 36$

7. 24 3 5 10