

第4课时 去奶奶家



课前自主梳理

开心预习新课,轻松搞定基础。

1. 填一填。




(1) 7 个十乘 5 是()个十。

(2) 35 个十加 1 个十是()个十就是()。


(3) 7 个十加 5 个十是()个十。

(4) 7 个百加 1 个百是()个百就是()。

2. 帮小蜜蜂找花。



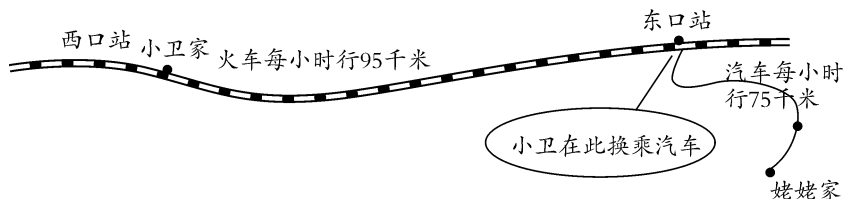
3. 做一做。



课堂快乐提升

重难点,一网打尽。


4. 小卫放暑假时去姥姥家,先乘 3 时的火车,又乘 2 时汽车。



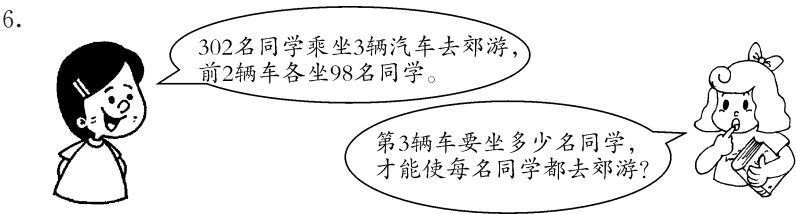
(1) 在图中用 \triangle 标出: 小卫乘火车 2 时后, 火车的大概位置。

(2) 从小卫家到姥姥家一共有多少千米?

5. 饲养场有多少只羊？

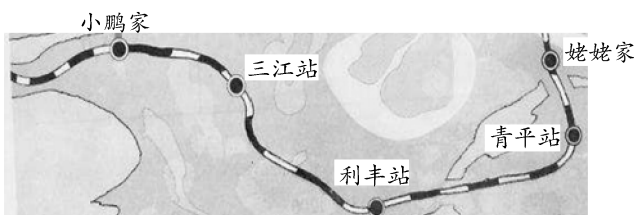


6.



课后拓展冲浪 源于教材,宽于教材,拓展探究显身手。

7. 小鹏去姥姥家要经过三江站、利丰站和青平站。



小鹏家——三江站	116 千米
小鹏家——利丰站	285 千米
利丰站——青平站	234 千米
青平站——姥姥家	89 千米

- (1) 三江站到利丰站的路程是多少千米？画一画,算一算。
- (2) 小鹏家到姥姥家的路程是多少千米？
- (3) 火车平均每小时行驶 152 千米,小鹏从家出发,3 小时候大约行驶到什么位置？请在途中标出来。

第 4 课时

1. (1)35 (2)36 360 (3)12 (4)8 800 **2.** 略

3. 138 60 752 904 903 690

4. (1)略 (2)435 千米 **5.** 990 只 **6.** 106 名

7. (1) $285-116=169$ (千米)

(2) $285+234+89=608$ (千米) (3)略