

## 第4课时 综合练习



### 基础过关

不夯实基础，难建成高楼。

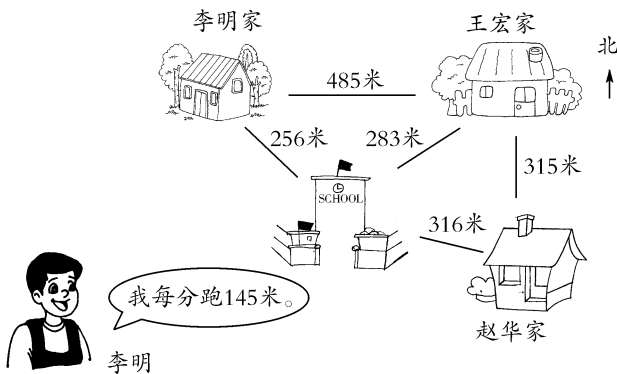
1. 每年上半年有( )个月,31天的月份有( ),30天的月份有( ),平时时二月有( )天。
2. 妈妈今年36岁,但她只过了10个生日,猜一猜妈妈是( )月( )日出生的。
3. 小华每天早上7时30分到校,中午11时35分放学回家。他上午在校时间是( )。
4. 下列年份是闰年的有( )。  
A. 1700 B. 2000 C. 1984 D. 2009 E. 2100
5. 判一判。  
(1)每一年的单月是小月。( )  
(2)“六一”儿童节在第三季度。( )  
(3)晚上8时用24时计时法表示是20:00。( )  
(4)凡是公历年份是4的倍数的都是闰年。( )



### 综合拓展

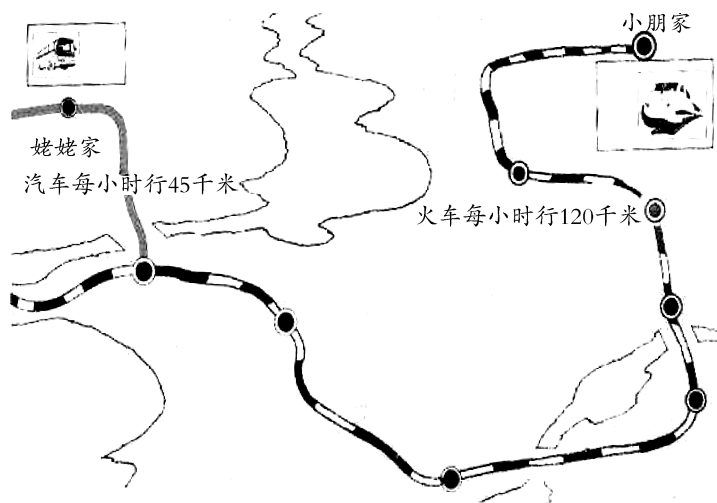
重点难点，一网打尽。

6.



- (1)李明从家经过学校到达赵华家,共有( )种不同的走法。
- (2)王宏家在赵华家的( )面。
- (3)李明晨跑,路经学校、赵华家、王宏家,跑一圈10分够吗?

7. 小朋放寒假时去姥姥家,先乘坐上午 9 时的火车,下午 1 时到站。接着又改乘汽车,2 小时后到达姥姥家。




- (1) 在图中标出发后 2 小时火车的大概位置。
- (2) 从小明家到姥姥家一共有多少千米?



### 开放探究

举一反三,应用创新,方能一显身手。

8. 小敏同学有 3 件上衣与 2 条裙子,要配成一套衣服,有多少种不同的搭配方法? 请你自己用一种方式把它们搭配方法表示出来。



9. 兵兵星期天可以去看电影、去动物园和去书店买书,但时间只允许他做两件。你把兵兵星期天可能做的两件事列出来,看有几种情况?



我是去看电影,还是去动物园,还是书店呢?

**第 4 课时**

**1.** 6 1 月、3 月、5 月 4 月、6 月 28 **2.** 2 29

**3.** 4 小时 5 分

**4.** B、C

**5.** (1)× (2)× (3)✓ (4)×

**6.** (1)略 (2)北 (3)够

**7.** (1)略 (2)570 千米

**8.** 6 种 方法略 **9.** 略