

期中检测题(B卷)(江苏版)

(时间:60分钟 满分:100分)

一、填空题(每空1分,共20分)

- 1. 一袋盐重 500 克,2 袋这样的盐重( )千克。
- 2. 在( )里填上最大的数。  
 $3 \times ( ) < 22$                        $58 > ( ) \times 7$                        $42 > 8 \times ( )$   
 $( ) < 56$
- 3. 要使  $5\square 26 < 5314$ , $\square$ 里面最大填( ),最小填( )。
- 4. 长方形的周长 = ( )。
- 5. 在括号内填上合适的单位名称:  
小明身高 124 ( ),体重 32 ( ),每天喝牛奶 300 ( )。
- 6.  $3 \text{ 千米} = ( ) \text{ 米}$                        $50 \text{ 毫米} = ( ) \text{ 厘米}$                        $4000 \text{ 克}$   
 $= ( ) \text{ 千克}$   
 $2 \text{ 米} = ( ) \text{ 分米}$                        $2 \text{ 分} = ( ) \text{ 秒}$                        $6 \text{ 分} =$   
 $( ) \text{ 秒}$
- 7. 从 4、0、6、1、7 这 5 张卡片中选 4 张摆出一个四位数,摆出的最小四位数是( ),最大四位数是( )。
- 8. 将下列各数量按照从小到大的顺序排列。  
 $5400 \text{ 克}$                        $5040 \text{ 克}$                        $989 \text{ 克}$   $5 \text{ 千克}$

二、判断题(对的打“√”,错的打“×”)(每题1分,共5分)

- 1.  $56 \times 4 \times 2$  与  $56 \times 8$  的结果相等。 ( )
- 2. 5 千克的铁比 5000 克的棉花重。 ( )
- 3. CCTV-1 的《新闻联播》节目在晚上 19:00 开始播出。 ( )
- 4. 两位数乘一位数,积不是两位数就是三位数。 ( )
- 5. 最大的四位数比最小的四位数大 9998。 ( )

三、选择题(把正确答案的序号填在括号中)(5分)

- 1. 小华上学路上需要走 20 分钟,他到校时是 7:10,他( )从家里出发。  
A. 6 时 30 分                      B. 7 时 30 分                      C. 6 时 50 分
- 2. 一袋牛奶重 200 克,( )袋牛奶重 1 千克。  
A. 10 袋                      B. 5 袋                      C. 4 袋
- 3. 丁丁做 5 道口算题,每道题用 9 秒,芳芳做 6 道口算题,每道题用 8 秒,比一比( )  
A. 丁丁先做完                      B. 芳芳先做完                      C. 两人同时做完
- 4. 下列算式中,结果是七十多的是( )。  
A.  $48 + 18$                       B.  $85 - 19$                       C.  $95 - 19$
- 5. 60 个同学分组活动,下面第( )种分法得到的组数最多。

- A. 每 3 人分一组
- B. 每 4 人分一组
- C. 每 6 人分一组

四、直接写出得数( 每题 1 分,共 18 分)

$30 \times 3 =$

$45 - 9 =$

$80 \times 2 =$

$49 + 33 =$

$21 \times 4 =$

$4 \times 12 =$

$96 \times 3 =$

$11 \times 8 =$

$80 - 57 =$

$1000 - 999 =$

$1300 - 900 =$

$2400 + 600 =$

$1500 - 900 =$

$5200 - 2000 =$

$800 + 300 =$

$8000 - 5000 =$

$5000 + 500 =$

$10000 - 4000 =$

五、列竖式计算(带☆的要验算) ( 每题 3 分,共 12 分)

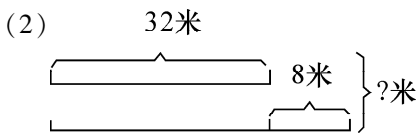
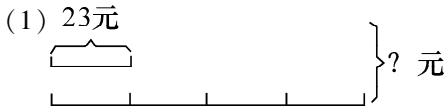
$108 \times 4 =$

$7 \times 22 =$

$\star 905 \times 6 =$

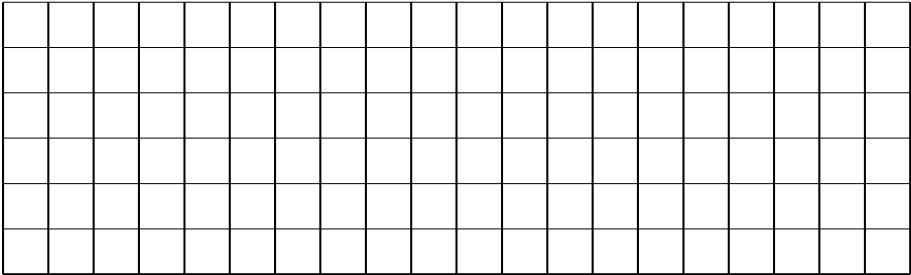
$\star 8 \times 33 =$

六、看图列式计算( 每题 3 分,共 6 分)



七、操作题(6 分)

画一个长 5 厘米,宽 3 厘米的长方形和一个周长是 12 厘米的正方形。(小正方形的边长为 1 厘米)

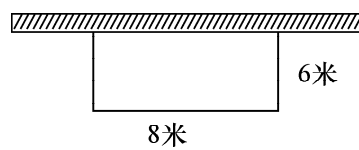


长方形的周长是(        )厘米,正方形的边长是(        )厘米。

八、解决问题(28 分)

1. 足球有 18 个,篮球的个数是足球的 3 倍多 13 个。篮球有多少个?

2. 如下图,小明家利用一面院墙,用篱笆围成一个长方形花园。花园长 8 米,宽 6 米,篱笆一共长多少米?



3. 学校图书室订阅科技书和童话书共 83 种,其中科技书 38 种。科技书比童话书少订阅多少种?

4. 卡车有 26 辆,客车比卡车多 18 辆,轿车的辆数是卡车的 3 倍。

(1) 卡车比轿车少多少辆?

(2) 客车和卡车一共有多少辆?