



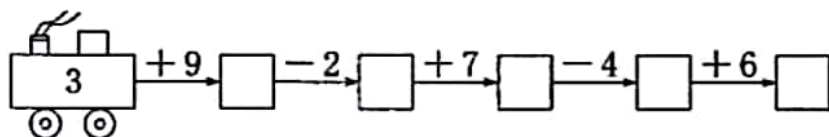
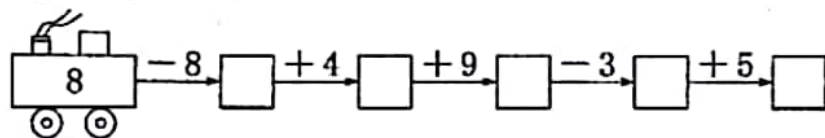
一、填一填。(第4题7分,其余每空1分,共14分)

1. 个位上是9,十位上是1,这个数是()。
2. 13前面的第三个数是(),后面的第二个数是()。
3. 16的个位上是(),表示()个一,十位上是(),表示()个十。
4. 在3、5、8、11、7、20、19、13中,一共有()个数。从左边数,7排第(),第4个数是()。这几个数中,最小的数是(),最大的数是()。将这几个数按从小到大的顺序排列是()。

二、计算。(18分)

$4+7=$	$15-5=$	$10+3=$	$16-6=$
$14-3=$	$18-7=$	$12-2=$	$15-4=$
$5+8=$	$7+6=$	$3+9=$	$0+11=$
$14-4+7=$	$11-1+7=$	$8+5-3=$	
$6+3+9=$	$19-4-5=$	$5+7+4=$	

三、开火车。(10分)



四、在 里填上合适的数。(8分)

$8 > \square + 7$	$6 + 9 = \square + 5$	$6 - \square = 0$	$\square + 7 = 7$
$15 - 5 = \square$	$\square + 9 < 10$	$\square + 6 = 7 + 2$	$9 > \square + 8$

五、从5、15、10、20中,选出3个数写两道加法算式和两道减法算式。(4分)

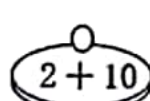
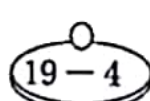


$\square \bigcirc \square = \square$
$\square \bigcirc \square = \square$
$\square \bigcirc \square = \square$
$\square \bigcirc \square = \square$

六、连一连。(共9分)

1. 军军的一天。(4分)



2. 给杯子找到合适的盖子。(5分)



七、森林王国召开动物爬山比赛,动物们11时同时出发,下面是它们到达山顶的时间,你知道它们的名次吗? 写在下面的括号里。(4分)



第()名



第()名

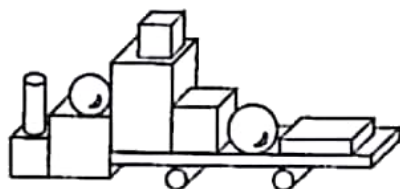


第()名



第()名

八、数一数,填一填。(4分)



()个

()个

()个

()个

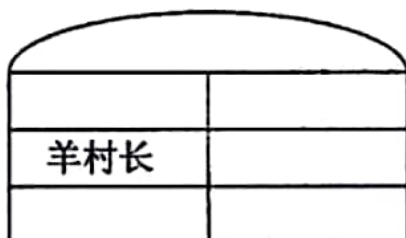
九、帮他们找家。(4分)



我住在海绵宝宝家右边。



我住在喜羊羊家楼下。



我住在羊村长家楼上。

我住在羊村长家右边。



十、看图列式计算。(第1题4分,其余每题2分,共10分)




$$\square \bigcirc \square = \square (\text{个})$$

$$\square \bigcirc \square = \square (\text{个})$$

$$\square \bigcirc \square = \square (\text{个})$$


$$\square \bigcirc \square = \square (\text{个})$$



$$\square \bigcirc \square \bigcirc \square = \square (\text{颗})$$



$$\square \bigcirc \square \bigcirc \square = \square (\text{个})$$



$$\square \bigcirc \square \bigcirc \square = \square (\text{只})$$

十一、解决问题。(第1题3分,第2题7分,第3题5分,共15分)

1. 还剩多少本没发?

16本本子,已经发了6本。



$$\square \bigcirc \square = \square (\text{本})$$

2.



梨有()个,草莓有()个,萝卜有()个。

(1) 梨和草莓共有多少个?

$$\square \bigcirc \square = \square (\text{个})$$

(2) 萝卜比梨多多少个?

$$\square \bigcirc \square = \square (\text{个})$$

3.



我折了 8 个。



我折了 3 个。



我折了 4 个。

一共要折 20 个,够不够?

$$\square \bigcirc \square \bigcirc \square = \square (\text{个})$$

$$\square < \square (\text{够, 不够})$$

期末测评卷(二)



一、1. 19 2. 10 15 3. 6 6 1 1 4. 8 5 11 3 20 $3 < 5 < 7 < 8 < 11 < 13 < 19 < 20$

二、11 10 13 10 11 11 10 11 13 13 12 11 17 17 10 18 10 16

三、0 4 13 10 15 12 10 17 13 19

四、0 10 6 0 10 0 3 0

五、 $5+10=15$ $10+5=15$ $15-5=10$ $15-10=5$ (或 $5+15=20$ $15+5=20$ $20-5=15$ $20-15=5$)

六、1.  2. 

七、三 二 四 一

八、2 4 3 3

九、

海绵宝宝	灰太狼
羊村长	喜羊羊
	美羊羊

十、1. $4+6=10$ $6+4=10$ $10-4=6$ $10-6=4$ 2. $5+2+4=11$ 3. $12-2-4=6$ 4. $6+4-3=7$

十一、1. $16-6=10$ 2. 8 2 10 (1) $8+2=10$ (2) $10-8=2$ 3. $8+3+4=15$ $15 < 20$ 不够