

第一单元评估检测题(B卷)

(时间:60分钟 总分:100分)

一、比一比,看谁算得快(12分)

$18+49=$

$29+70=$

$30+25=$

$63-9=$

$56+31=$

$78-39=$

$16+18=$

$48-6=$

$24+16=$

$36-15=$

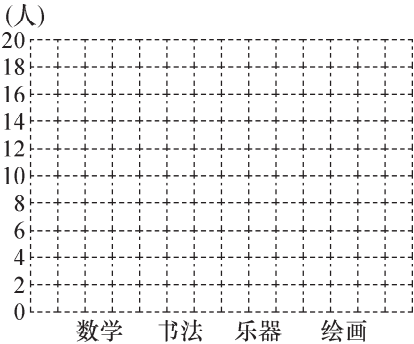
$12+18=$

$90-54=$

二、下面是二年级一班课外兴趣小组人数情况统计表(16分)

小组	数学组	书法组	乐器组	绘画组
人数	正正	正正正正	正下	正丁

1. 请你根据统计表完成下面的统计图。






2. 每格代表( )人。
3. ( )组人数最多,( )组人数最少,两个组相差( )人。
4. 你还能提出什么数学问题? 请你试着解答。

三、根据统计表完下面的问题(12分)

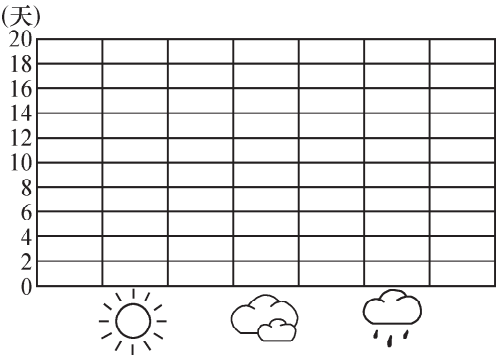
种类	客车	货车	面包车	小轿车
辆数(辆)	20	15	25	40


1. 小轿车比客车多( )辆。
2. ( )最少,( )最多。
3. 货车和面包车相差( )辆。
4. 面包车和货车的总辆数和( )同样多。
5. 这四种车一共有( )辆。



四、下面是某地九月份的天气情况(共 18 分)

天 气			
天 数	20	8	2

1. 请根据统计表完成统计图。



2.  的天数比  的天数多(        )天。

3.  的天数比  的天数少(        )天。

4. 你喜欢什么样的天气？说说你的想法。

五、某班选班干部，老师用画“正”的方法统计票数，请你帮忙算一算评选结果(18 分)

小明	正正
小亮	正
小红	正
小杰	正正正正正一
小芳	正正正

1. 把记录结果填在下表中。

姓名	小明	小亮	小红	小杰	小芳
得票	(        )张	(        )张	(        )张	(        )张	(        )张

2. (        )的得票最多，(        )的得票最少。

3. 小芳比小亮多得(        )张票。

4. 小红比小杰少得(        )张票。

5. 谁应该当班选班长？说说你的理由。

6. 如果每人只能投一票，你能算出一共有多少人参加投票了吗？

六、下面是明明调查本班同学喜欢吃水果的情况(共 12 分)

葡萄    男生:5 人    女生:7 人                      西瓜    男生:10 人    女生:6 人  
苹果    男生:12 人    女生:8 人                      菠萝    男生:9 人    女生:5 人

1. 请根据上面的记录填写下表，并回答问题。(8 分)

水果	葡萄	西瓜	苹果	菠萝
人数				

2. 全班一共有(        )人。

3. 喜欢吃(        )的人数最多。

4. 你喜欢吃什么水果？

七、下面是二(2)班各小组庆祝国庆节做彩旗的情况表(12 分)

小组	第一组	第二组	第三组	第四组	第五组
面数	10	14	12	8	16

1. 第(        )组做彩旗最多，第(        )组做的彩旗最少。

2. 第二组比第三组多做了(        )面；第一组比第五组少做了(        )面。

3. 二(2)班各小组一共做了(        )面彩旗。

4. 你还能提出哪些数学问题并解答？