





# 第五单元评估检测题(A 卷)

(时间:60 分钟 总分:100 分)

## 一、填空题(每空 1 分,共 22 分)

1. 在  $21+48\div6$  这道题里,要先算( )法,再算( )法。
  2. 在有小括号的算式里,应先算( ),再算( )。
  3. 9 个 6 是( ),再加上 32 的和是( )。
  4. 用 49 减去 35 除以 7 的商,差是( )。
  5. 在  $54+4\times7$  这道题中,既有( )法,又有( ),要先算( )法,再算( )法。
  6. 二年级有女生 23 人,男生 22 人,共有学生( )人。如果每 5 个人一组做实验,可以分( )组。列一个综合算式是( )。
  7. 在  $\bigcirc$  里填上“>”“<”或“=”。
- $6\times5+6$   $\bigcirc$  35       $(3+5)\times1$   $\bigcirc$  8       $20-4\div4$   $\bigcirc$  4  
 $5\times(10-8)$   $\bigcirc$  10       $38$   $\bigcirc$   $6\times7-3$        $63$   $\bigcirc$   $7\times8+9$
8. 妈妈买回 3 捆铅笔,每捆 8 支,送给妹妹 12 支,还剩多少枝? 这道题先算( ),再算( )。

## 二、青蛙回家(用线把青蛙和荷叶连起来)(8 分)

			
<div style="border: 1px solid black; padding: 5px; display: inline-block;">64+4-13</div>	<div style="border: 1px solid black; padding: 5px; display: inline-block;">15-6\times2</div>	<div style="border: 1px solid black; padding: 5px; display: inline-block;">(90-85)\times6</div>	<div style="border: 1px solid black; padding: 5px; display: inline-block;">94-29-34</div>

			
---	---	---	---

## 三、下面的( )里最大能填几(6 分)

- ( ) $\times7=50$       ( ) $\times5<32$       ( ) $\times4<30$   
 $48>( )\times7$        $76>( )\times9$        $38>( )\times8$

## 四、计算(29 分)

### 1. 口算。(5 分)

$5\times7=$	$36+35=$	$60+25=$	$76-40=$	$68-5=$
$9\times6=$	$6\times7=$	$12+28=$	$80-23=$	$8+7=$

### 2. 脱式计算。(8 分)

$44+28-15$	$4\times6+7$	$64+(52-29)$
------------	--------------	--------------

$65-5\times9$	$63-(32-23)$	$24\div6\times8$
---------------	--------------	------------------

### 3. 看下面各题,写出一道两步计算的算式并计算。(6 分)

(1)  $6\times7=42$        $42-15=27$

(2)  $15+9=24$        $24\div4=6$

五、解决问题(36 分)

1. 二年级一班的图书箱里共有 48 本书,今天新增加了 14 本,又借出去了 20 本。现在还有多少本书?(4 分)

2. 应找回多少钱?(4 分)

  
6元



我买3个，  
给售货员20  
元。

3. 果园里有苹果树、梨树、桃树共 87 棵。桃树有多少棵?(4 分)



苹果树有30  
棵，梨树有  
25棵。





4. (4 分)



一共有多少瓶矿泉水?



5. 儿童乐园成人票 8 元,儿童票 4 元。买 1 张儿童票和 7 张成人票,50 元钱够吗?(4 分)

6.



36元      5元      28元      \*元

(1)买 5 本  和一辆  一共需要多少元?(4 分)

(2)90 元买一顶  和一本  ,还剩多少钱?(3 分)

(3)自己想出一个数学问题,并列式解答。(4 分)

7. 小红在看一本 68 页的书,他已经看了 20 页,剩下的要在 8 天内看完,平均每天要看多少页?