

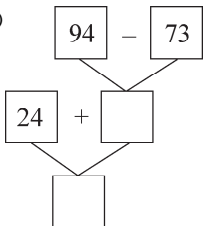
# 第五单元评估检测题(B卷)

(时间:60分钟 总分:100分)

## 一、填空(18分)

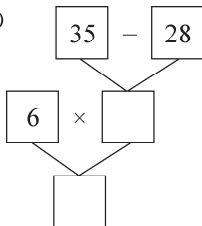
- 27比4个6多( );30减去6的差,除以4得( )。
- 72加上72除以9的商,和是( )。
- 在没有括号的算式里,只有乘、除法或只有加、减法,都要按( )的顺序计算。
- 计算 $52-12\div4$ 时,应先算( )法;计算 $(21-12)\times7$ 时,应先算( )法。
- 7个6加上25的和是( )。
- 先填空,再列综合算式。

(1)



算式: \_\_\_\_\_

(2)



算式: \_\_\_\_\_

7. 在○里填上“>”“<”或“=”。

$$52+15 \bigcirc 15+52$$

$$6+2\times6 \bigcirc (6+2)\times6$$

$$30-3\times9 \bigcirc 27-9-9$$

$$50-14-16 \bigcirc 50-(14+16)$$

8. 一本故事书有40页,看了8页之后,剩下的要用8天看完,平均每天要看( )页。

## 二、选择(12分)

- 算式里没有括号,有乘法和加法,应该( )。  
A. 从左往右依次计算      B. 先算加法      C. 先算乘法
- 算式 $7\times8+8$ 与下面哪个算式的计算结果相同?( )。  
A. 8个8      B. 6个8      C. 9个7
- 在计算 $32+4\times3$ 时应先算什么?( )  
A.  $32+4$       B.  $32+3$       C.  $4\times3$
- 小丽踢了24个毽子,比小佳少踢4个,两人共踢( )个。  
A. 28      B. 20      C. 52
- $(100-46)\div6$ 的得数是( )。  
A. 54      B. 9      C. 8
- 乐乐和他的3个好朋友每人折了9只纸鹤,送给幼儿园的小朋友19只,还剩多少只?列式正确的是( )。  
A.  $3\times9-19$       B.  $4\times9-19$       C.  $4\times9+19$

## 三、脱式计算(18分)

$$36+15-9$$

$$35\div(32-27)$$

$$64-19-15$$

$$(36-29)\times6$$

$$27\div9\times7$$

$$91-(23+57)$$

## 四、我会改错(12分)

$$\begin{aligned} &12\div2\times3 \\ &=12\div6 \\ &=2 \end{aligned}$$

$$\begin{aligned} &(66-24)\div6 \\ &=66-4 \\ &=62 \end{aligned}$$

$$\begin{aligned} &32+8\div8 \\ &=40\div8 \\ &=5 \end{aligned}$$

五、解决问题(每 5 题 16 分,其他每题 4 分,共 40 分)

1. 小刚看一本 40 页的故事书,已经看了 5 天,平均每天看 6 页。还剩多少页没有看?

2.



面粉64元



饼干9元


我带来100元,买了一袋面粉,剩下的钱买饼干。



妈妈还可以买几盒饼干?


3. 妈妈买回 5 盒肉松面包,每盒 6 个,弟弟吃了 4 个,还剩多少个?

4.



我们家原来有25只兔子,又买了15只。

一共有8个笼子。平均每个笼子放几只?



5.



28元



3元





8元



15元

(1)买一副和 6 个,一共需要多少钱?

(2)买 4 个和一副,付 50 元够吗?

(3)小明有 52 元钱,两种球拍各买一副,还剩下多少钱?

(4)你能提出一个数学问题并解答吗?

6. 有一种饮料每瓶 4 元,第一组买了 8 瓶,第二组买了 5 瓶,第二组比第一组少花多少元钱?

7. 小明在计算“ $5+(\quad)\times 7$ ”时弄错了运算顺序,先算加法后算乘法了,结果得数是 49。正确的得数应该是多少?