

第八单元检测试卷

(时间:40 分钟 满分:100 分)

题号	一	二	三	四	五	总分
得分						

一、填空。(28 分)

1. 有 3、6、7 三个数字,按要求填空。

(1)可以组成()个三位数。其中最大的是(),最小的是()。

(2)任选两个数字组成两位数,可以组成()个两位数。

其中最大的是(),最小的是()。

2. 有三个玩具,小汽车、小火车、坦克,按不同的位置摆放,有()种摆法。

3. 用 2、3、9 可以组成()个三位数,分别写出来。

_____、_____、_____、_____、_____、_____

4. 2 个菠萝和 4 个芒果的重量相等,1 个菠萝等于()个芒果的重量。

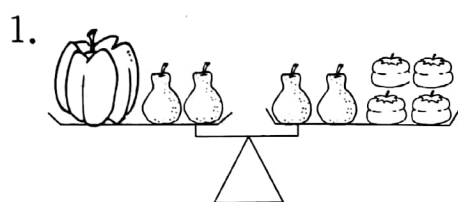
5. 1 个菠萝的重量和 5 个苹果的重量相等,1 个菠萝重 1 千克,1 个苹果重()克。

6. 红红、丽丽、乐乐三个小朋友比赛跳绳,如果乐乐得第一,可能()得第二,()得第三;还可能()得第二,()得




第三。如果红红得第一,可能()得第二,()得第三;还可能()得第二,()得第三。如果丽丽得第一,可能()得第二,()得第三;还可能()得第二,()得第三。


二、看图填空。(24 分)




= ()



= ()



= ()




一只鹅重 4 千克,1 只鸡重
() 千克

5. 货架上有苹果、菠萝、西瓜三种水果,每一层的总质量都是 4 千克。

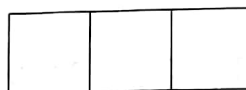
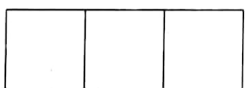
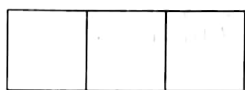
苹果 500 克

菠萝 () 克

西瓜 () 克



6. ○、△、□三个图形排成一排,你有几种不同的排法? 请画出来吧。



三、口算。(10 分)

$$48 \div 6 =$$

$$8 \times 7 =$$

$$72 \div 9 =$$

$$54 \div 9 =$$

$$40 \div 8 =$$

$$7 \times 6 =$$

$$560 + 70 =$$

$$420 + 200 =$$

$$660 - 50 =$$

$$820 - 80 =$$

四、列竖式计算。(16 分)

$$872 - 75 =$$

$$454 + 209 =$$

$$70 \div 9 =$$

$$64 \div 7 =$$



五、解决问题。(22 分)

1. 小红、小丽和小兰,变换她们三个的位置,可以照出几张不同的照片? 全部写出来。

_____	_____	_____
_____	_____	_____

2. 红红、丽丽和明明进行跳绳比赛,结果可能有几种? 全部写出来。

_____	_____	_____
_____	_____	_____

3. 用 2、0、5 可以写出几个不同的三位数,请写出来。

4. 一个苹果重 200 克,一个梨的重量等于两个苹果的重量,一个苹果的重量等于两个橘子的重量。一个梨和一个橘子共重多少克?

