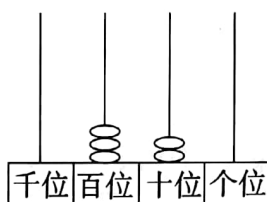
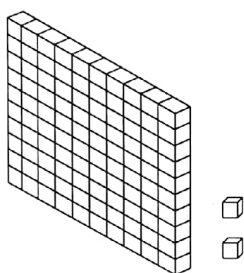


第三单元检测试卷

(时间:40 分钟 满分:100 分)

题号	一	二	三	四	五	六	七	八	总分
得分									

一、我会读数和写数。(12 分)

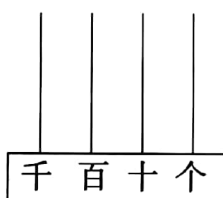


千位	百位	十位	个位
	○ ○	○	○ ○ ○

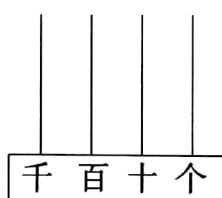
写作:() 写作:() 写作:()

读作:() 读作:() 读作:()

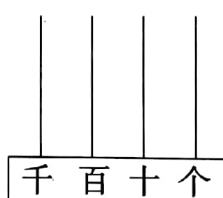
二、看数画珠。(8 分)



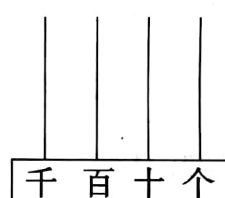
305



560



1000



817

三、填空。(28 分)

- 10 个一是(), 10 个十是(), 10 个一百是()。
- 863 是由()个百、()个十、()个一组成的。
- 5 个百、6 个十和 4 个一组成的数是()。
- 8 个百和 9 个十组成的数是()。
- 一个一个地数, 799 前面的一个数是(), 后面的一个数是()。



6. 一十一十地数, 670 后面的第五个数是()。

7. $9\square3 > 953$, \square 里可以填 6 或()。

8. 下面的数中哪些数最接近 600, 把它们圈起来。

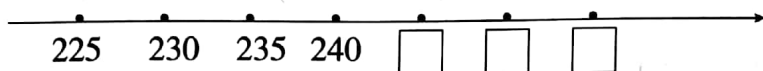
582

498

618

705

9. 在下面的 \square 里填上合适的数。



10. 用 $\square 2$ $\square 5$ $\square 8$ 三张数字卡片, 可以排出()个不同的三位数, 把它们写出来是_____。

其中最大的数是_____, 最小的数是_____。

11. 找出各组数的排列规律, 在()里填上合适的数。

(1) 300 400 500 () () 800

(2) 324 424 () () () 824

(3) 987 887 () 687 () 487

12. 照样子填数。

$$387 = 300 + 80 + 7$$

$$614 = () + () + ()$$

$$803 = () + ()$$

四、帮小鸟回家。(每个数中的“1”各表示什么, 连一连。)(8 分)



五、我知道谁大谁小。(16 分)

1. 在 \bigcirc 里填上“ $>$ ”“ $<$ ”或“ $=$ ”。

$650 \bigcirc 805$

$400 \bigcirc 499$

$690 \bigcirc 675$

$832 \bigcirc 823$

2. 589 464 282 598 992 228

() $<$ () $<$ () $<$ () $<$ () $<$ ()

六、填一填。(10 分)

$825 = (\quad) + (\quad) + (\quad)$

$708 = (\quad) + (\quad)$

$980 = (\quad) + (\quad)$

$350 = (\quad) + (\quad)$

$506 = (\quad) + (\quad)$



七、猜一猜、填一填。(12 分)

1. 小丽和小佳跳绳,小丽跳了 130 下,小佳跳的下数比小丽多一些,你认为小佳跳了多少下? 在你认为合适的答案下面画“ \checkmark ”。

250 下	200 下	140 下



2.



李明家种果树580棵。



小月家比李明家种的少一些。



张华家比李明家种的多得多。

小月、张华家各种多少棵？把名字写在表格里。

580 棵	100 棵	560 棵	600 棵	850 棵
李明				

八、能力冲浪。(6 分)

在一次竞赛中，四位同学的总成绩分别是 323 分、556 分、779 分、765 分，小明是第一名，小红是最后一名，小刚比小明的分数低一些。你能猜出他们四个人各得了多少分吗？

小明得()分、小红得()分、小刚得()分、小玲得()分。

