

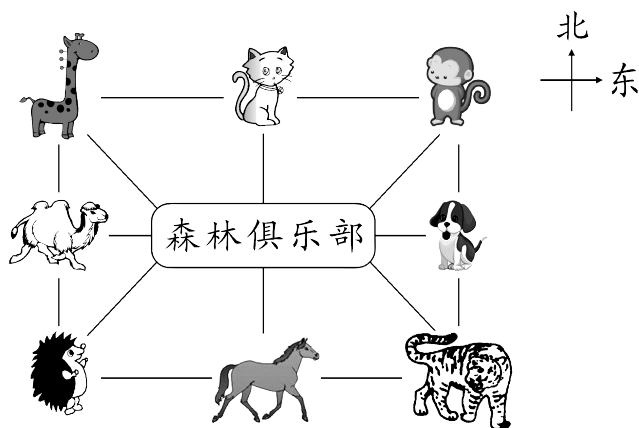
达标测试卷

题号	一	二	三	四	五	六	七	八	总分
得分									







一、填空我能行！（12 分）

- 看地图时，一般上面是（ 北 ），下面是（ 南 ），左面是（ 西 ），右面是（ 东 ）。
- 傍晚，当你面对夕阳时，你的后面是（ 东 ），左面是（ 南 ），右面是（ 北 ）。
- 当你面向东北时，你的左面是（ 西北 ），右面是（ 东南 ），后面是（ 西南 ）。
- 如果学校在你家的西面，那么上学时你就要向（ 西 ）走，放学回家时要向（ 东 ）走。

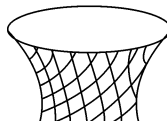
二、森林俱乐部。（9 分）



 在森林俱乐部的（ 西 ）面， 在森林俱乐部的（ 西北 ）面，
 在森林俱乐部的（ 东南 ）面， 在森林俱乐部的（ 西南 ）

面， 在森林俱乐部的(**东北**)面。 在  的(**东北**)面，
 在  的(**西南**)面， 的东南面是(**老虎**)和(**小狗**)。

三、算一算，得数小于 10 的投进东面的篮里，得数大于 20 的投进西面的篮里，其余的投进南面的篮里。(15 分)



$28 \div 4$

4×3

$48 \div 6$

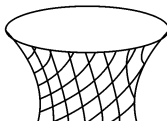
$18 - 6$

$56 \div 7$

8×5

$35 \div 7$

6×7



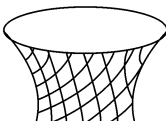
$16 \div 8$

7×2

3×6

9×3

北
↑
—→ 东

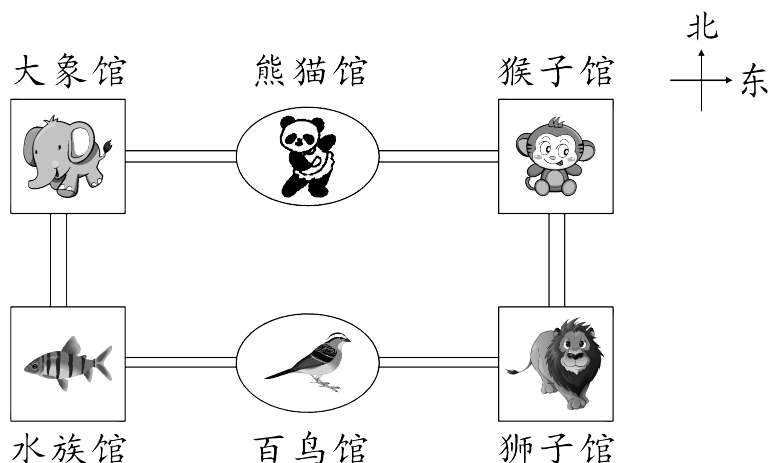


东面的篮里: $28 \div 4$ $56 \div 7$ $16 \div 8$ $48 \div 6$ $35 \div 7$

西面的篮里: 8×5 6×7 9×3

南面的篮里: 4×3 7×2 3×6 $18 - 6$

四、走一走，填一填。(10 分)



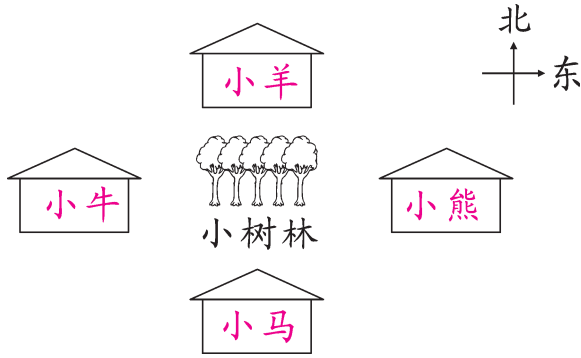
1. 大象馆在水族馆的(**北**)面，狮子馆的北面是(**猴子**)馆。

2. 从猴子馆向(**南**)面走，到(**狮子**)馆，再向(**西**)面走，经过百鸟馆到水族馆。

五、根据要求画一画,填一填。(共 16 分)

1. 找家,填一填。

小熊的家在小树林的东面,小羊的家在小树林的北面,小马的家在小树林的南面,小牛的家在小树林的西面。(8 分)



2. 快帮水果找家,并把它们画在相应的 里。(8 分)

			<input type="text"/>	<input type="text"/>
<input type="text"/>			<input type="text"/>	<input type="text"/>

(1) 在 的北面。

(2) 在 的西面。

(3) 在 的南面。

(4) 在 的东面。

六、想一想,做一做。(14 分)



上图是英才小学的示意图,根据下列条件在图中标一标。

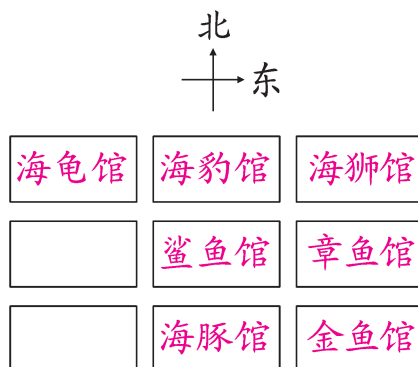
1. 体育馆在教学楼的北面。
2. 综合楼在教学楼的西南方向。

3. 大门在教学楼的南面。
4. 医务室在教学楼的东面。
5. 环形跑道在教学楼的西北方向。
6. 科技楼在教学楼的东北方向。
7. 实验室在教学楼的西面。

七、我会画一画。(9分)



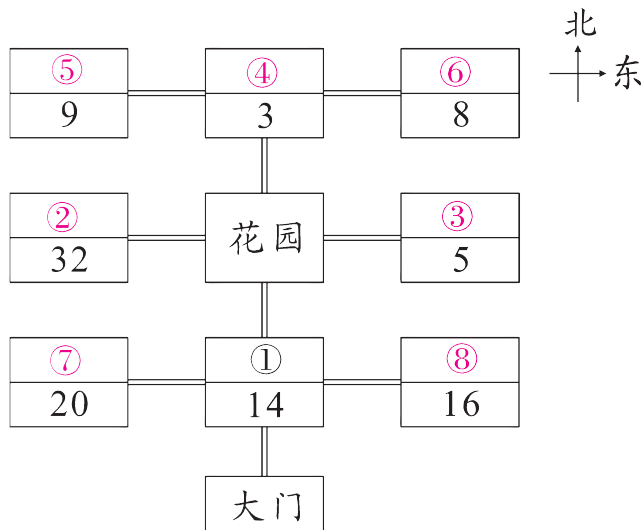
我要设计一个欢乐水族馆。鲨鱼馆在中心位置,它的东面是章鱼馆,西北面是海龟馆,东南面是金鱼馆,东北面是海狮馆,南面和北面分别是海豚馆和海豹馆。快画一画吧!



八、(趣味题)你能找到小动物们的家吗?(共15分)

- | | | | |
|----------------|----------------|----------------|----------------|
| ① 2×7 | ② 4×8 | ③ $30 \div 6$ | ④ $27 \div 9$ |
| ⑤ $36 \div 4$ | ⑥ $24 \div 3$ | ⑦ 4×5 | ⑧ 2×8 |

1. 请你在右图中找出小动物们的家。(填序号)(7分)



2. (④)在花园的北面,
 (③)在花园的东面,
 ①在花园的(南)面,
 ②在花园的(西)面。
 (前两空填序号)(8分)