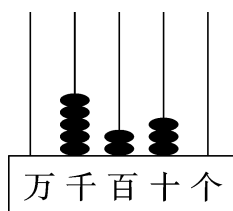
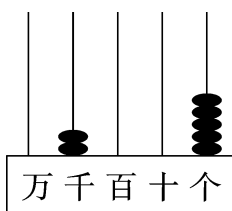
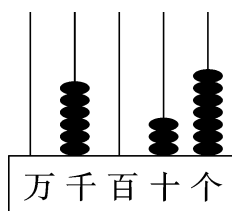
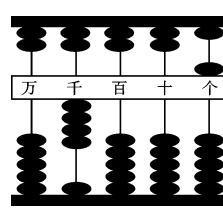


达标测试卷

题号	一	二	三	四	五	六	七	八	总分
得分									

一、看图写数、读数。(8分)

写作：5230读作：五千二百三十写作：2005读作：二千零五写作：6037读作：六千零三十七写作：4005读作：四千零五

二、想一想,填一填。(22分)

1. 一千里面有(10)个百,(10)个一千是一万。
2. 一个数从右边起第二位是(十)位,第四位是(千)位。
3. 最小的五位数是(10000),最大的四位数是(9999),它们相差(1)。
4. 与 3000 相邻的两个数分别是(2999)和(3001),9989 和 9991 中间的数是(9990)。
5. 4600 里面有(460)个十,7000 里面有(70)个百。
6. 一个四位数,个位上是 8,千位上是 6,其余各数位上都是 0,这个数是(6008)。
7. 一台笔记本电脑的价钱是5996 元,横线上的数读作(五千九百九十六),大约是(6000)元。
8. 1 本故事书大约有 50 页,10 本这样的故事书大约有(500)页。

9. 找规律填数。

(1) 4360, 4460, 4560, (4660), (4760), (4860)。

(2) 3897, 3898, (3899), (3900), (3901)。

三、火眼金睛辨一辨。(对的画“√”,错的画“×”)(8分)

1. 4380 是由 4 个千、3 个百和 8 个一组成的。 (×)

2. 6500, 3650, 6705 三个数中的 0 都不读。 (×)

3. 3018 接近 3000, 故 3000 就是 3018 的近似数。 (√)

4. 632 的百位上的“6”比个位上的“2”大 4。 (×)

四、我会填。(12分)

1. 在 ○ 里填上“>”或“<”。

997 (<) 1000

635 (<) 5204

534 (>) 445

5239 (<) 5679

5006 (>) 4998

3812 (>) 3809

2. □ 里最大能填几?

534 > □ 65

□ 01 > 486

4560 > □ 780

6200 < □ 350

□ 000 < 5103

5 □ 92 < 5681

五、看谁算得又对又快。(12分)

30+90=120
1500-800=700
400+600=1000
8000-5000=3000



140-50=90
250+800=1050
3200-600=2600
4800+500=5300



230+400=630
980-80=900
3400+700=4100
7500-500=7000

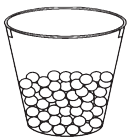


六、猜一猜,估一估。(10分)

1. 估一估,右边的两桶分别有多少颗?(4分)



有50颗。




大约有(100)颗。



大约有(200)颗。

2. 估一估,圈一圈,大约有多少粒?(6分)

100粒



大约有(1200)粒。

七、按要求组数。(9分)

1.



(1)用这四个数字能组成(18)个不同的四位数,其中最大的是(8630),最小的是(3068)。(3分)

(2)用这四个数字组成的四位数中,与8000最接近的是(8036),与4000最接近的是(3860)。(2分)

2.



(1)用这四个数字组成的四位数中,只读一个零的是(6004)。(只写一个)(2分)(答案不唯一)

(2)用这四个数字组成的四位数中,一个零都不读的是(6400)。(只写一个)(2分)(答案不唯一)

八、解决问题。(19分)

1.

果园里的葡萄成熟啦!其中青葡萄树有800棵。



紫葡萄树有500棵。



(1) 两种葡萄树一共有多少棵? (4 分)

【答案】 $800+500=1300$ (棵)

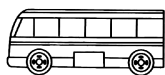
答:两种葡萄树一共有 1300 棵。

(2) 青葡萄树比紫葡萄树多多少棵? (4 分)

【答案】 $800-500=300$ (棵)

答:青葡萄树比紫葡萄树多 300 棵。

2. 动车组列车比客车每分钟多行多少米? (5 分)



每分钟行 800 米




每分钟行 3000 米

【答案】 $3000-800=2200$ (米)

答:动车组列车比客车每分钟多行 2200 米。

3. (创新题) A, B, C 是三个不同的数。(6 分)



(1) B 与 C 之和是多少?

【答案】 $900+700-1300=300$

$1300-300=1000$

答:B 与 C 之和是 1000。

(2) A 与 C 相差多少?

【答案】 $1300-900=400$

$1300-1000=300$

$400-300=100$

答:A 与 C 相差 100。