

达标测试卷

题号	一	二	三	四	五	六	七	总分
得分								

一、想一想,填一填。(16分)

1. 一个加数是 368, 另一个加数是 489, 和是(857); 被减数是 800, 减数是 267, 差是(533)。

2. 比 356 多 179 的数是(535), 比 620 少 456 的数是(164)。

3. 在()里填上合适的数。

$$567 - (258) = 309 \quad (449) + 487 = 936 \quad (447) - 284 = 163$$

$$364 + (356) = 720 \quad 589 + (116) = 705 \quad 314 - (186) = 128$$

4. 实验小学阶梯教室有 600 个座位, 举行“讲诚信, 讲文明”演讲比赛, 一年级去了 249 人, 二年级去了 256 人。他们都坐下后, 阶梯教室里还有(95)个空座位。

5. 白马王子冷饮店上午卖出 246 根雪糕, 比下午多卖出 67 根, 下午卖出(179)根, 这一天共卖出(425)根。

6. 在 里填上合适的数。(3分)

$$\begin{array}{r} \boxed{9} \boxed{1} 4 \\ - 4 6 \boxed{7} \\ \hline 4 4 7 \end{array}$$

$$\begin{array}{r} \boxed{4} 6 \boxed{9} \\ + 3 \boxed{3} 4 \\ \hline 8 0 3 \end{array}$$

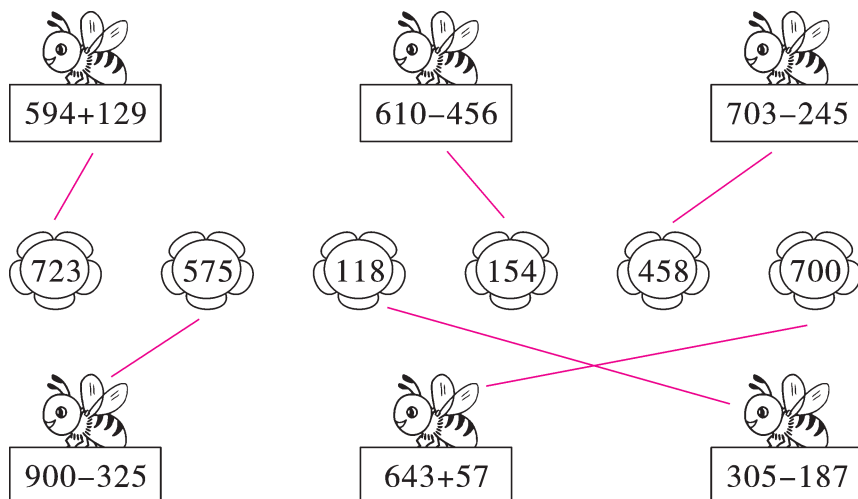
$$\begin{array}{r} \boxed{8} 4 5 \\ + \quad \boxed{6} 5 \\ \hline 9 1 0 \end{array}$$

二、夺智慧星。(在 ○ 里填上“>”或“<”)(8分)

$$\begin{array}{ccccc} \text{532-268} & < & 300 & & 236+384 & > & 600 \end{array}$$

$$\begin{array}{ccc} \text{205-106} & < & 100 \\ 406-395 & < & 111 \end{array}$$

三、小蜜蜂采花蜜。(连一连)(6分)



四、森林医生。(对的画“√”,错的画“×”并改正)(6分)

$$\begin{array}{r} 842 \\ - 216 \\ \hline 636 \end{array}$$

改正:

$$\begin{array}{r} 842 \\ - 216 \\ \hline 626 \end{array}$$

(×)

$$\begin{array}{r} 765 \\ - 168 \\ \hline 833 \end{array}$$

改正:

$$\begin{array}{r} 765 \\ - 168 \\ \hline 597 \end{array}$$

(×)

五、计算大本营。(31分)

1. 直接写出得数。(4分)

$$710-100=610 \quad 880-800=80 \quad 460-60=400 \quad 140-30=110$$

$$40+300=340 \quad 610-110=500 \quad 800-510=290 \quad 920-400=520$$

2. 用竖式计算,带※的要验算。(27分)

$$648+256=904$$

$$389+417=806$$

$$※625-578=47$$

$$\begin{array}{r} 648 \\ + 256 \\ \hline 904 \end{array}$$

$$\begin{array}{r} 389 \\ + 417 \\ \hline 806 \end{array}$$

$$\begin{array}{r} 625 \\ - 578 \\ \hline 47 \end{array} \quad \begin{array}{l} \text{验} \\ \begin{array}{r} 578 \\ + 47 \\ \hline 625 \end{array} \\ \text{算} \end{array}$$

$$\ast 800 - 473 = 327$$

$$708 - 169 = 539$$

$$\ast 724 + 179 = 903$$

$$\begin{array}{r} \overset{\cdot}{8} \overset{\cdot}{0} \overset{\cdot}{0} \\ - 473 \\ \hline 327 \end{array} \quad \text{验算}$$

$$\begin{array}{r} 473 \\ + 327 \\ \hline 800 \end{array}$$

$$\begin{array}{r} \overset{\cdot}{7} \overset{\cdot}{0} \overset{\cdot}{8} \\ - 169 \\ \hline 539 \end{array}$$

$$\begin{array}{r} 724 \\ + 179 \\ \hline 903 \end{array} \quad \text{验算}$$

$$\begin{array}{r} \overset{\cdot}{9} \overset{\cdot}{0} \overset{\cdot}{3} \\ - 724 \\ \hline 179 \end{array}$$

$$369 + 480 + 116 = 965$$

$$514 - 467 + 358 = 405$$

$$900 - 546 + 278 = 632$$

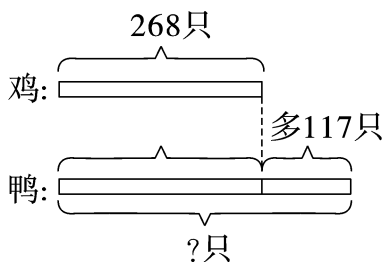
$$\begin{array}{r} 369 \\ 480 \\ + 116 \\ \hline 965 \end{array}$$

$$\begin{array}{r} \overset{\cdot}{5} \overset{\cdot}{1} \overset{\cdot}{4} \\ - 467 \\ \hline 47 \\ + 358 \\ \hline 405 \end{array}$$

$$\begin{array}{r} \overset{\cdot}{9} \overset{\cdot}{0} \overset{\cdot}{0} \\ - 546 \\ \hline 354 \\ + 278 \\ \hline 632 \end{array}$$

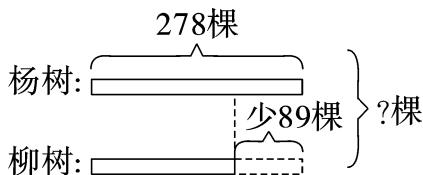
六、看图列式计算。(6分)

1.



【答案】 $268 + 117 = 385$ (只)

2.



【答案】 $278 - 89 + 278 = 467$ (棵)

七、解决问题。(27分)

1. 小啄木鸟比妈妈少捉了多少只害虫？(4分)

我捉了259只害虫。



我捉了308只害虫。

【答案】 $308 - 259 = 49$ (只)

答：小啄木鸟比妈妈少捉了 49 只害虫。

2. 希望小学举行为地震灾区捐款的活动。这两个年级一共捐了多少元钱？(4分)

【答案】 $437 - 108 + 437 = 766$ (元)



四年级捐了437元。

三年级比四年级少捐108元。




答：这两个年级一共捐了 766 元。

3. 森林里原来有 175 只鸟,黄昏时飞来了 426 只,晚上又飞走了 248 只。现在森林里有多少只鸟?(4 分)

【答案】 $175+426-248=353$ (只)

答:现在森林里有 353 只鸟。

4. 
- 我每分钟比花花多跳110下。
- 我每分钟可以跳120下。
- 我每分钟比花花少跳38下。
- 红红 花花 明明

- (1) 红红每分钟跳多少下?(4 分)

【答案】 $120+110=230$ (下)

答:红红每分钟跳 230 下。

- (2) 你还能提出什么数学问题? 自己提一提并解答。(4 分)

【答案】答案不唯一。如:明明每分钟跳多少下?

$120-38=82$ (下)

答:明明每分钟跳 82 下。

5. (创新题) 亮亮计算一个数减 487 时,将被减数的百位和十位上的数字看颠倒了,算得的结果是 172。正确的差应该是多少?

(7 分)

【答案】 $487+172=659$

$659-487=172$

答:正确的差应该是 172。