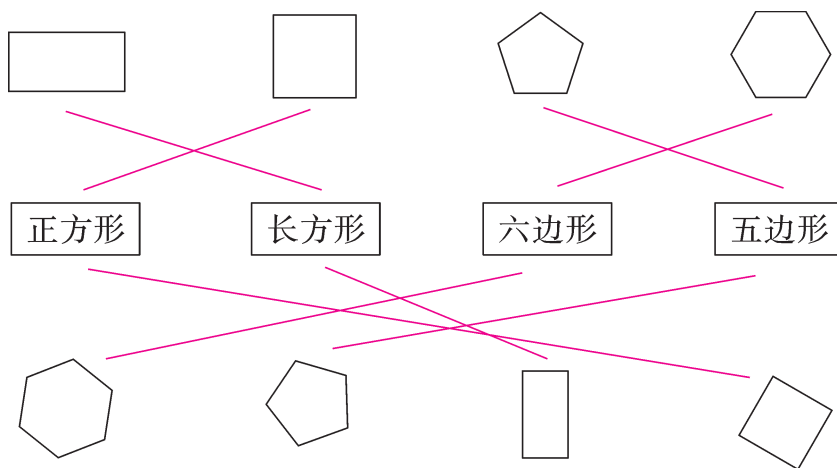


达标测试卷

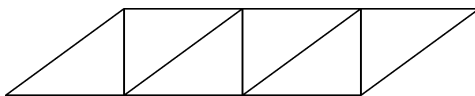
题号	一	二	三	四	五	六	七	八	总分
得分									

一、认一认,连一连。(8分)




二、想一想,填一填。(19分)

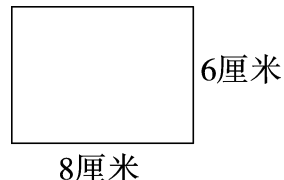
1. 长方形和正方形都有(四)条边、(四)个角,而且这些角都是(直)角。
2. 长方形的(对边)相等,正方形的(四条边)都相等。
3. 一个四边形的对边相等且四个角都是直角,这个四边形是(长方形)。
4. 右面图形中有(6)个平行四边形,有(6)个三角形,有(3)个长方形。
5. 填一填。



6. 信封里装的是个四边形,可能是(长方形或正方形)。



7. 右图是一个长方形。



- (1) 在图中画出一个最大的正方形,这个正方形的边长是(6)厘米。

- (2) 剩下的图形是一个长方形,这个长方形的长是(6)厘米,宽是(2)厘米。

- (3) 在剩下的图形里再画出一个最大的正方形,这个正方形的边长是(2)厘米。

三、我来判一判。(对的画“√”,错的画“×”)(10分)

1. 有四条边的图形一定是正方形。 (×)
2. 每条边都相等的四边形一定是正方形。 (×)
3. 五边形一定有五条边、五个角。 (√)
4. 长方形的对边相等,四个角都是直角。 (√)
5. 四个角都是直角的四边形一定是正方形。 (×)

四、我来选一选。(8分)


1. 把长方形的一个角剪掉,它可能变成(D)。

A. 三角形
B. 五边形

C. 四边形
D. 以上情况都有可能

2. 右边的图形是由(C)拼成的。

- A. 正方形
B. 三角形
- C. 三角形和正方形



3. 用哪根小棒能和已知的三根小棒拼成一个长方形? 正确的选项是(B)。



- A.
- B.
- C.

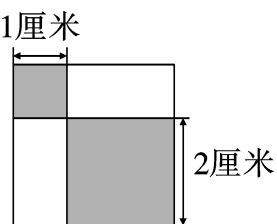
4. 右图中涂色部分是两个正方形,其中一个空白

长方形的长是(**B**)厘米,宽是(**A**)厘米。

A. 1

B. 2

C. 3



五、我来接着画。(10 分)

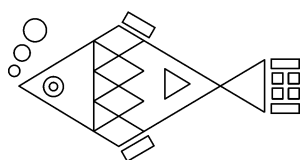

1. () () ()

2. () () ()

3.

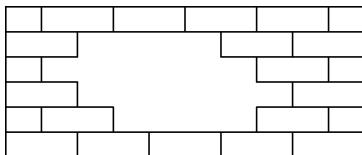
六、考考你的眼力。(18 分)

1. 数一数,填一填。(10 分)




图形	长方形	正方形	三角形	圆	平行四边形
个数	(5)个	(4)个	(17)个	(7)个	(5)个

2. 下面这面墙缺少几块 ? (3 分)



缺少(**10**)块。

3. 按要求涂一涂。(同一种图形涂成相同的颜色)(5 分)



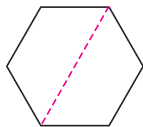
【答案】自己涂一涂,答案不唯一,如:给三角形涂成绿色,长方形涂成棕色,圆涂成灰色,正方形涂成红色,平行四边形涂成蓝色。

七、动手操作我最棒。(19 分)

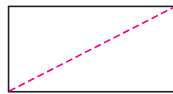
1. 把下面的图形按要求剪一剪。(9 分)



剪成一个三角形
和一个四边形。



剪成两个四边形。

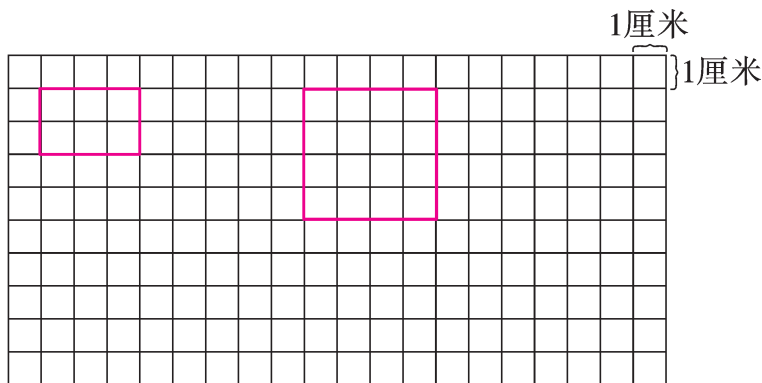


剪成两个三角形。

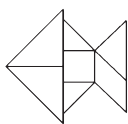
(方法均不唯一)

2. 在方格纸上按要求画图形。(10 分)

(1)长3厘米、宽2厘米的长方形。(2)边长是4厘米的正方形。



八、(创新题)想一想,下面用七巧板拼出的图案像什么? 你还能拼出什么图案?(8 分)



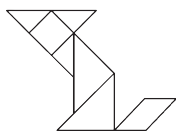
(鱼)



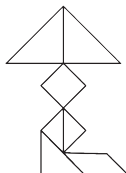
(蜡烛)



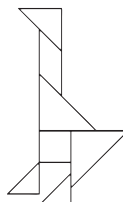
(船)



(小狗)



(台灯)



(小鸡)

(自己拼一拼)