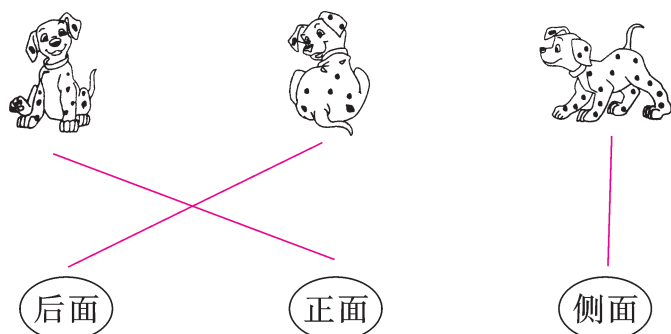


达标测试卷

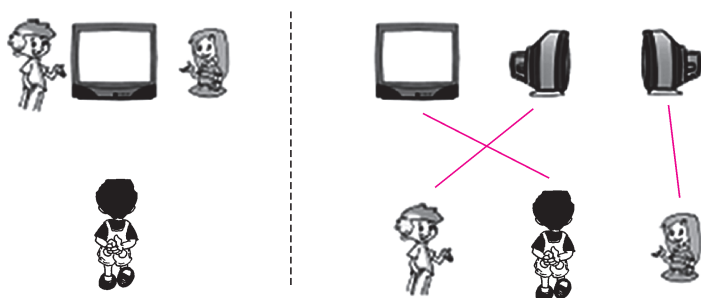
题号	一	二	三	四	五	六	总分
得分							

一、先仔细观察,再连一连。(20 分)


1. 下面的照片分别是从斑点狗的哪一面拍的?(6 分)



2. 他们分别看到的是哪面?(6 分)



3. 下面右边的照片分别是谁拍到的?(8 分)

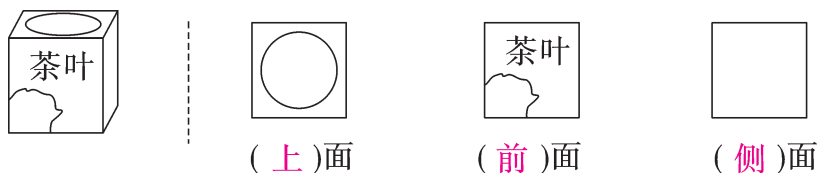


二、按要求做一做。(18 分)

1. 下面右边的图片分别是谁看到的？在括号里分别写上他们的名字。



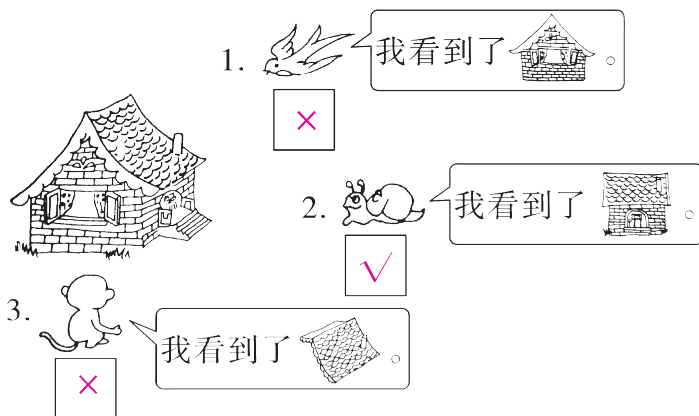
2. 这三张照片分别是从茶叶盒的哪个方位拍的？(填“上”“前”或“侧”)



3. 元元、贝贝和丽丽从不同的角度画画,右边的图分别是谁画的？在括号里写出他们的名字。




三、它们的说法对吗？对的画“√”，错的画“×”。(12 分)

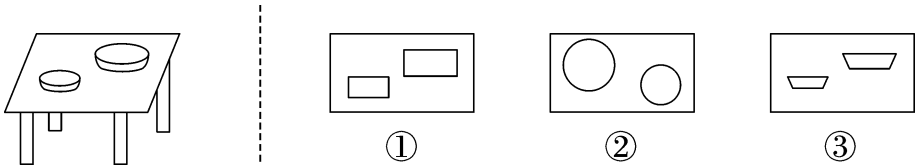


四、按要求选一选。(18 分)

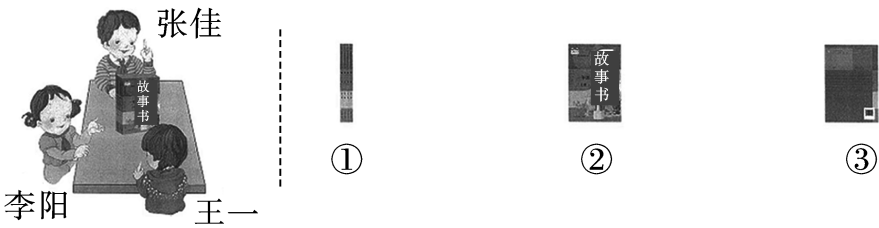
1. 下面右边的三幅图中,(①)号是小女孩看到的。



2. 饭桌上放了一大一小两个盘子,小明从桌子的上方往下看,看到的形状是(②)号图。

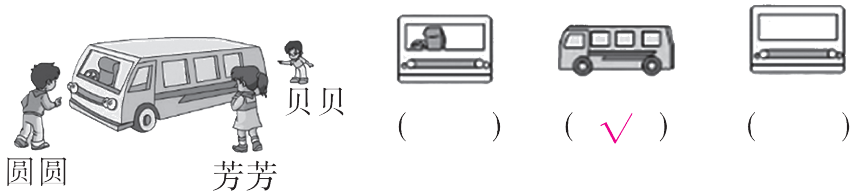


3. 下面右边的图片中,(③)号是张佳看到的。



五、按要求画一画。(24 分)


1. 芳芳看到的是哪幅图? 在下面画“√”。




2. 从电视的背面看,会看到哪幅图? 画“○”。从电视的侧面看,会看到哪幅图? 画“√”。



3. 下面右边的哪幅图是小刚画的? 在下面画“√”。



4. 小女孩从侧面观察小药箱,看到的是哪幅图? 在下面画“√”。



六、(创新题)桌子上放了一个茶壶,四个人从不同的方向看到了不同的形状。根据他们看到的形状,在他们所站的位置上写出他们的名字。(8分)

