

达标测试卷

题号	一	二	三	四	五	六	七	八	九	十	总分
得分											

一、直接写出得数。(6分)

$200+500=700 \quad 300+30=330 \quad 600+30=630 \quad 640-40=600$

$580-80=500 \quad 990-900=90 \quad 90+300=390 \quad 700+30=730$

$70+80=150 \quad 470-70=400 \quad 520-20=500 \quad 400+40=440$

二、填空。(17分)

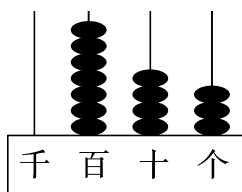
- 10个十是(一百), (10)个一百是一千。
- 586里面有(5)个百、(8)个十和(6)个一。
- 8个一和6个千合起来是(6008)。
- 7230是(四)位数,它是由(7)个千、(2)个百和(3)个十组成的。
- 一个数从右边数第三位是(百)位,第四位是(千)位,最低位是(个)位。
- 一个一个地数,1998后面连续两个数是(1999)和(2000)。
- 306的最高位是(百)位,这个数是由(3)个百和(6)个一组成的。
- 用0,0,6,9这四个数字组成四位数,最大的数是(9600),最小的数是(6009),只读一个零的数是(6009, 9006, 6090, 9060),一个零都不读的数是(6900, 9600)。
- 按规律填数。
 $254, 255, 256, (257), (258), (259)$ 。
 $4185, 4190, 4195, (4200), (4205), (4210)$ 。

2360, 2370, 2380, (2390), (2400), (2410)。

9101, 9202, 9303, (9404), (9505), (9606)。

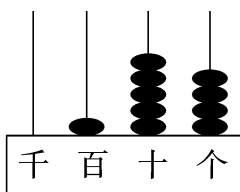
三、按要求完成下列各题。(共 12 分)

1. 写数和读数。(6 分)



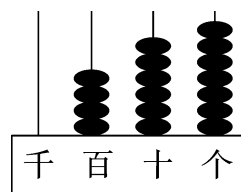
写作:(743)

读作:(七百四十三)



写作:(154)

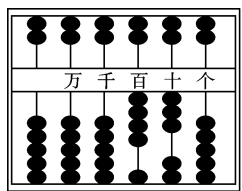
读作:(一百五十四)



写作:(467)

读作:(四百六十七)

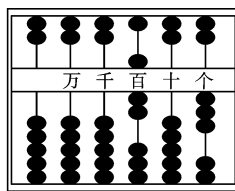
2. 先写数,再比较大小。(6 分)



(430)

(>)

(340)



(703)

(<)

(1000)

四、判断。(对的画“√”,错的画“×”)(5 分)

1. 三位数一定比四位数小。 (√)

2. 最大的三位数是 900。 (×)

3. 5009 是由 9 个千和 5 个一组成的。 (×)

4. 一万里面有 10 个百。 (×)

5. 444 中的 3 个“4”表示的意义是一样的。 (×)

五、下面的“3”各表示多少?(连一连)(4 分)

实验小学二年级共有学生 630 人。

大型的摩天轮大约能坐 340 人。

我们用肉眼能看到的星星大约有 3000 颗。

小明的身高是 13 分米。

3 个一

3 个十

3 个百

3 个千

六、在 里填上一个数字,使其组成的数最接近已给出的数。(8 分)

$$3 \text{ 7} < 380 \quad 138 < 13 \text{ 9} \quad \text{ 5} 78 < 678 \quad 3 \text{ 4} 6 < 350$$

$$\text{ 3} 84 > 363 \quad \text{ 8} 05 > 783 \quad 7 \text{ 1} 8 > 708 \quad \text{ 6} 63 > 563$$

七、按要求排列下面各数。(10 分)

1. 535 635 453 553 650

(453) < (535) < (553) < (635) < (650)

2. 2051 5102 2150 2510 5201

(5201) > (5102) > (2510) > (2150) > (2051)

八、写出下面各数的近似数。(4 分)

1. 一台电脑的价钱是 3997 元,约是(4000)元。
2. 一台冰箱的价钱是 3004 元,约是(3000)元。
3. 今年植树节,森林公园共栽了 5108 棵树,约是(5000)棵。
4. 小丽 5 分钟跳绳 485 下,约是(500)下。

九、鸭可能有多少只? 鹅可能有多少只?(鸭的只数画“○”,鹅的只数画“△”)(4 分)

		
我们比鸡少一些。	我们比鸡多得多。	我们有3000只。

961 只	6571 只	3023 只	2696 只
	○		△

十、走进生活。(30 分)

1. 新华书店运来故事书 830 本,第一天卖出了 30 本。还剩多少本?

【答案】 $830 - 30 = 800$ (本)

答:还剩 800 本。

2. 实验小学有篮球 2000 个。

(1) 足球的个数和篮球同样多。足球和篮球一共有多少个?

【答案】 $2000+2000=4000$ (个)

答:足球和篮球一共有 4000 个。

(2) 排球的个数比篮球少 1000 个,排球有多少个?

【答案】 $2000-1000=1000$ (个)

答:排球有 1000 个。

3. 幼儿园有 600 名小朋友,学校原来有 500 个苹果,又买来 90 个苹果。每人发 1 个苹果,够吗?

【答案】 $500+90=590$ (个) $590<600$ 不够

答:每人发 1 个苹果,不够。

4. 购物。



80 元



400 元



300 元



3400 元

买 1 盏台灯和 1 台饮水机一共需要多少钱? 1 台电脑比 1 个电饭锅贵多少钱?

【答案】 $300+80=380$ (元) $3400-400=3000$ (元)

答:买 1 盏台灯和 1 台饮水机一共需要 380 元钱,1 台电脑比 1 个电饭锅贵 3000 元钱。

5. (创新题)有 a, b, c, d 四个数,已知 $a>c, b>c, c>d, a<b$ 。你能推算出 a, b, c, d 分别是 2496, 2469, 2459, 2465 中的哪一个数吗?

【答案】由 $a>c, b>c, c>d, a<b$ 可知, $b>a>c>d$, 因为 $2496>2469>2465>2459$, 所以 $a=2469, b=2496, c=2465, d=2459$ 。