

达标测试卷

题号	一	二	三	四	五	六	七	八	九	总分
得分										

一、看口诀写两道乘法算式和两道除法算式。(12 分)

七九六十三

$$7 \times 9 = 63$$

$$9 \times 7 = 63$$

$$63 \div 7 = 9$$

$$63 \div 9 = 7$$

四八三十二

$$4 \times 8 = 32$$

$$8 \times 4 = 32$$

$$32 \div 4 = 8$$

$$32 \div 8 = 4$$

五九四十五


$$5 \times 9 = 45$$

$$9 \times 5 = 45$$


$$45 \div 5 = 9$$

$$45 \div 9 = 5$$


二、连一连。(8 分)




$$56 \div 7$$



$$9 \div 9$$



$$36 \div 9$$



$$49 \div 7$$



$$5$$



$$7$$




$$4$$



$$8$$




$$1$$




$$32 \div 4$$



$$1 \times 1$$



$$45 \div 9$$



$$28 \div 7$$

三、在 ○ 里填上“+”“-”“×”或“÷”。(6 分)

$$49 \bigcirc 7 = 7$$

$$42 \bigcirc 7 = 35$$

$$45 \bigcirc 5 = 50$$

$18 \bigcirc 2 = 9$

$36 \bigcirc 4 = 9$

$8 \bigcirc 8 = 64$

四、在 \bigcirc 里填上“>”“<”或“=”。(6分)

$54 \bigcirc 6 \times 7$

$56 \div 8 \bigcirc 6 \times 6$

$36 \bigcirc 45 + 7$

$35 \div 7 \bigcirc 25 \div 5$

$46 \bigcirc 4 + 50$

$61 - 34 \bigcirc 9 \times 3$

五、看谁先到家。(9分)



$25 \div 5 = 5$

$14 \div 7 = 2$

$32 \div 8 = 4$

$4 \div 4 = 1$

$36 \div 6 = 6$

$54 \div 9 = 6$



$42 \div 6 = 7$

$36 \div 9 = 4$

$40 \div 8 = 5$

$8 \div 8 = 1$

$21 \div 3 = 7$

$30 \div 5 = 6$



$72 \div 8 = 9$

$9 \div 3 = 3$

$16 \div 4 = 4$

$20 \div 5 = 4$

$45 \div 5 = 9$

$64 \div 8 = 8$




六、填表。(6分)

被除数	27	40	72	16	32	36
除数	3	5	9	8	4	9
商	9	8	8	2	8	4

七、看图列式计算。(8分)

1.



$3 \times 3 = 9$

$9 \div 3 = 3$



$$\boxed{4} \times \boxed{5} = \boxed{20} \text{ (或 } 5 \times 4 = 20) \quad \boxed{20} \div \boxed{4} = \boxed{5} \text{ (或 } 20 \div 5 = 4)$$

八、算一算。(8 分)

$72+8=80$

$45-9=36$

$36+6=42$

$32-8=24$

$8 \times 7 = 56$

$42 \div 6 = 7$

$36+8=44$

$54-30=24$

$6 \times 5 = 30$

$25 \div 5 = 5$

$5 \times 5 = 25$

$49+7=56$


$6 \times 6 = 36$

$64-8=56$

$40 \div 5 = 8$

$4 \times 5 = 20$

九、用数学。(37 分)

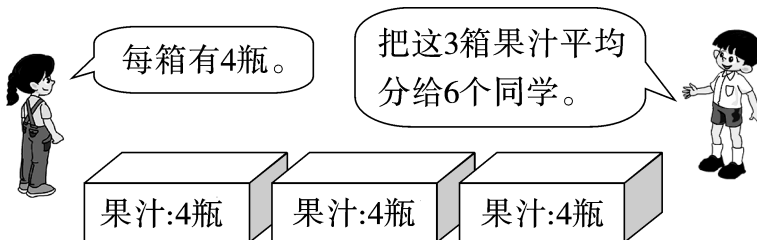
1. 用下面衣服的所有扣子,可以做多少件 ? (5 分)



【答案】 $4 \times 6 = 24$ (颗) 或 $6 \times 4 = 24$ (颗) $24 \div 3 = 8$ (件)

答:可以做 8 件 .

2. 每个同学分几瓶? (5 分)



【答案】 $3 \times 4 = 12$ (瓶) 或 $4 \times 3 = 12$ (瓶) $12 \div 6 = 2$ (瓶)

答:每个同学分 2 瓶。

3. 平均每个队分多少个球? (6 分)



【答案】 $10+14=24$ (个) $24 \div 4 = 6$ (个)

答:平均每个队分 6 个球。

4. 购物。(13 分)



9 元/碗





3 元/个



4 元/杯



18 元/个

(1) 买 1 个  所用的钱可以买几个  ? (3 分)

【答案】 $18 \div 3 = 6$ (个)

答: 买 1 个  所用的钱可以买 6 个  。

(2) 小明用 100 元买了 5 碗  后, 还剩多少钱? (4 分)

【答案】 $5 \times 9 = 45$ (元) 或 $9 \times 5 = 45$ (元) $100 - 45 = 55$ (元)

答: 还剩 55 元。

(3) 请你提出一个数学问题, 并解答。(6 分)

【答案】买 4 个  的钱可以买几杯  ?

$4 \times 3 = 12$ (元) 或 $3 \times 4 = 12$ (元) $12 \div 4 = 3$ (杯)

答: 买 4 个  的钱可以买 3 杯  。

5. (创新题)

如果把这些桃子平均分给 6 只猴子, 那么每只猴子分得几个?



48 个



又来了 2 只猴子, 现在把这些桃子平均分, 每只猴子分得几个?



(8 分)

【答案】 $48 \div 6 = 8$ (个) $6 + 2 = 8$ (只) $48 \div 8 = 6$ (个)

答: 如果把这些桃子平均分给 6 只猴子, 那么每只猴子分得 8 个; 又来了 2 只猴子, 现在把这些桃子平均分, 每只猴子分得 6 个。