

期末检测题(一)(A卷)(西师版)

(时间:60分钟 总分:100分)

一、计算。

1. 口算。(12分)

$35 + 8 =$

$25 - 7 =$

$53 - 50 =$

$61 - 7 + 5 =$

$20 + 70 =$

$88 - 20 =$

$60 + 24 =$

$54 - 8 - 40 =$

$7 + 78 =$

$79 - 10 =$

$40 + 30 =$

$89 - 50 + 20 =$

$54 - 9 =$

$37 - 8 =$

$5 + 26 =$

$4 + 39 - 10 =$

2. 用竖式计算。(16分)

$65 + 17 =$

$75 + 24 =$

$98 - 78 =$

$89 - 56 =$

$34 + 37 =$

$15 + 77 =$

$87 - 39 =$

$95 - 66 =$

二、填空。(10分)

1. 一个数的十位上是4,个位上是9,这个数是(     ),它后面的数是(     )。

2. 7个一和3个十合起来是(     ),4个十和5个一合起来是(     )。

3. 100里面有(     )个十,(     )个十是80。

4. 最小的两位数是(     ),最大的两位数是(     ),它们相差(     )。

5. 一个加数是15,另一个加数是3,两个数的和是(     )。

6. 减数是9,被减数是19,差是(     )。

7. 68里面的“6”在(     )位上,表示(     )个(     );“8”在(     )位上,表示(     )个(     )。

三、我会算。(16分)

$4\text{元} = (     )\text{角}$

$60\text{分} = (     )\text{角}$

$5\text{角}8\text{分} = (     )\text{分}$

$19\text{分} = (     )\text{角}(     )\text{分}$

$38\text{角} = (     )\text{元}(     )\text{角}$

$1\text{角}5\text{分} + 4\text{分} = (     )\text{角}(     )\text{分}$

$4\text{角} + 9\text{角} = (     )\text{元}(     )\text{角}$

$5\text{分} + 3\text{分} = (     )\text{分}$

$1\text{元} - 6\text{角} = (     )\text{角}$

$1\text{角}2\text{分} + 6\text{分} = (     )\text{分}$

$9\text{分} + 5\text{分} = (     )\text{角}(     )\text{分}$

四、按规律填数。(7分)

10	20			50					
			32	34		38			

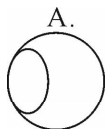
五、把 85、68、86、58、56 按从小到大顺序排列起来。(2 分)

六、在○里填上 >、< 或 =。(8 分)

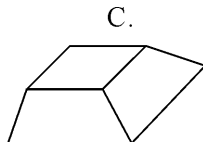
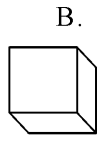
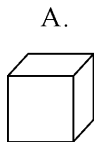
39 ○ 93      74 ○ 47      28 ○ 27      81 ○ 91  
91 ○ 89      88 ○ 87      100 ○ 99      36 ○ 63

七、我会选。(6 分)

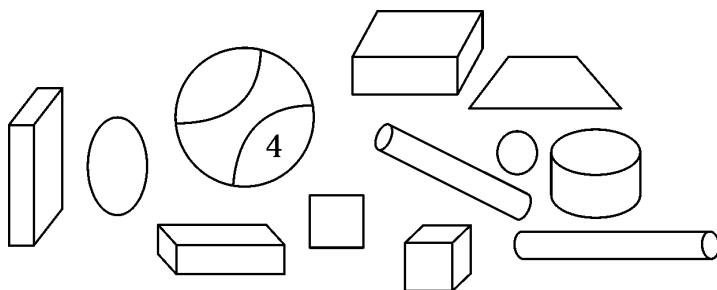
- 要买一个足球 15 元,付了 55 元,应找回( )。  
A. 40 元      B. 60 元      C. 6 元      D. 4 元
- 3 个一和 5 个十合起来是( )。  
A. 35      B. 31      C. 53      D. 50
- 与 69 相邻的数是( )。  
A. 67 和 68      B. 68 和 69      C. 69 和 70      D. 68 和 70
- 与  $14 - 6$  的得数不一样的算式是( )。  
A.  $16 - 8$       B.  $5 + 3$       C.  $15 - 8$       D.  $12 - 4$
- 是球体的有( )。






- 是正方体的有( )。



八、数一数,填空。(4 分)





正方体( )个,圆柱体( )个,球体( )个,长方体( )个。

九、(2分)  20个     10个     5个

1.  比  多多少个?

$$\square \bigcirc \square = \square$$

2.  比  少多少个?

$$\square \bigcirc \square = \square$$

十、解决问题。(6分)

1. 手工小组计划要做90件手工艺品。上午做了31件,下午要做多少才能完成预期的任务?


2. 小明有50元钱,买了一个书包花了34元,买了一本故事书花了8元,小明一共花了多少元钱? 还剩多少元?

十一、每种图形各代表几?(6分)

$$\begin{array}{r} 5 \quad \bigcirc \\ 1. \quad - \quad \triangle \quad 7 \\ \hline 1 \quad 9 \end{array}$$

$$\begin{array}{r} 6 \quad \square \\ 2. \quad - \quad \heartsuit \quad 5 \\ \hline 2 \quad 7 \end{array}$$

十二、看图回答问题。(5分)



小平要想超过小力,必须再跳几个?