

期末检测题(二)(B卷)(西师版)

(时间:60分钟 总分:100分)

一、计算。

1. 口算。(8分)

$15 - 6 =$	$24 + 5 =$	$48 + 4 =$	$73 - 30 + 5 =$
$63 - 7 =$	$18 + 50 =$	$92 - 9 =$	$50 + 16 - 8 =$
$68 + 2 =$	$80 - 30 =$	$79 - 70 =$	$17 + 6 + 8 =$
$25 + 8 =$	$44 + 30 =$	$21 - 6 =$	$43 - 8 - 30 =$

2. 用竖式计算。(8分)



$58 + 37 =$



$94 - 35 =$



$48 + 32 - 16 =$



$94 - 34 - 35 =$

二、填一填。(14分)

1. 6角 + 9角 = ()元()角
3元3角 - 5角 = ()元()角
2. 38里面有()个十和()个一。
3. 一张  可以换()张  ,也可以换()张  。

4. 填上你认为合适的数

	38	48			80	75		65	
--	----	----	--	--	----	----	--	----	--

 。

5. 小华有  ,小明有  ,小华给小明 ()个,两人苹果同样多。

三、比一比,在○里填上“>”“<”或“=”。(8分)

$35 + 7 \bigcirc 45$	$91 + 9 \bigcirc 100$
$46 + 7 \bigcirc 50$	$62 - 7 \bigcirc 53$
$79 \bigcirc 82$	$43 \bigcirc 29$
$48 + 9 \bigcirc 48 - 9$	$56 \bigcirc 56 - 8$

四、找规律,再填空。(8分)

1. $\square\square\square\square\square\square\square\square\square$ () ()。
2. 3、1、2、3、1、2、3、1、2、3、()、()。
3. $\bigcirc\bullet\bullet\bullet\bigcirc\bullet\bullet\bullet\bigcirc\bullet\bullet$ _____ \bullet _____。
4. 3、5、7、_____、_____、13、15。

五、我会判断。(正确的在()里打“√”,错误的在()里打“×”)(5分)

1. 一个数个位上是8,十位上是3,这个数是83。()
2. 34 读作:三十四。()
3. 上、下楼梯时,要靠右行。()
4. 最小的两位数是10。()
5. 比20 大得多,比100 小的数是21。()

六、我能行。(6分)

















1. 在 \bigcirc 里填“+”或“-”。(4分)
- $46\bigcirc20=66$

$40\bigcirc38>70$





$68\bigcirc9=59$

$58\bigcirc17<45$
2. 从小到大排列下面各数。(2分)
- 67 86 100 91 68 54 76

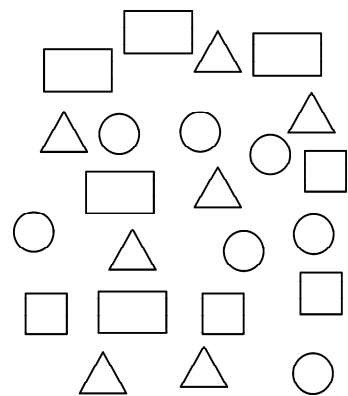
七、找一找。(5分)

				 在第3层的左数第4个
				 在第()层的左数第()
				 在第()层的右数第()个
				 在第()层的左数第()个。

八、填时间。(8分)

	
_____	_____
	
过10分是	过10分是
_____	_____

九、各种图形分别有多少个? (13 分)



1. 把整理的结果填在下表中。

图形					一共
个数					

2. 根据统计表填空。

()比()多()个。

()比()少()个。

()和()的个数一样多

十、解决问题。(11 分)

1. (2 分)

我有20个松果

我有36个松果

$\square \bigcirc \square = \square$ (个)

它们一共有多少个松果?

2. (3 分)

我班有37个男生

有30个女生

女生比男生少多少人?

$\square \bigcirc \square = \square$ (人)

3. (6 分)

布娃娃	小汽车	机器人	自动电车	球
13元	30元	10元	20元	7元

(1) 你想买哪两种玩具,需要花多少元钱?

$\square \bigcirc \square = \square$ (元)

(2)  比  贵多少元钱?

$$\square \bigcirc \square = \square \text{ (个)}$$

(3) 你还能提出什么问题(不用解答)

十一、应用题。(6 分)

1. 工人叔叔修路,第二天比第一天多修 14 米,第一天修 62 米,第二天修路多少米?

2. 小兰今年 9 岁,妈妈今年 36 岁,妈妈和小兰相差多少岁?