

河北省部分市县期末调研真题精选

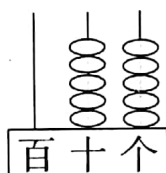
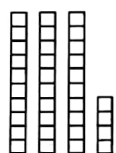
(十一) 沧州市泊头市调研试题

题号	一	二	三	四	总分
得分					

tián yì tián

一、填 一 填。(22分)

1. 数一数,认一认。



()个十和()个位上是(),十位上
个一是()。是(),写作()。

2. 写数。

写出 76 到 81 之间的数();

写出大于 87 小于 92 的数()。

3. 一张  可以换()张  和()张 .

4.     

一共()元()角

5. 在 80、24、48、62、95、33 这些数中,最大的数是(),最接近 50 的数是
(),比 62 小得多的数是(),比 24 大一些的数是()。

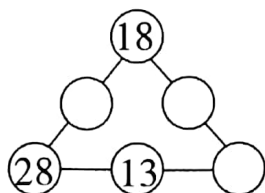
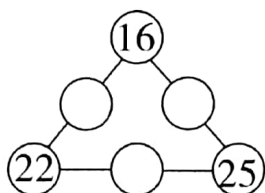
6. 比 36 多 30 的数是(),比 54 小 26 的数是()。



7. 一个数减去 33 是 47, 这个数是()。

一个数加上 24 是 42,这个数是()。


8. 在○里填上合适的数,使每条边上的三个数相加都等于 50。





zuò yì zuò

二、做一做。(20分)

1. 看图说位置。



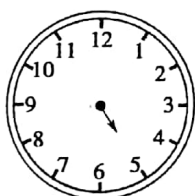
 在  的 () 边。

在的（ ）边。


在 的 () 边。

在 的 () 边。


2. 在下面的钟面上画上分针。



5:00



11:30



3:00



8:30

3. 按规律接着涂

(1) 

(2)

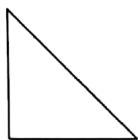
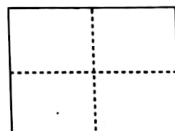
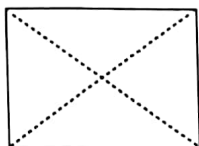
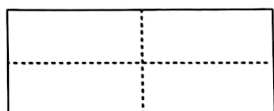
4. 按自己确定的规律涂色。

(1) 

(2) 



5. 它们折出来是什么样子？连一连。



suàn yì suàn

三、算 一 算。(24 分)

1. 用自己喜欢的方法计算。

① $43 + 7 =$

② $28 + 8 =$

③ $56 - 8 =$

④ $70 - 12 =$

⑤ $68 - 8 =$

⑥ $20 + 60 =$

⑦ $77 - 17 =$

⑧ $66 + 30 =$

⑨ $57 - 5 =$

⑩ $48 + 10 =$

⑪ $36 + 14 =$

⑫ $45 - 9 =$

2. 列竖式计算。

① $51 + 36$

② $47 + 28$

③ $61 - 32$

④ $77 - 38$

shēng huó zhōng de shù xué

四、生 活 中 的 数 学。(34 分)

1.

我拔了36个萝卜。



小白

我拔了28个萝卜。



小黑

我拔了32个萝卜。



小灰

(1) 小黑和小灰一共拔了多少个萝卜？

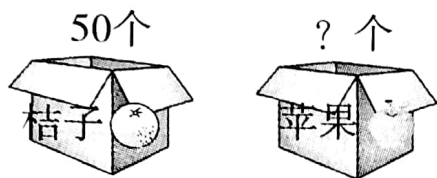
$\square \bigcirc \square = \square$



(2) 小黑比小白少拔多少个萝卜?

$$\square \bigcirc \square = \square$$

2. 妈妈买来一箱苹果和一箱桔子。



(1) 吃了 32 个桔子, 还剩多少个桔子?

$$\square \bigcirc \square = \square$$

(2) 吃了 26 个苹果, 还剩下 18 个, 这箱苹果原来有多少个?

$$\square \bigcirc \square = \square$$



	第一次	第二次
小红	44	39
小亮	38	35

(1) 小红两次一共踢了多少次?

$$\square \bigcirc \square = \square$$

(2) 小亮第一次比第二次多踢多少次?

$$\square \bigcirc \square = \square$$

(3) 我提的问题:

