

第二单元检测题

时间:60 分钟

书写等级:_____

质量等级:_____

题 号	一	二	三	四	五	六	七	总 分
分 数								


一、填一填。(共 19 分)

1. 先圈一圈,再填空。

(1) 

11 只虾,每 5 只排一队,能排成()队,还剩()只。

$$11 \div 5 = \square (\text{队}) \cdots \cdots \square (\text{只})$$

(2) 

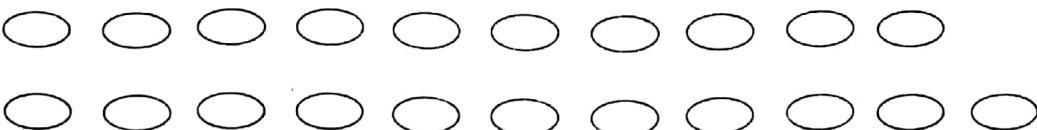
15 只雪糕,平均分给 7 个小朋友,每个小朋友分得()只,还剩()只。

$$15 \div 7 = \square (\text{只}) \cdots \cdots \square \text{只}$$

2. $50 \div 8 = (\quad) \cdots \cdots (\quad)$,被除数是(),除数是(),商是(),余数是()。

$$3. 38 \div 6 = 6 \cdots \cdots (\quad) \quad (\quad) \div 7 = 5 \cdots \cdots 2$$


4. 一个数除以 6 有余数,余数最大的是(),最小是()。

5. 

可以组成多少个五环?

$$(\quad) \div (\quad) = (\quad) (\text{个}) \cdots \cdots (\quad) (\text{个})$$

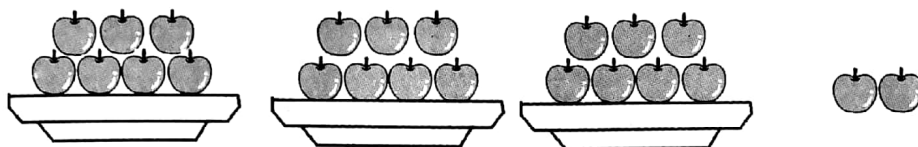




6 个放一组,可以放几组?

() \div () = () (组) \cdots () (个)

7. 看图计算。



$23 \div 3 =$ _____ (个) \cdots _____ (个)

$23 \div 7 =$ _____ (盘) \cdots _____ (个)


8. 看图填空。



$14 \div 3 =$ _____ (堆) \cdots _____ (个)

$14 \div 4 =$ _____ (个) \cdots _____ (个)

二、按要求分类。(共 10 分)



三、判断,对的打“√”,错的打“×”。(共 6 分)

1. 在 $\square \div \square = 8 \cdots 4$ 中,除数一定是 6。 ()

2. 在 $\square \div 7 = 6 \cdots \square$ 中,余数一定是 6。 ()

3. 20 台电视,每次最多运 6 台,全部运完,至少要运 4 次。 ()

四、选择正确答案填在()内。(共 9 分)

1. 在有余数的除法里,余数和除数相比较,()。

A. 余数小

B. 除数小

C. 一样大

2. $38 \div 8 =$ ()

A. $4 \cdots 6$

B. $5 \cdots 2$

C. $6 \cdots 4$



3. 下面算式,余数是3 的是()。

A. $48 \div 5$

B. $22 \div 4$

C. $36 \div 7$

五、分析试做。(共 16 分)

1. 下列算式中,商和余数相等,被除数可以是哪些数?

() \div 3 = () ()

() \div 4 = () ()

() \div 5 = () ()

2. 下列算式中,除数最小是几? 被除数最小是几?

() \div () = 4 4

() \div () = 2 8

() \div () = 9 3

六、用竖式计算下面各题。(共 12 分)

$33 \div 4 =$

$55 \div 6 =$

$85 \div 9 =$

$68 \div 7 =$

七、解决问题。(共 28 分)

1. 一块布料长 80 米。



每9米剪一段,可以剪成几段,
还剩几米?

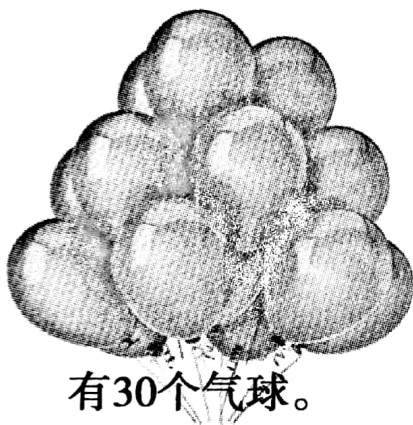


2.



一个星期有7天，三月份有31天，合几个星期零几天？

3.



有30个气球。



每4个扎成一把，可以扎成几把？还剩几个气球？

4.



8角

拿5元钱最多可以买几枝？

5. 45个皮球装在盒子里，每盒装6个，至少需要几个盒子？

