

# 第三单元检测题

时间:60 分钟

书写等级:\_\_\_\_\_

质量等级:\_\_\_\_\_

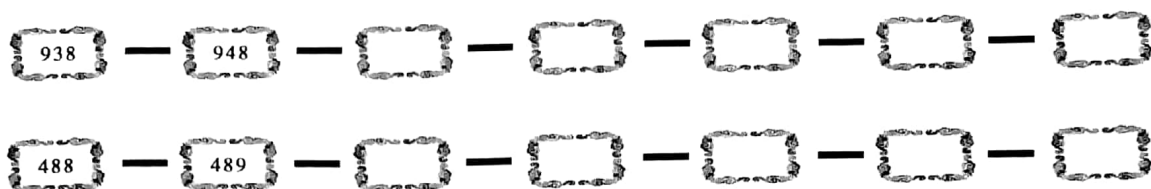
题 号	一	二	三	四	五	六	七	总 分
分 数								

## 一、填空题。(共 40 分)

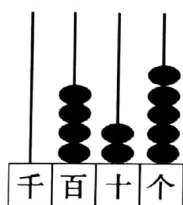
1. 一个一个地数,10 个一是( );一百一百地数,10 个一百是( )。
2. 一千里里面有( )个十。
3. 比 999 多 1 的数是( );比 900 少 1 的数是( )。
4. 与 899 相邻的两个数是( )和( )。
5. 308 中的“3”在( )位上,表示( ),“8”在( )位上,表示( )。
6. 380 是由( )个百和( )个十组成的。
7. 由 8 个百和 9 个一组成的数是( )。
8. 最小的四位数是( ),最大的三位数是( ),它们相差( )。
9. 一个最高位是千位的数是( )位数。
10. 用 3、5、0 组成的最大三位数是( ),最小三位数是( )。
11. 909 后面的三个数是( )( )( )。
12. 到本单元为止,我们学过的计数单位有( )、( )、( )、( )。



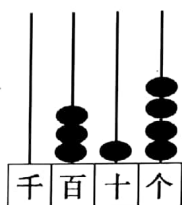
13. 在括号内填上合适的数。



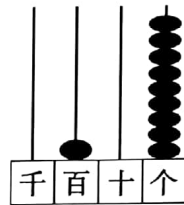
14. 看算盘, 认数。



写作 ( )  
读作 ( )



写作 ( )  
读作 ( )



写作 ( )  
读作 ( )

## 二、判断对错。(共 10 分)

1. 六百零二写作 60002。 ( )
2. 个位上的 5, 十位上的 5, 百位上的 5, 意思相同, 都表示“5”。 ( )
3. 十个十个地数, 数 100 次是 1000。 ( )
4. 432 是由 4 个一, 3 个十, 2 个百组成的。 ( )
5. 比 1000 小的数有 1000 个。 ( )

## 三、对号入座。(共 8 分)

1. 下面的数中, ( ) 比 899 大。  
①799                      ②800                      ③900
2. 所有的四位数都比三位数 ( )。  
①大                      ②小                      ③不能比较
3. 比 679 小 1 的数是 ( )。  
①680                      ②679                      ③678
4. 用 4, 6, 9 组成一个最大的三位数是 ( )。  
①999                      ②694                      ③964



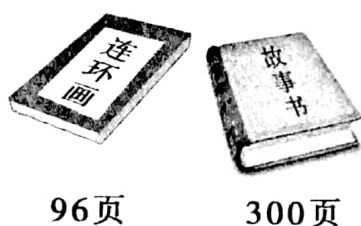
#### 四、按要求组数。(共9分)

从9,0,8,5中选三个数字组成不同的三位数。

1. 组成最大的三位数是\_\_\_\_\_。
2. 组成的三位数中,只读一个零的数是\_\_\_\_\_,一个零都不读的数是\_\_\_\_\_。
3. 个位上是0,百位上是最大的一位数,十位上的数字是5的1倍,这个数是\_\_\_\_\_。

#### 五、在你认为合适的答案下面画“√”。(共9分)

1.



我有一本书,比《连环画》厚很多,比故事书薄一些。



小明

小明的书可能有多少页?

100	370	270
<input type="checkbox"/>	<input type="checkbox"/>	<input type="checkbox"/>

2.



二年级有200人。

三年级的人数比二年级的少很多。



三年级可能有多少人

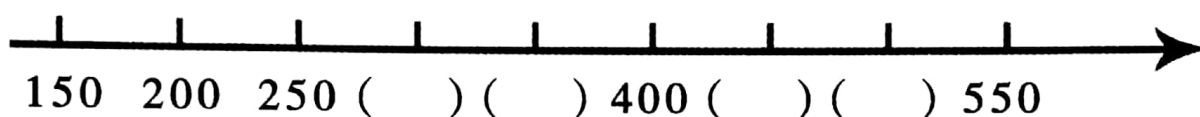
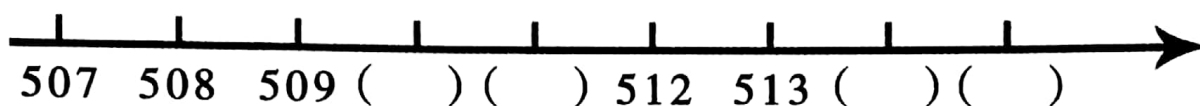
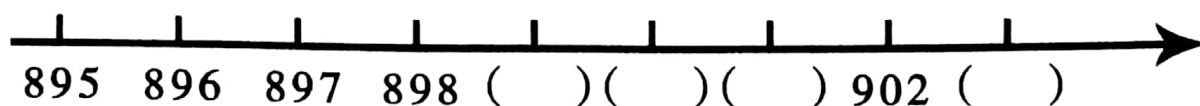
80	180	280
<input type="checkbox"/>	<input type="checkbox"/>	<input type="checkbox"/>

3. 下面哪个数和800最接近?

798	684	806	870
<input type="checkbox"/>	<input type="checkbox"/>	<input type="checkbox"/>	<input type="checkbox"/>



## 六、写一写。(共12分)



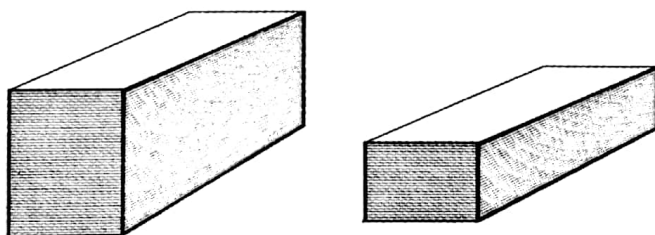
## 七、解决问题。(共15分)

1.



一个三位数，百位上的数字是最小的一位数，十位上的数字是百位上数字的三倍，个位上的数字是百位上的数字的8倍，这个数是多少？

2. 估一估。



我知道右边的那摞纸约有150张，请你估一估左边的那摞纸大约有多少张？

