

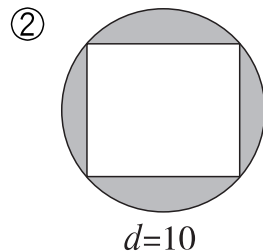
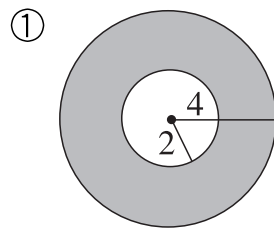
一、计算。

① 在一个圆中,已知 $r=6$ 分米,求 d, C, S 。

② 在一个圆中,已知 $d=100$ 厘米,求 C, S 。

③ 在一个圆中,已知 $C=28.26$ 分米,求 r, S 。

二、求阴影部分的面积。(单位:分米)

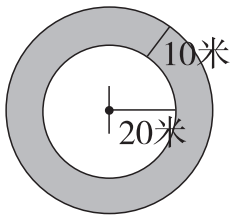


单元口算能力自我检测

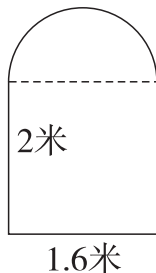
三、解决问题。

① 一头牛被一根长 3 米的绳子拴在一片草地上, 这头牛能吃到草地的面积最大是多少平方米?

② 文化广场中间是一个圆形的喷水池, 在喷水池的周围是花圃, 花圃面积有多大?



③ 李师傅做了如下一扇门, 请计算这扇门的面积。



④ 求下面光盘的面积。

