

# 第五单元综合测试卷

时间：60分钟

满分：100分

题号	一	二	三	四	五	六	七	总分
得分								

wǒ shì shén suàn shǒu

## 一、我是神算手。(12分)

$$\begin{array}{l} 3+7= \\ 6-6= \\ 4+5= \end{array}$$

$$\begin{array}{l} 10-8= \\ 2+6= \\ 7-5= \end{array}$$

$$\begin{array}{l} 0+6= \\ 9-3= \\ 5+5= \end{array}$$

$$\begin{array}{l} 8-1= \\ 0+0= \\ 4+4= \end{array}$$

wǒ huì tián

## 二、我会填。(32分)

1. 在○里填上“>”“<”或“=”。(12分)

$9 \bigcirc 5$

$10 \bigcirc 3+6$

$7 \bigcirc 7+0$

$0 \bigcirc 10$

$5 \bigcirc 8-2$

$6 \bigcirc 3+3$

$10-4 \bigcirc 7$

$2+7 \bigcirc 9$

$9-9 \bigcirc 2$

$5+4 \bigcirc 8-1$


$10-0 \bigcirc 3+7$

$9-7 \bigcirc 8-6$


2. 小兔过荷塘。(8分)



=



=

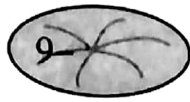


=

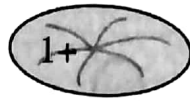




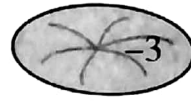
=



=



=



3. 看谁跑得快。(12分)



$$3 \xrightarrow{+7} \square \xrightarrow{-4} \square \xrightarrow{-2} \square \xrightarrow{+5} \square$$



$$9 \xrightarrow{-2} \square \xrightarrow{-5} \square \xrightarrow{+6} \square \xrightarrow{+2} \square$$



$$5 \xrightarrow{+4} \square \xrightarrow{-8} \square \xrightarrow{+7} \square \xrightarrow{-6} \square$$

wǒ huì lián

三、我会连。(8分)

6-6

4

4+6

2+8

0

2+5

4+3

10

10-10

9-5

7

3+1

huà yì huà huà yì huà tián yì tián

四、画一画，划一划，填一填。(12分)

1. ☆☆☆☆ \_\_\_\_\_

4+( )=8

2. \_\_\_\_\_ ○○○○○○

( )+6=9



3. 

$$7 - ( \quad ) = 5$$

4. 

$$10 - ( \quad ) = 3$$

kàn tú fēn bié xiě chū liǎng dào jiā fǎ suàn shì hé liǎng dào jiǎn fǎ suàn shì  
五、看图分别写出 两 道加法算式和 两 道减法算式。(16分)

1.



$$\square \bigcirc \square = \square$$

$$\square \bigcirc \square = \square$$

$$\square \bigcirc \square = \square$$

$$\square \bigcirc \square = \square$$

2.



$$\square \bigcirc \square = \square$$

$$\square \bigcirc \square = \square$$


$$\square \bigcirc \square = \square$$

$$\square \bigcirc \square = \square$$

kàn tú liè shì jì suàn

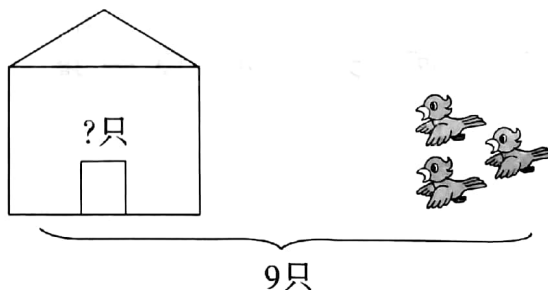
六、看图列式计算。(12分)

1.



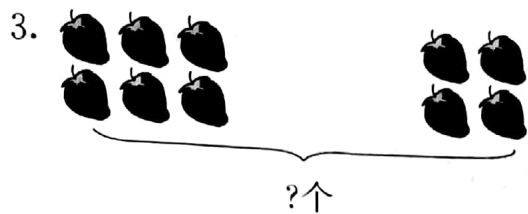
$$\square + \square = \square$$

2.



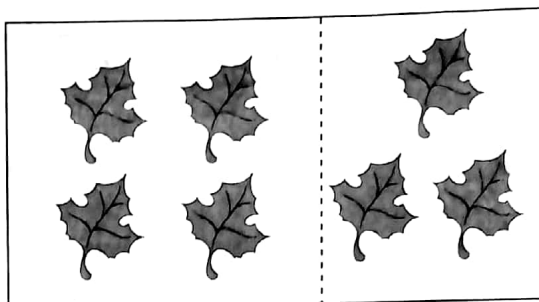
$$\square \bigcirc \square = \square$$





$$\square \bigcirc \square = \square$$

4.




$$\square - \square = \square$$

jiějuéwèn tí

## 七、解决问题。(8分)

### 1. 小猫钓鱼。



吃了3条，还剩5条，  
我钓了几条鱼呢？

### 2. 一共有多少棵小树？



$$\square \bigcirc \square = \square \quad ( \quad )$$

