



# 第八单元知识考点梳理卷



时间：60分钟

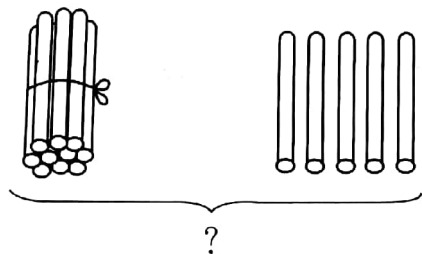
满分：100分

单元考点	基本概念与性质
10 加几、十几加几	1. 10 加几的计算方法：可以借助小棒计算，也可以利用数的组成计算，10 加几得十几。 2. 十几加几的计算方法：计算时，十位上的数字不变，只把个位上的数字相加。
进位加法	1. 9 加几的计算方法：可以用点数法，接数法，“凑十”的方法计算，其中“凑十”的方法比较简便。 2. 8 加几的计算方法：用“凑十”法计算，一般用“折小数，凑大数”方法比较简便。 3. 7、6 加几的计算方法：一般用“凑十”的方法。
连加	1. 意义：三个或三个以上的数相加的算式。 2. 计算方法：要按从左到右的顺序计算。


## ★ 知识点一 10 加几、十几加几

kàn tú liè jiā fǎ suàn shì

### 一、看图列加法算式。(10 分)



$$\square + \square = \square$$



$$\square + \square = \square$$



suàn yì suàn

## 二、算一算。(8分)

$10+7=$

$12+3=$

$18+1=$

$5+10=$

$11+8=$



$15+4=$

$2+10=$

$14+3=$

lián yì lián

## 三、连一连。(10分)



## ★ 知识点二 进位加法

xiǎng yì xiǎng tián yì tián

## 四、想一想，填一填。(18分)

$$\begin{array}{r} 9 + 6 = \square \\ \begin{array}{c} \diagup \quad \diagdown \\ 1 \quad \square \\ \hline \square \end{array} \end{array}$$

$$\begin{array}{r} 8 + 5 = \square \\ \begin{array}{c} \diagup \quad \diagdown \\ \square \quad \square \\ \hline 10 \end{array} \end{array}$$

$$\begin{array}{r} 7 + 6 = \square \\ \begin{array}{c} \diagup \quad \diagdown \\ \square \quad \square \\ \hline \square \end{array} \end{array}$$

$$\begin{array}{r} 6 + 8 = \square \\ \begin{array}{c} \diagup \quad \diagdown \\ \square \quad \square \\ \hline \square \end{array} \end{array}$$

$$\begin{array}{r} 9 + 9 = \square \\ \begin{array}{c} \diagup \quad \diagdown \\ \square \quad \square \\ \hline \square \end{array} \end{array}$$

$$\begin{array}{r} 8 + 7 = \square \\ \begin{array}{c} \diagup \quad \diagdown \\ \square \quad \square \\ \hline \square \end{array} \end{array}$$



zhí jiē xiě chū dé shù

五、直接写出得数。(8分)

$6+7=$

$9+3=$

$8+4=$

$5+9=$

$7+9=$

$8+5=$

$3+8=$

$7+7=$

zài tiánshàng

huò

六、在○填上“>”“<”或“=”。(6分)

$9+5 \bigcirc 15$

$7+6 \bigcirc 12$

$11+6 \bigcirc 17$

$3+8 \bigcirc 6+6$

$5+7 \bigcirc 4+8$

$14+3 \bigcirc 16+2$

tú yì tú

七、涂一涂。(9分)

$7+9$

$6+6$

$5+8$

$12+1$

$10+6$

$3+9$

$7+5$

$7+6$

$8+8$

把得数相同的涂上同一种颜色。



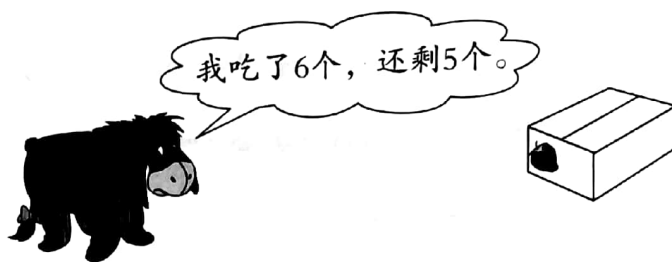
jiě jué wèn tí

八、解决问题。(10分)

1. 参加演出的同学来了9人,还差5人,参加演出的一共有多少人?



2. 这盒草莓共有多少?



**知识点三** 连加

xiǎng yi xiǎng tián yi tián

九、想 一 想 , 填 一 填。(16 分)

2	$\xrightarrow{+5}$		$\xrightarrow{+9}$		7	$\xrightarrow{+4}$		$\xrightarrow{+5}$	
3	$\xrightarrow{+3}$		$\xrightarrow{+7}$		8	$\xrightarrow{+3}$		$\xrightarrow{+7}$	
4	$\xrightarrow{+6}$		$\xrightarrow{+3}$		9	$\xrightarrow{+1}$		$\xrightarrow{+9}$	
5	$\xrightarrow{+2}$		$\xrightarrow{+8}$		10	$\xrightarrow{+6}$		$\xrightarrow{+4}$	

hé lǐ yuán lái yǒu zhī yā zi xiān yóu lái zhī yā zi yòu yóu lái zhī yā zi xiàn  
十、河 里 原 来 有 5 只 鸭 子 , 先 游 来 3 只 鸭 子 , 又 游 来 4 只 鸭 子 , 现

zài hé lǐ yī gòng yǒu duō shǎo zhī yā zi

在 河 里 一 共 有 多 少 只 鸭 子 ? (5 分)

