

第九单元知识考点梳理卷

时间：60分钟

满分：100分

单元考点	基本概念与性质
不退位减法	十几减几不退位减法的计算方法：只把个位上的数字相减，十位上的数字不变。
退位减法	十几减几退位减法的计算方法：“点数法”“破十法”“平十法”和“想加算减法”，其中“破十法”和“想加算减法”比较简便。
连减、加减混合	1. 连减的意义：三个或三个以上的数连续相减就是连减。 2. 连减算式的计算方法：按照从左到右的顺序依次计算。 3. 加减混合的意义：一个算式里既有加法又有减法叫加减混合运算。 4. 加减混合运算的计算方法：按照从左到右的顺序依次计算，先算出前面两个数相加（或相减）的得数，再用所得的数与第三个数相减（或相加）。

★ 知识点一 不退位减法

xiǎng yi xiǎng tián yi tián

一、想一想，填一填。（12分）

$$\begin{array}{r}
 18 \\
 \swarrow \quad \searrow \\
 \square \quad \square \\
 \downarrow \quad \downarrow \\
 \square \quad \square
 \end{array}
 - 5 = \square$$

$$\begin{array}{r}
 15 \\
 \swarrow \quad \searrow \\
 \square \quad \square \\
 \downarrow \quad \downarrow \\
 \square \quad \square
 \end{array}
 - 2 = \square$$

$$\begin{array}{r}
 19 \\
 \swarrow \quad \searrow \\
 \square \quad \square \\
 \downarrow \quad \downarrow \\
 \square \quad \square
 \end{array}
 - 6 = \square$$

$$\begin{array}{r}
 17 \\
 \swarrow \quad \searrow \\
 \square \quad \square \\
 \downarrow \quad \downarrow \\
 \square \quad \square
 \end{array}
 - 5 = \square$$



wǒ huì suàn

二、我会算。(8分)

$19-8=$

$15-3=$

$17-5=$

$16-5=$

$17-7=$




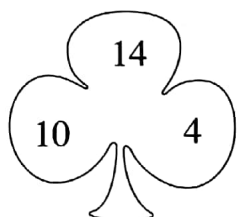
$18-6=$

$13-2=$

$14-3=$

zhào yàng zi tián xiě

三、照样子填写。(8分)



bǎ

zhè sì gè shù fēn bié tián zài xià miàn de

lǐ shǐ děng shì chéng lì

四、把3、4、15、16这四个数分别填在下面的□里,使等式成立。



(每个数只能用一次)(6分)

$$\square - \square = \square - \square$$

wán tiào shéng

五、玩跳绳。(6分)

小杰跳了多少下?

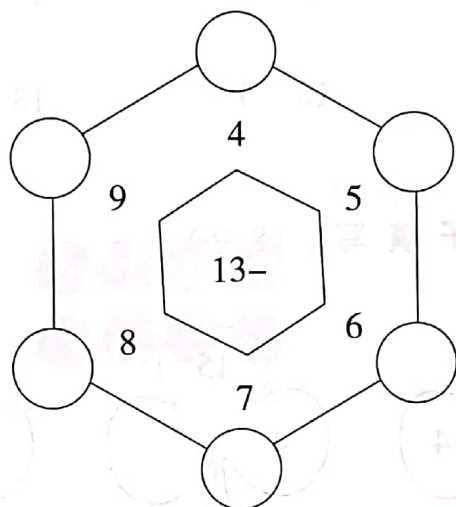
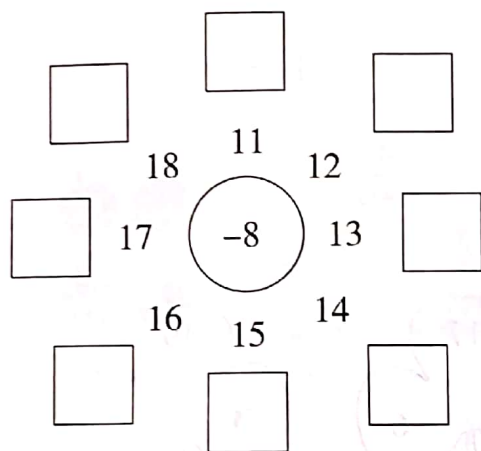


小东

$$\square \bigcirc \square = \square (\text{下})$$



wǒ shì jì suàn xiǎo néng shǒu
六、我是计算小能手。(14分)



wǒ néng zhāi xià zhè xiē huā
七、我能摘下这些花。(9分)

$14 - \square = 8$

$12 - \square = 5$

$11 - \square = 7$

$16 - \square = 7$

$15 - 9 = \square$


$17 - 8 = \square$

$19 - \square = 10$


$13 - \square = 6$

$15 - 7 = \square$

kàn tú liè shì jì suàn
八、看图列式计算。(10分)



$\square \bigcirc \square = \square$ (个)



$\square \bigcirc \square = \square$ (个)



fēi jī chǎng yǒu jià fēi zǒu le jià hái shèng duō shǎo jià
九、飞机场有14架飞机，飞走了8架，还剩多少架？(7分)



$$\square \bigcirc \square = \square \text{ (架)}$$

知识点三 连减、加减混合

suàn yì suàn lián yì lián

十、算一算，连一连。(12分)

$$17-8-6$$

$$14-9-1$$

$$15-9-0$$

$$16-7-2$$

$$4$$

$$6$$

$$7$$

$$3$$

$$7+8-9$$

$$13-8+2$$

$$7+6-9$$

$$11-6-2$$

míng tóng xué zhàn chéng yì duì zuò cāo xiǎo míng de zuǒ biān yǒu rén xiǎo
十一、13名同学站成一队做操，小明的左边有8人，小

míng de yòu biān yǒu jǐ rén

明的右边有几人？(8分)

$$\square \bigcirc \square \bigcirc \square = \square \text{ (人)}$$

改错区

