

第七单元知识考点梳理卷

时间：60分钟

满分：100分

单元考点	基本概念与性质
认、读、写 11~20 各数	1. 11~20 各数的读法:11~19 各数的个位上是几就读十几;20 读作二十。 2. 11~20 各数的写法:按照 10 以内数的写法,先在田字格的左半格写十位上的数,再在田字格的右半格写个位上的数。
11~20 各 数的组成	1. “一(个)”和“十”都是计数单位。 2. 十几是由 1 个十和几个一组成的,个位上是几,就有几个一。
比较 20 以 内数的大小	比较 20 以内数的大小的方法:比较 20 以内数的大小的方法与比较 10 以内数的大小的方法相同,可以用对应法进行比较,也可以根据数的顺序进行比较。



知识点一 认、读、写 11~20 各数

wǒ huì tián kòng

一、我会填空。(16分)

- 最小的两位数是()。
- 12 前面的一个数是(),17 后面的一个数是()。
- 与 19 相邻的两个数是()、()。
- 从 10 数到 20,可以()个()个地数:10,12,14,16,18,20。也可以 5 个 5 个地数:10、()、20。




kàn tú xiě shù zài dú shù

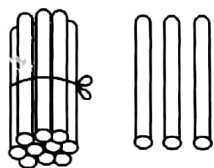
二、看图写数,再读数。(12分)



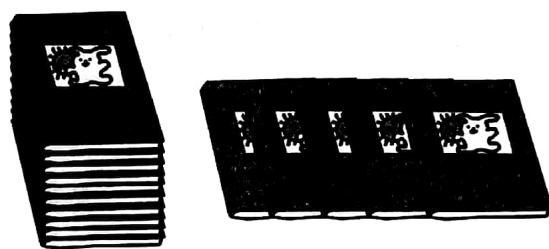
()个 读作: _____



()个 读作: _____



()个 读作: _____



()个 读作: _____

àn yào qiú xiě shù

三、按要求写数。(12分)

1. 写出和 15 相邻的两个数: _____

2. 写出 20 前边的 6 个数: _____

3. 写出比 9 大比 18 小的数: _____

4. 写出 11 后边 5 个数: _____

★ 知识点二 11~20 各数的组成

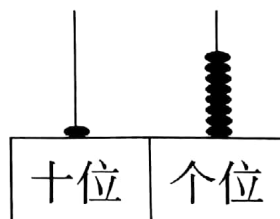
kàn tú tián kòng

四、看图填空。(6分)

个位上是(),表示有()个一。

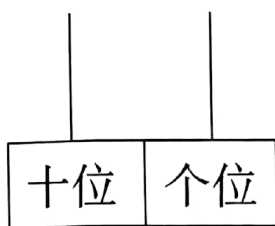
十位上是(),表示有()个十。

这个数写作(),读作()。

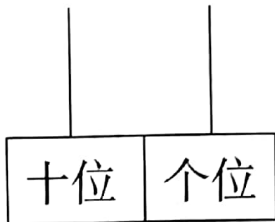


wǒ huì huà

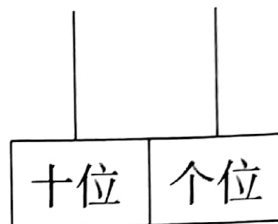
五、我会画。(9分)



15



12




20

wǒ zhī dào

六、我知道。(12分)

1. 一个两位数,十位上的数是1,个位上的数比十位上的数大3,这个两位数是多少?

2. 猜一猜。



我家的门牌号十位上是比5小4的数,个位上的数比十位上的数大6,你知道哪个是我的家吗?



知识点三 比较 20 以内数的大小

七、在○里填上“>”“<”或“=”。(18分)

19 ○ 16

11 ○ 11

13 ○ 12



$18 \bigcirc 15$

$14 \bigcirc 10$

$16 \bigcirc 20$

$13 \bigcirc 17$

$20 \bigcirc 19$

$15 \bigcirc 11$

wǒ huì jiě jué wèn tí

八、我会解决问题。(15分)

1. 小朋友们排队,第一队有10人,第二队有12人,又来了6人,怎样分,才能使两队的人数同样多。

2.

我的年龄比10大,但比15小。



小明

则小明最大可能是几岁? 最小可能是几岁?

改错区

