



第三单元知识考点梳理和综合测试卷



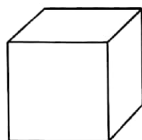

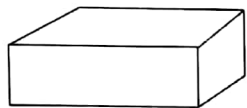
时间：60分钟

满分：100分

单元考点	基本概念与性质
认识图形	<ol style="list-style-type: none">1. 长方体：长长方方的，有6个平平的面，面有大有小。2. 正方体：四四方方的，有6个平平的面，所有面大小一样。3. 圆柱：直直的，上下一样粗，两头是圆圆的、平平的面。4. 球：像玻璃球一样，没有平面，整个表面都是圆圆的。

kàn yi kàn lián yi lián

一、看一看，连一连。(16分)




正方体

球

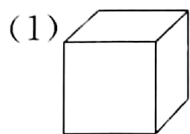
圆柱

长方体

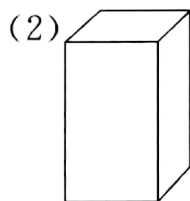


二、我爱动脑筋。(20分)

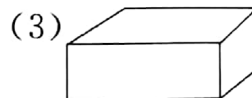
1. 在长方体的下面画“○”。



()

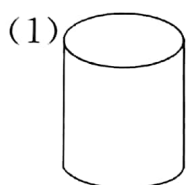


()

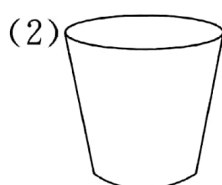


()

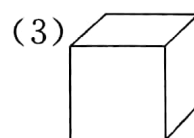
2. 在圆柱的下面画“△”。



()



()

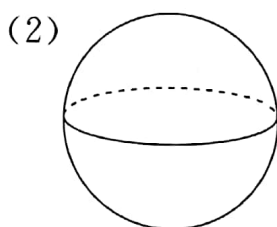


()

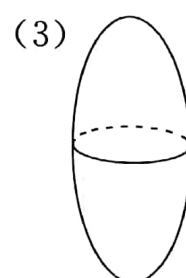
3. 在球的下面画“√”。



()

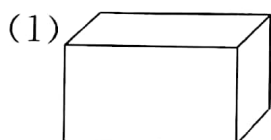


()

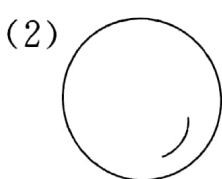


()


4. 在滚得最快的下面画“□”。



()



()



()



pàn yì pàn

三、判一判。(对的打“√”,错的打“×”)(15分)

1. 楼梯的扶手是长方体。 ()

2.  这是一个正方体。 ()

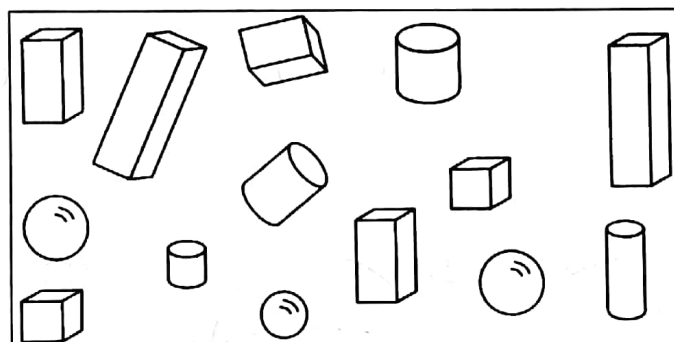
3. 长方体和正方体都有6个面。 ()

4. 长方体比正方体大。 ()

5. 玻璃球是球。 ()

wǒ huì shù

四、我会数。(14分)

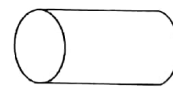
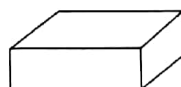
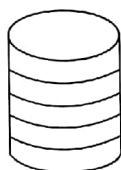
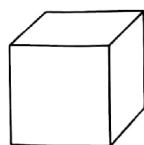


1. 一共有()个图形,正方体有()个,长方体有()个,圆柱有()个,球有()个。



2. ()最多,()最少。

kàn tú huí dá wèn tí




五、看图回答问题。(16分)



1. 从左数起,第3个是()体,第()个是.

2. 从右数起,排在第()个,排在第()个。

3. 圈出从左数的第五个物体,它是()。

4. 图中有()个,()个,()个.

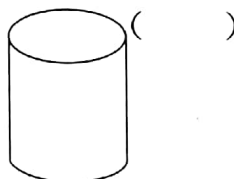
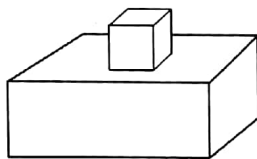
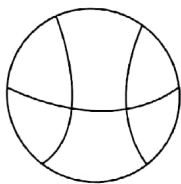
zài bǎi de duì de kuò hào lǐ huà

六、在摆的对的括号里画“√”。(19分)

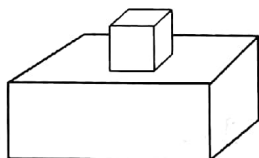
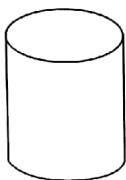


先放一个长方体,再在它左边放一个球,上面放一个正方体,右边放一个圆柱。

1.



2.



改错区

