



# 第四单元知识考点梳理和综合测试卷



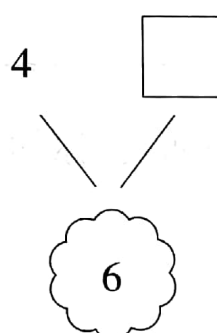
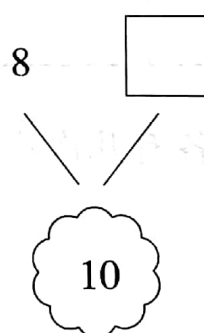
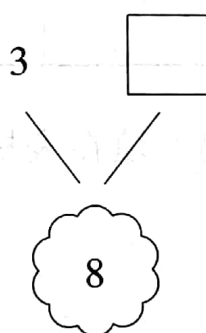
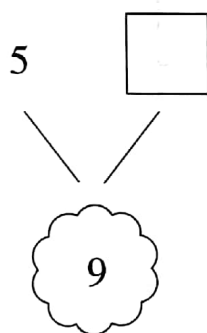




时间：60分钟

满分：100分

单元考点	基本概念与性质
合与分	一个数(0 和 1 除外), 可以分成两个比它小的数; 反过来, 分成的两个数也能合成这个数, 例如, 10 能分成 1 和 9, 1 和 9 能合成 10; 6 能分成 2 和 4, 2 和 4 能合成 6。

xiǎng yi xiǎng xiě yi xiě

## 一、想一想, 写一写。(16 分)



huà yi huà tián yi tián

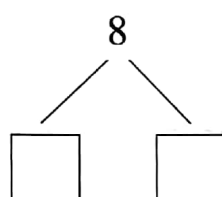
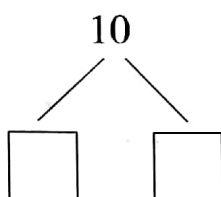
## 二、画一画, 填一填。(20 分)

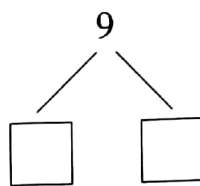
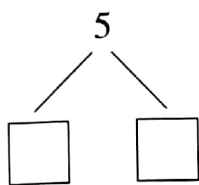
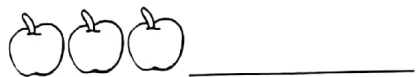


\_\_\_\_\_



\_\_\_\_\_





lián yi lián

三、连一连。(8分)

3和4

3和2

6和2

1和6

7和3

4和4

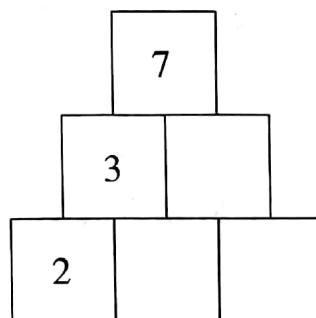
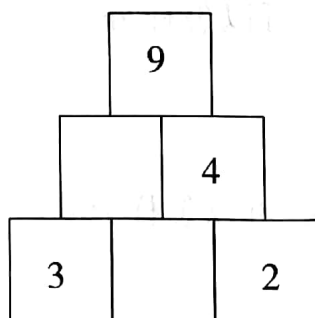
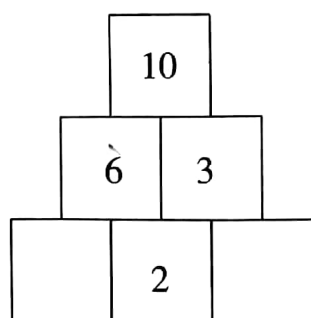
1和4

2和8

把合起来相同的  
连在一起哟!

zhǎo guī lǜ tián yì tián

四、找规律,填一填。(7分)



## 五、我会猜数。(8分)

1. 我和 4 能合成 9,我是( )。
2. 10 能分成 2 和我,我是( )。
3. 我和 3 能合成 7,我是( )。
4. 8 能分成 1 和我,我是( )。

## 六、涂一涂。(9分)

1. 涂出两种颜色,使它们合在一起是 6。

--	--	--	--	--	--	--	--	--	--

2. 涂出两种颜色,使它们合在一起是 8。

--	--	--	--	--	--	--	--	--	--

3. 涂出两种颜色,使它们合在一起是 4。

--	--	--	--	--	--	--	--	--	--

## 七、我会分。(21分)

1. 同桌两人分 10 个蓝色小球,可以怎样分?
2. 把 7 个苹果分给两个小朋友,可以怎样分?








3. 有 9 个萝卜,分给下面 2 只小兔,有几种分法?(每只小兔至少 1 个)



sēn lín yùn dòng huì

# 八、森林运动会。(11 分)

小动物们举行套圈比赛,每只小动物有 10 次机会,它们套中的成绩如下:

				
5 次	9 次	1 次	3 次	7 次

小朋友,你知道它们各有几次没套中吗? 填在表格中吧!

