



第五单元知识考点梳理卷



时间：60分钟

满分：100分

单元考点	基本概念与性质
加法和减法	<p>1. 加法的含义：把两部分合起来，求一共是多少，用加法计算。</p> <p>2. 减法的含义：从总数里面去掉一部分，求剩余部分是多少，用减法计算。</p> <p>3. 加法的一图两式：一般情况下，根据一幅图可以写出两道加法算式。可以先确定图中的两个加数分别是几，写出一道算式后，再交换加号两边的数的位置得到另一道算式。</p>
10 以内的加减法	<p>1. 10 以内的加减法的计算方法：根据数的合起来计算。</p> <p>2. “∶”是虚线，表示将总数分成两部分，去掉其中的一部分，求另一部分，用减法计算。一般情况下，根据一幅图可以写出两道减法算式。</p> <p>3. 一图四式：一般情况下，根据一幅图可以写出相关联的两道加法算式和两道减法算式。</p> <p>4. “—”是大括号，表示把两部分合起来；“?”是问号，表示题中所求的问题。“?”在“—”的下面，表示把两部分合起来，求总数，用加法计算；“?”在“—”上面的一侧，表示已知总数与其中的一部分，求另一部分，用减法计算。</p>
0 的加减法	一个数与 0 相加或相减，仍得这个数。



知识点一 加法和减法

zhào yàng zi xiān huà yì huà zài tián shù

一、照样子，先画一画，再填数。(10分)

$2+1=3$

$3+2=$

$2+2=$

○○ ○

$1+3=$

$4+1=$

$2+3=$



kàn tú xiě suàn shì

二、看图写算式。(8分)



$$\square + \square = \square$$

$$\square + \square = \square$$



$$\square + \square = \square$$

$$\square + \square = \square$$

xiān zhào yàng zi huà yì huà zài tián shù

三、先照样子划一划,再填数。(12分)



$$3 - 2 = \square$$



$$2 - 1 = \square$$



$$4 - 1 = \square$$



$$5 - 3 = \square$$

wǒ huì suàn

四、我会算。(16分)

$$3 - 2 =$$

$$4 - 1 =$$

$$2 + 1 =$$

$$3 + 1 =$$

$$5 - 3 =$$

$$2 + 2 =$$

$$2 + 3 =$$

$$4 - 3 =$$

$$1 + 4 =$$

$$2 - 1 =$$

$$3 - 1 =$$

$$3 + 2 =$$

$$1 + 1 =$$

$$4 - 2 =$$

$$5 - 4 =$$




$$5 - 2 =$$



知识点二 10 以内的加减法


lián yì lián còuchéng

五、连一连，凑成 10。(10 分)



kàn tú lièshì jì suàn

六、看图列式计算。(12 分)




$$\square - \square = \square$$

? 个




9 个

$$\square - \square = \square$$



? 只

$$\square + \square = \square$$



$$\square + \square = \square$$

kànshuísuànde yòukuàiyòuduì

七、看谁算得又快又对。(8 分)

$10 - 3 =$

$8 - 4 =$

$9 - 1 =$

$6 - 5 =$

$3 + 4 =$

$8 + 2 =$

$5 + 3 =$

$6 + 4 =$



八、我会解决问题。(12分)

1. 地上一共有 7 只小花, 右边有 4 朵, 左边有几朵?



2. 两只猴子一共摘下了几个小桃子?

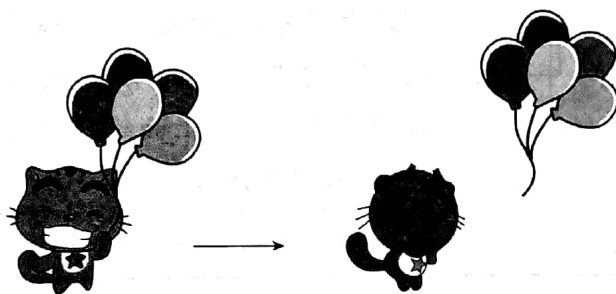
知识点三 0 的加减法

kàn tú tián shù

九、看图填数。(12分)



$$4 + \square = \square$$



$$\square - \square = \square$$

