

第四单元 达标测试卷

时间:90 分钟 满分:100 分

题号	一	二	三	四	五	六	七	总分	智慧园
得分									

lián yi lián

一、连一连。(28 分)

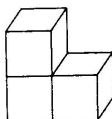
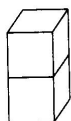
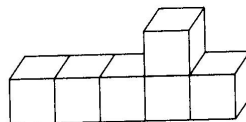
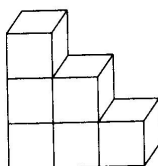
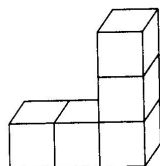
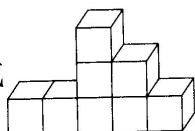
1. 认一认,连一连。(16 分)



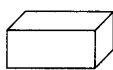
长方体 正方体 圆柱 球



2. 哪两堆积木可以拼成 ? 用线连起来。(12 分)



tián yì tián
二、填一填。(6分)



1. 从左边起,第()个是正方体,第()和()个是圆柱。

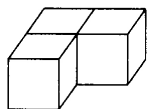
2. 容易滚动的是第()个,第()个和第()个。

xuǎn zé
三、选择。(10分)

1. 对长方体的特征描述正确的是()。

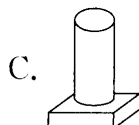
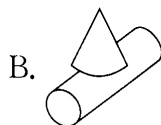
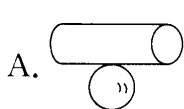
- A. 能滚动
- B. 四四方方的,有6个平平的面,面的大小一样
- C. 两头圆圆的
- D. 长长方方的,有6个平平的面,面有大有小

2. 下图由()个小正方体组成。

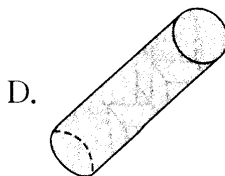
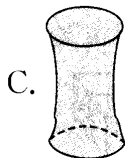
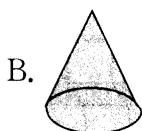


- A. 2
- B. 3
- C. 5

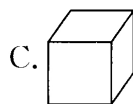
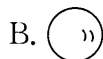
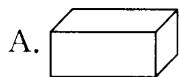
3. 下列()最容易放稳。



4. 下列图()是圆柱。



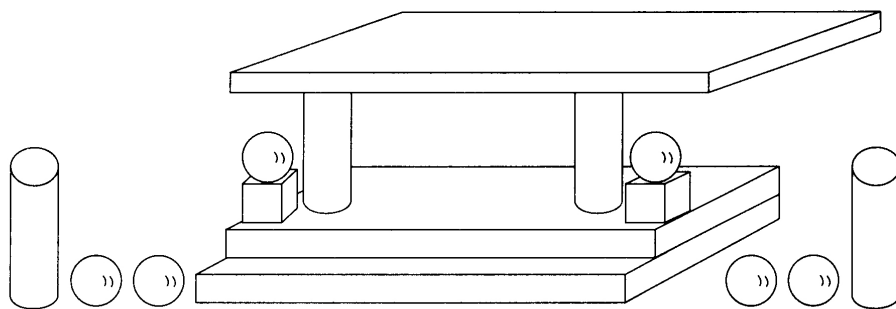
5. 下列图()最易滚动。



shǔ yì shǔ tián yì tián

四、数一数，填一填。(30分)

1. 看图填一填。(10分)




(1) 长方体()个, 圆柱()个, 正方体()个, 球()个。

(2) ()最多, ()最少。

(3) 长方体和正方体一共有()个。

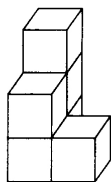
2. 拼一拼，填一填。(8分)



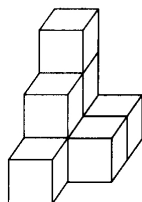
(1) 用4个同样的 \square 可以拼成一个()。

(2) 拼成一个大正方体至少需要()个 \square 。

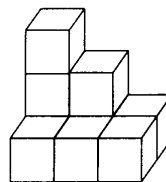
3. 下面图形中各有多少正方体?(12分)



()个

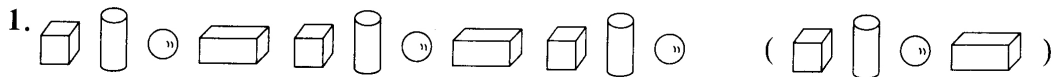


()个

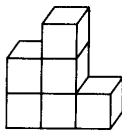
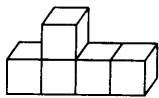
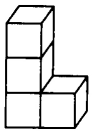


()个

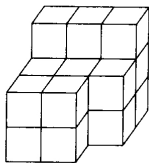
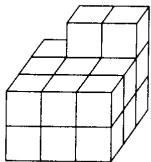
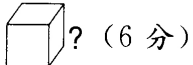
jiē zhe bǎi shén me quān chū zhèng què dá àn
五、接着摆什么？圈出正确答案。（8分）



nǎ liǎng duī jī mù kě yǐ pīn chéng yòng xiàn lián qǐ lái
六、哪两堆积木可以拼成  ？用线连起来。（12分）



yào pīn chéng yí gè dà zhèng fāng tǐ xià miàn de tú xíng zhì shǎo hái xū yào jǐ gè
七、要拼成一个大正方体，下面的图形至少还需要几个



还需要()个 还需要()个。



fù jiā tí
八、附加题。（10分）

下面是一个正方体纸盒的展开图，如果再把它折成一个正方体，3号的对面是()号，2号的对面是()号，1号的对面是()号。

