

①考生要写清校名、班级和姓名。
②请勿在试卷上做任何标记。
③字迹清楚，卷面整洁。

注意事项

姓名

班级

学校

线

封

密

人教版·数学·一年级·上册

第五单元 达标测试卷

时间:90 分钟 满分:100 分

题号	一	二	三	四	五	六	七	八	总分	智慧园
得分										

kàn tú xiě shù

一、看图写数。(4 分)





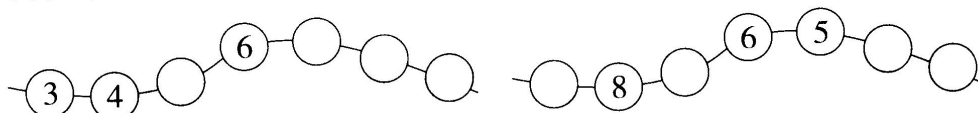




tián kòng

二、填空。(34 分)

1. 找规律填一填。(4 分)



2. 填一填。(2 分)

(1) 和 7 相邻的两个数是()和()。

(2) 从 0 数到 9, 一共数了()个数。

3. 数一数, 填一填。(2 分)



☺比♡多(), ♡比☺少()。

4. 圈一圈, 涂一涂。(4 分)



(1) 圈出左边的 8 片叶子, 圈出右边的 9 片叶子。

(2)从左边数起,把第9片叶子涂上绿色;从右边数起,把第7片叶子涂上个红色。

5. 把每一行中得数和其他不一样的算式用“\”划去。(4分)










$10-7$	$9-6$	$8-5$	$6-3$	$5-1$	$7-4$
--------	-------	-------	-------	-------	-------

$3+6$	$5+4$	$2+7$	$10-1$	$8+0$	$4+5$
-------	-------	-------	--------	-------	-------

6. 在○里填上“+”或“-”。(9分)

$8 \bigcirc 6 = 2$	$2 \bigcirc 8 = 10$	$9 \bigcirc 5 = 4$
$2 \bigcirc 2 = 4$	$4 \bigcirc 3 = 7$	$7 \bigcirc 3 = 10$
$7 \bigcirc 2 = 5$	$4 \bigcirc 4 = 8$	$10 \bigcirc 1 = 9$

7. 在○里填上合适的数。(9分)

 + 3 = 8	 - 6 = 3	5 +  = 6
 - 4 = 4	5 +  = 9	 + 6 = 8
 + 3 = 9	7 +  = 10	10 -  = 7

kǒu suàn

三、口算。(12分)

$4+4=$	$8-3=$	$4+2+3=$	$2+8-5=$
$9-2=$	$2+6=$	$2+0+8=$	$9-4+3=$
$4+5=$	$9-6=$	$10-5-2=$	$6-4+5=$
$8-7=$	$3+5=$	$9-1-7=$	$9-2-3=$

yòng nǐ xǐ huān de yán sè tú yì tú

四、用你喜欢的颜色涂一涂。(8分)

(1)把右边4个涂上红色。



(2)从左边数起,把第4朵涂上颜色;从右边数起,把第8朵涂上颜色。




- ① 考生要写清校名、班级和姓名。
② 请勿在试卷上做任何标记。
③ 字迹清楚，卷面整洁。

注意事项

姓名

班级

学校



把数量少的那一行涂上颜色。



bǎ dé shù xiāng děng de suàn shì lián yì lián
五、把得数相等的算式连一连。(8分)


3+4	5+5	3+5	8-3
9-3	6-5	9-5	0+9
6+4	9-2	7-2	2+2
8-7	3+3	10-1	4+4

cóng zhōng xuǎn chū gè shù xiě chū liǎng dào jiā fǎ suàn shì hé liǎng
六、从 3、9、8、5、4 中选出 3 个数，写出两道加法算式和两

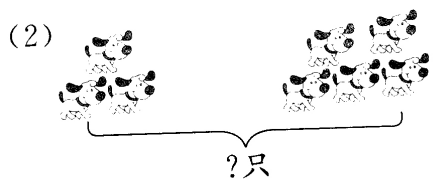
dào jiǎn fǎ suàn shì
道减法算式。(4分)

$\square + \square = \square$	$\square + \square = \square$
$\square - \square = \square$	$\square - \square = \square$

kàn tú liè shì jì suàn
七、看图列式计算。(18分)

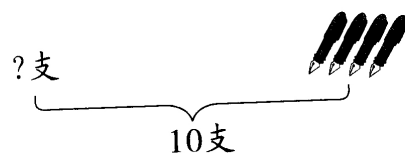


$\square \bigcirc \square = \square$	$\square \bigcirc \square = \square$
$\square \bigcirc \square = \square$	$\square \bigcirc \square = \square$



?只

$$\square \bigcirc \square = \square \text{ (只)}$$



?支

$$\square \bigcirc \square = \square \text{ (支)}$$



$$\square \bigcirc \square \bigcirc \square = \square \text{ (只)}$$

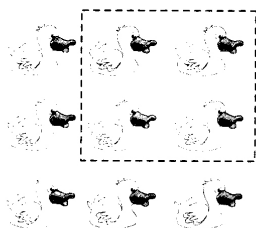


$$\square \bigcirc \square \bigcirc \square = \square \text{ (个)}$$

jiě jué wèn tí

八、解决问题。(12分)

1. 一共有9只小鸭。



还剩几只?

$$\square \bigcirc \square = \square \text{ (只)}$$




2.



一共有几朵蘑菇?

$$\square \bigcirc \square = \square \text{ (朵)}$$

3.



一共有多少只小鸡?

$$\square \bigcirc \square = \square \text{ (只)}$$

fù jiā tí

九、附加题。(10分)

请你将5、3、10、2这四个数填入下面的方框,并组成两个得数相等的算式。

$$\square + \square = \square - \square$$

$$\square + \square = \square - \square$$